



PROCESO  
ADMISIÓN  
2022





## MODELO CON PREGUNTAS VIGENTES

### INTRODUCCIÓN

Este modelo fue publicado durante el Proceso de Admisión 2019.

Para que lo puedas usar este año hemos marcado las preguntas que están dentro del temario para la admisión 2022 y las que están fuera de dicho temario.

Las preguntas que están dentro del temario actual se han marcado con . Aquellas que están fuera de dicho temario llevan una , para que no te confundas y puedas utilizar solo las preguntas que están vigentes.

# 2019




# MODELO DE HGYCS - 2019

Registro de propiedad intelectual N° 292793 — 2018  
Universidad de Chile.  
Derechos reservados ©. Prohibida su reproducción total o parcial.


# MODELO DE HGYCS - 2019

## ESPACIO GEOGRÁFICO

1.  Acorde con la división político-administrativa del territorio chileno, ¿cuál(es) de las siguientes afirmaciones describe(n) la actual distribución de la población en el país?

- I) Existen zonas despobladas en las regiones extremas.
- II) Existe más de una región que posee una gran metrópoli.
- III) Existe menor densidad de población en las regiones del centro-sur respecto del extremo norte.

- A) Solo II
- B) Solo I y II
- C) Solo I y III
- D) Solo II y III
- E) I, II y III

2.  “A escala mundial, todo el futuro crecimiento de la población tendrá lugar en las ciudades [...]. Se prevé que la población urbana mundial pasará de los 3.170 millones de personas que se registraban en 2005 a 4.970 millones en 2030; del aumento previsto de 1.800 millones sólo 116 millones serán habitantes de los países de ingresos elevados”. (Reunión de Juntas Ejecutivas de PNUD/UNFPA, UNICEF y PMA, **Crecimiento demográfico y rápida urbanización**, 2009).

Considerando la proyección planteada en la cita del año 2009, de las siguientes afirmaciones, ¿cuál es correcta respecto a las ciudades de los países subdesarrollados?

- A) Dispondrán de acceso equitativo a servicios y oportunidades laborales.
- B) Disminuirán sus índices de pobreza y el tamaño de los barrios periféricos.
- C) Aumentarán su población a un ritmo mayor que el promedio de las ciudades europeas
- D) Incrementarán sustancialmente el volumen de población proveniente de países desarrollados.
- E) Experimentarán un crecimiento respetando lo estipulado en los instrumentos de planificación.

## MODELO DE HGYCS - 2019

3. El proceso de urbanización en Chile generó problemas derivados del rápido y descontrolado crecimiento de algunos centros urbanos, por lo que se hizo necesario elaborar instrumentos de planificación urbana que comenzaron a aplicarse durante el siglo XX. Entre ellos se cuenta el Plan Regulador Comunal. De las siguientes opciones, ¿cuál es una de las medidas que establece este instrumento?

- A) La sectorización de los usos del suelo urbano.
- B) La concesión de las autopistas urbanas.
- C) La definición de la frecuencia de los servicios de transporte urbano.
- D) La coordinación de la seguridad ciudadana urbana.
- E) La localización de los microbasurales urbanos.

4. **POBLACIÓN URBANA MUNDIAL 1950, 2010 y 2050** (en porcentaje)

Regiones	1950	2010	2050
África	5	12	20
Asia	31	50	54
Europa	38	15	9
América Latina y el Caribe	10	14	10
América del Norte	15	8	6
Pacífico	1	1	1

(Departamento de Asuntos Económicos y Sociales de la ONU, 2012)

La tabla adjunta muestra la proporción de población urbana que habitaba distintas regiones del planeta en 1950 y 2010 y una proyección para el año 2050. En dicho periodo, África y Asia, a diferencia del resto, experimentarían una tendencia hacia el crecimiento sostenido de la población urbana, fenómeno que entre otros factores se puede explicar por la migración rural-urbana. Al respecto, ¿cuál(es) de las siguientes afirmaciones explica(n) dicha migración?

- I) La introducción de nuevas tecnologías agrícolas que aumentan la productividad pero utilizan poca mano de obra.
- II) El proceso de globalización en el que las inversiones financieras y las unidades de producción tienden a concentrarse en las ciudades.
- III) La mayor diversidad de servicios asistenciales, educacionales y culturales existentes en las ciudades que facilitan la vida cotidiana.

- A) Solo II
- B) Solo I y II
- C) Solo I y III
- D) Solo II y III
- E) I, II y III

## MODELO DE HGYCS - 2019

5. En la actualidad, los expertos en demografía de la Organización de las Naciones Unidas se inclinan por un modelo de desarrollo para el siglo XXI en el que las ciudades sean protagonistas, afirmando que en ellas, la población dispone de más oportunidades para incrementar su bienestar material. Al respecto, ¿cuál(es) de las siguientes afirmaciones sustenta(n) dicho planteamiento?

- I) Las ciudades cuentan con mayor cantidad de servicios de protección social.
- II) Las ciudades ofrecen mayores posibilidades para acceder a la vivienda.
- III) Las ciudades concentran la mayor cantidad y diversidad de fuentes laborales.

- A) Solo II
- B) Solo III
- C) Solo I y II
- D) Solo II y III
- E) I, II y III

6. El lento crecimiento de la población chilena evidenciado en los últimos treinta años, es resultado de una serie de cambios generados en la tasa de fecundidad y de mortalidad, lo cual ha afectado la estructura por edad de la población. En dicho contexto, ¿qué consecuencia ha tenido este proceso?

- A) Que la población esté experimentando un progresivo envejecimiento.
- B) Que la maternidad se haya concentrado en el tramo de edad que va de los 20 a los 24 años.
- C) Que la natalidad esté concentrada en la población adolescente.
- D) Que los índices de mortalidad infantil estén aumentando.
- E) Que la edad para jubilar se haya reducido.

7. Durante las últimas décadas del siglo XX y primera del siglo XXI, la esperanza de vida de los chilenos aumentó sostenidamente. ¿Cuál(es) de las siguientes causas ha(n) contribuido directamente al desarrollo de esta situación?

- I) La aplicación de políticas públicas para asegurar una mejor alimentación.
- II) La creciente incorporación de las mujeres a las actividades laborales.
- III) Los avances en la medicina.

- A) Solo III
- B) Solo I y II
- C) Solo I y III
- D) Solo II y III
- E) I, II y III

## MODELO DE HGYCS - 2019

8. Al terminar la Guerra Fría se evidenció que el mundo seguía caracterizado por un gran contraste: la división entre naciones ricas y naciones pobres. De las siguientes circunstancias, ¿cuál(es) deriva(n) de esa desigualdad?



- I) El incremento de la esperanza de vida en la mayor parte de las naciones ricas.
- II) La participación femenina mayoritaria en el mercado laboral formal de los países pobres.
- III) La baja tasa de crecimiento demográfico en la mayor parte de los países pobres.

- A) Solo I
- B) Solo II
- C) Solo I y II
- D) Solo I y III
- E) Solo II y III

9. A partir de la última década del siglo XX, en el marco del proceso de recuperación de la democracia, la política exterior que Chile desarrolló entre 1990 y 2010 derivó en un exitoso proceso de integración política y económica con el resto del mundo. En este contexto, ¿cuál(es) de las siguientes características corresponde(n) a dicho proceso?



- I) La presencia de Chile en diversas instancias de cooperación económica.
- II) La predominancia de la exportación de productos con un alto valor agregado por sobre las materias primas.
- III) La generación de una alta especialización productiva asociada al crecimiento del mercado interno en las regiones del país.

- A) Solo I
- B) Solo II
- C) Solo III
- D) Solo I y II
- E) I, II y III

## MODELO DE HGYCS - 2019

### 10. PRODUCCIÓN Y CONSUMO DE AGUA POTABLE, 2004 SEGÚN REGION (en miles de m<sup>3</sup>)

REGIÓN	PRODUCCIÓN	CONSUMO
De Tarapacá	43.011	25.063
De Antofagasta	36.198	27.210
De Atacama	23.115	14.062
De Coquimbo	40.638	28.210
De Valparaíso	147.119	88.171
Metropolitana de Santiago	712.121	510.793
Del Lib. Gral. Bernardo O' Higgins	51.300	32.423
Del Maule	57.260	32.486
Del Biobío	129.198	82.984
De La Araucanía	55.244	29.986
De Los Lagos	53.826	36.573
De Aisén	6.524	4.219
De Magallanes y Antártica Chilena	11.212	9.580
<b>Total País</b>	<b>1.366.767</b>	<b>921.760</b>

(Superintendencia de Servicios Sanitarios, 2004)

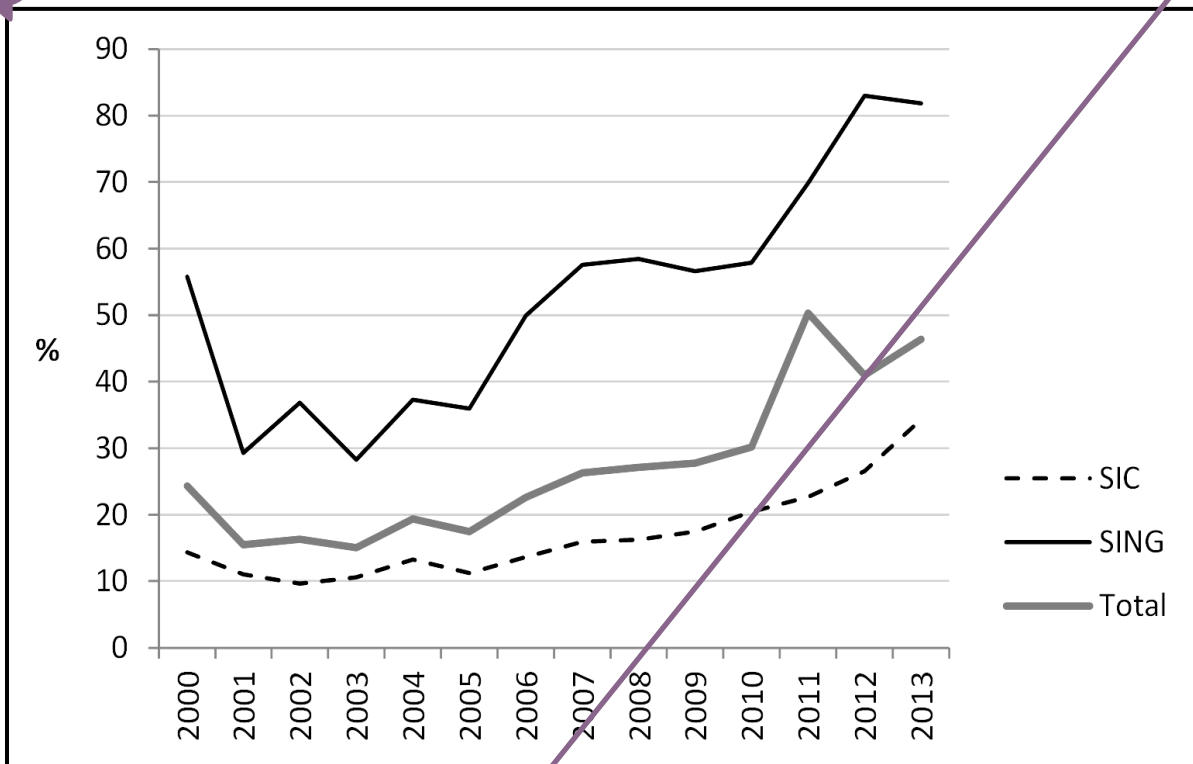
El cuadro anterior proporciona datos sobre la producción y consumo de agua potable en las regiones chilenas en el año 2004. A partir del análisis de esta información, ¿cuál(es) de las siguientes afirmaciones es (son) correcta(s) sobre la disponibilidad geográfica de este recurso?

- I) En las regiones áridas del país se registraban situaciones de déficit de agua potable.
  - II) Todas las regiones del país registraban una oferta de agua potable que superaba a la demanda.
  - III) Las regiones con mayor superávit de agua potable correspondían a la Zona Sur.
- A) Solo I
  - B) Solo II
  - C) Solo III
  - D) Solo I y II
  - E) Solo II y III



## MODELO DE HGYCS - 2019

### 11. CHILE: GENERACIÓN DE ELECTRICIDAD EN BASE A CARBÓN, 2000-2013 ZONA NORTE (SING), ZONA CENTRO-SUR (SIC) Y TOTAL (en porcentaje)




(Comisión Nacional de Energía, **Generación bruta, Sistemas SING-SIC**, 2014)

El gráfico anterior permite apreciar un aspecto de la evolución del sistema energético chileno en el período 2000-2013. En este contexto y de acuerdo con la información del gráfico, ¿cuál(es) de las siguientes afirmaciones respecto de la generación de electricidad, en ese período, es (son) correcta(s)?


- I) El porcentaje de la generación termoeléctrica disminuyó.
  - II) Las fuentes de energía no renovables tendieron a desaparecer.
  - III) La importancia del carbón como fuente de energía aumentó.
- A) Solo I  
B) Solo III  
C) Solo I y II  
D) Solo I y III  
E) I, II y III

## MODELO DE HGYCS - 2019

12.  “Algo como una síntesis del planeta se cumple en la geografía de Chile. Empieza en el desierto que es comenzar con la esterilidad que no quiere hombre; se humaniza en los valles de la zona de transición; se hace hogar pleno para la vida en la zona del agro absoluto; toma una heroica hermosura forestal en el remate del continente como para acabarlo dignamente y se desmenuza al fin, ofreciendo a medias la vida y la muerte en un mar que vacila entre su dicha líquida y su dicha búdica del hielo eterno”. (Gabriela Mistral, **Panorama y color de Chile**, 1957).

En el fragmento citado la poetisa chilena describe algunos rasgos del territorio nacional. Al respecto, ¿cuál(es) de las siguientes características es (son) consecuencia de los rasgos descritos en el texto?

- I) La diversidad de actividades económicas.
  - II) La gran similitud entre los ecosistemas de las distintas regiones.
  - III) La concentración de la mayor parte de la población en la Zona Central.
- A) Solo I
  - B) Solo III
  - C) Solo I y II
  - D) Solo I y III
  - E) I, II y III

13.  “Los corredores bioceánicos en América del Sur, en el ámbito físico, vienen siendo un verdadero tejido vial que une el océano Atlántico con el océano Pacífico. En el ámbito económico equivalen a la mejor forma de integrar a las pequeñas, medianas y grandes empresas del continente a nivel de mercados, tecnología, personas y capitales [...]. En especial, el Corredor Bioceánico Central Agua Negra unirá el sur de Brasil, específicamente todo el Estado de Rio Grande Do Sul con la Región de Coquimbo, atravesando por supuesto distintas provincias del corazón económico de Argentina tales como Córdoba, Santa Fe, Corrientes, Entre Ríos, La Rioja y San Juan”. (**El Día**, Corredor Bioceánico Central, 29 de agosto de 2013).

El texto anterior se refiere al proyecto Corredor Bioceánico Central Agua Negra. En relación con este ejemplo, ¿cuál(es) de las siguientes circunstancias se relaciona(n) con los efectos socioeconómicos de la existencia de un corredor bioceánico en una región del país?

- I) El aumento en la oferta de servicios debido al mayor flujo turístico.
  - II) El incremento de la producción local de exportación.
  - III) La disminución de los tiempos de viaje.
- A) Solo I
  - B) Solo II
  - C) Solo I y II
  - D) Solo II y III
  - E) I, II y III

## MODELO DE HGYCS - 2019

### 14. EL CONGRESO DE EE.UU. DISCUTIRÁ MEDIDAS CONTRA LA DESLOCALIZACIÓN




“La polémica por la deslocalización laboral —el “*outsourcing*” internacional en Estados Unidos, la exportación de empleos— se intensificará este mes al presentarse ante la Cámara de Representantes una batería de medidas que prohíben la adjudicación de los contratos públicos a empresas que emplean mano de obra en países como India o China. [...] Según un estudio elaborado por la consultora *Diamond Cluster*, el 86% de los directivos entrevistados pretende exportar empleo en tecnología y más del 90% se muestra preocupado por la nueva legislación.

Según el *Economic Policy Institute*, el número de empleos en software en Estados Unidos ha caído un 10% desde 2000; mientras, en India, país que exporta casi todo su software a los EE.UU., el empleo en ese sector ha subido en 150.000 personas. [...] La deslocalización del empleo permite enormes ahorros de costo, del 44% al 55% del total, según la consultora McKinsey. Un trabajador de proceso de datos, por ejemplo, cobra dos dólares la hora en India frente a 20 dólares en EE.UU. Las empresas añaden que aparte del menor costo, el *outsourcing* les permite aprovechar diferentes zonas horarias en una economía que opera durante las 24 horas del día”. (**La Vanguardia**, 29 marzo de 2004).

El recorte de prensa adjunto —publicado en el periódico español **La Vanguardia**— recoge el debate planteado en Estados Unidos en el año 2004 sobre el fenómeno de la deslocalización laboral que forma parte de la globalización. Considerando la información adjunta, ¿cuál(es) de las siguientes situaciones corresponde(n) a consecuencias **no deseadas** de la deslocalización laboral, en los países desarrollados?

- I) La pérdida de puestos de trabajo.
  - II) El incremento de los costos para sus empresas.
  - III) La significativa emigración de sus trabajadores.
- 
- A) Solo I
  - B) Solo II
  - C) Solo I y III
  - D) Solo II y III
  - E) I, II y III


## MODELO DE HGYCS - 2019

15.  “El Reto del Hambre Cero, lanzado en 2012 por el Secretario General de las Naciones Unidas, integra los retos de cero pérdidas y desperdicio de alimentos, y de que todos los sistemas alimentarios sean sostenibles al 100 por ciento. [...] el reto consiste en mantener el compromiso del derecho a los alimentos en una época de cambio climático que puede caracterizarse por alteraciones desfavorables en la temperatura, las precipitaciones y el nivel del mar. [...] Para conseguir la seguridad alimentaria para todos se habrán de abordar cuestiones tales como el abastecimiento de agua potable limpia, el saneamiento, la atención sanitaria primaria y la formación en materia de nutrición. Sobre todo, la mejor forma de vencer la pobreza y la malnutrición es dar prioridad a ayudar a las pequeñas familias campesinas a producir y ganar más [...] Las tendencias recientes en los precios de los alimentos indican que el futuro pertenece a los países que poseen granos, no armas”. (M. S. Swaminathan, **Hacer frente al Reto del Hambre Cero**, PNUD, 2014).

La cita anterior hace referencia a uno de los objetivos que se ha planteado el Programa de las Naciones Unidas para el Desarrollo (PNUD) para el nuevo milenio, respecto de la superación del hambre en el mundo. De acuerdo a lo planteado, ¿cuál(es) de las siguientes propuestas es (son) necesaria(s) para abordar dicho desafío?

- I) Considerar las nuevas condiciones atmosféricas y las repercusiones de su dinámica en el planeta.
  - II) Capacitar a los campesinos en la gestión de los recursos alimenticios.
  - III) Garantizar la defensa militar de las zonas agrícolas.
- 
- A) Solo I
  - B) Solo II
  - C) Solo III
  - D) Solo I y II
  - E) Solo I y III


## MODELO DE HGYCS - 2019

16.  “Los chilenos lideran el uso de Facebook a nivel mundial al ostentar el registro de 497 usuarios por cada 1.000 habitantes, según reveló el Indicador de la Sociedad de la Información (ISI). Así los chilenos relegaron a un segundo lugar a los estadounidenses que tienen 493 usuarios por cada 1.000 habitantes, y a Reino Unido que cuenta con 480”. (www.cooperativa.cl, 2012).

En este contexto, ¿a cuál(es) de los siguientes aspectos se debe la fuerte vinculación de los chilenos a la sociedad de la información?

- I) A la masificación de las nuevas tecnologías, ligada a la disminución de los precios de los productos.
  - II) Al fenómeno de integración económica y cultural, asociado al proceso de globalización.
  - III) Al aumento del consumo, producto de las políticas neoliberales de crecimiento económico.
- A) Solo I
  - B) Solo II
  - C) Solo I y II
  - D) Solo I y III
  - E) I, II y III

## MODELO DE HGYCS - 2019

17.  “Frente a la crisis las alternativas están en romper con la dependencia agobiante donde muchos exportan, por ejemplo, bananas y café, otros petróleo o gas, algunos cobre y estaño, y varios carne o soja. Esto no quiere decir que se debe proponer a la ligera desmontar las exportaciones de materias primas de un día para otro, pero sí es urgente comenzar a identificar mecanismos de transición orientados a salir de esa dependencia y recuperar autonomía. Esto requiere otras conceptualizaciones de la globalización, y que en buena medida van en sentido opuesto a los planteos de CEPAL [Comisión Económica para América Latina y El Caribe], ya que en lugar de profundizar la inserción comercial mundial habría que ver cómo recuperar autonomía y capacidades de maniobra frente a las dinámicas globales”. (Eduardo Gudynas, “Inserción internacional y desarrollo latinoamericano en tiempos de crisis global: una crítica a la CEPAL”, en **Observatorio de la Globalización**, 2009).

En relación al análisis de lo planteado en la cita, ¿cuál(es) de las siguientes acciones deberían realizar los países latinoamericanos para mejorar su inserción en la economía globalizada?

- I) Crear opciones a la dinámica global que les permita una mayor independencia económica.
  - II) Cuestionar el paradigma de desarrollo económico promovido por las economías centrales.
  - III) Cerrar sus fronteras al comercio exterior y frenar las importaciones.
- A) Solo I
  - B) Solo II
  - C) Solo I y II
  - D) Solo II y III
  - E) I, II y III

## MODELO DE HGYCS - 2019

18.



(www.sag.cl)

Los afiches anteriores se encuentran en la página web del Servicio Agrícola y Ganadero (SAG) y se insertan dentro de diversas disposiciones establecidas por el Estado de Chile, para hacer frente al ingreso de determinados productos al territorio nacional, como asimismo para la regulación del comercio exterior chileno. En este contexto y a partir de lo que se ve reflejado en ambos afiches, ¿cuál es uno de los propósitos principales que persigue el Estado chileno?

- A) Definir una política económica de tipo proteccionista.
- B) Desincentivar la inversión de capitales externos en el mercado interno.
- C) Implementar rebajas arancelarias a los productos importados.
- D) Aplicar procedimientos para el control de plagas y enfermedades.
- E) Fortalecer la producción de la pequeña y mediana empresa.

## DEMOCRACIA Y DESARROLLO


19.



La política, en su sentido amplio, implica la participación tanto directa como indirecta de los ciudadanos en las diferentes decisiones que influyen sobre el conjunto de la sociedad. En este contexto, ¿cuál de las siguientes opciones corresponde a un rasgo de la política?


- A) Utiliza el diálogo como principal herramienta para enfrentar los problemas de la sociedad.
- B) Impone una visión homogénea de los pensamientos sobre la conducción del gobierno.
- C) Restringe su actuar dentro de la esfera privada por sobre el contexto público.
- D) Está referida exclusivamente al pensar y accionar de los partidos políticos.
- E) Se centra en la resolución de los conflictos internacionales por sobre los locales.

## MODELO DE HGYCS - 2019

20.  “El Estado está al servicio de la persona humana y su finalidad es promover el bien común, para lo cual debe contribuir a crear las condiciones sociales que permitan a todos y a cada uno de los integrantes de la comunidad nacional su mayor realización espiritual y material posible, con pleno respeto a los derechos y garantías que esta Constitución establece”. (Artículo 1° **Constitución Política de la República de Chile**).

De acuerdo a lo anterior, ¿qué propósito central del Estado queda establecido en dicho texto constitucional?


- A) Sistematizar las políticas de desarrollo social implementadas en el país.
- B) Comprometer únicamente a las personas con nacionalidad chilena.
- C) Promover el desarrollo integral de los habitantes del territorio.
- D) Asegurar la obediencia de la ciudadanía respecto del Estado.
- E) Consolidar el ordenamiento jurídico existente.

21.  Las actividades de los partidos políticos chilenos son reguladas mediante diversas leyes referidas a formas de financiamiento, atribuciones, funciones, representatividad, entre otros aspectos. En relación con lo anterior, ¿cuál de las siguientes acciones es propia de este tipo de asociaciones?

- A) Garantizar el acceso a cargos de representación política a todos sus militantes.
- B) Publicitar sus sistemas de comunicación interna y sus ingresos económicos.
- C) Impedir a sus miembros el cambio de las declaraciones de principios y estatutos.
- D) Servir como medio que canalice las inquietudes y aspiraciones de la ciudadanía.
- E) Aprobar las leyes que regulan el funcionamiento del Poder Ejecutivo.




## MODELO DE HGYCS - 2019

22.  “Mientras el capital fluye libremente, la política sigue siendo irremediabilmente local. La velocidad del movimiento hace del poder real algo extraterritorial. Se podría decir que, al ser las instituciones políticas existentes cada vez más incapaces de regular la velocidad del movimiento de capitales, el poder está cada vez más alejado de la política, esa circunstancia da cuenta al mismo tiempo de la apatía política creciente, del progresivo desinterés del electorado en todo aquello que sea político”. (Zygmunt Bauman, **En busca de la política**, 2001).

A partir de la cita anterior, ¿cuál de los siguientes planteamientos corresponde a la opinión del autor respecto a uno de los impactos de la relación entre economía y política?


- A) Los organismos económicos internacionales como el FMI han disminuido su campo de acción en el mundo.
- B) La consolidación de distintos modelos económicos mundiales se produjo a partir de la disolución de la Unión Soviética.
- C) La globalización neoliberal ha posibilitado que el capital financiero lidere la toma de decisiones.
- D) La creciente indiferencia por la política es consecuencia de los beneficios que ha traído la globalización económica.
- E) La esfera política continúa determinando las dinámicas de la vida económica.

23.  “El Consejo de Autorregulación y Ética Publicitaria (CONAR) sancionó la publicidad [de una reconocida bebida nacional] por infringir códigos de la Ética Publicitaria. [...] El spot presentaba como ingeniosa y admirable la actitud de un joven que se aprovechaba de su puesto de trabajo en un parque de diversiones, tomando fotos de los escotes de las mujeres que subían a su juego. «Presenta el acto del acoso como una acción divertida y digna de admiración»”. (Red Chilena Contra la Violencia Hacia las Mujeres, 2015).


Considerando la información presente en la cita, ¿qué desafío(s) tiene actualmente la sociedad chilena para alcanzar un mayor desarrollo y bienestar democrático?

- I) Fortalecer la adopción de medidas que prohíban y sancionen toda expresión de violencia que atente contra la seguridad y libertad personal.
  - II) Erradicar prejuicios y costumbres que se basen en roles de género estereotipados.
  - III) Romper con la validación social hacia el acoso callejero por parte de los medios de comunicación.
- A) Solo I
  - B) Solo II
  - C) Solo I y II
  - D) Solo I y III
  - E) I, II y III

## MODELO DE HGYCS - 2019


24.  Durante el último tercio del siglo XX, las Organizaciones No Gubernamentales (ONGs) emergieron como otro actor relevante, además del Estado, en la discusión política. En este sentido, ¿cuál ha sido el aporte más destacado de las ONGs?

- A) Generar ingresos para que los Estados incrementen sus inversiones en políticas públicas.
- B) Apoyar la búsqueda de la paz mundial mediante la implementación de diálogos multilaterales entre Estados e instituciones.
- C) Mejorar la productividad de las empresas para apoyar su inserción en los mercados internacionales.
- D) Diseñar e implementar legislaciones que mejoren la calidad de vida de los ciudadanos en distintos países.
- E) Incorporar a la agenda internacional temas como la promoción de los Derechos Humanos y el cuidado del medioambiente.

25.  El politólogo estadounidense Joseph Nye destacó recientemente la instalación de temas de interés ciudadano, tales como la contaminación atmosférica, el cambio climático global, la corrupción política, por parte de las Organizaciones No Gubernamentales (ONGs) en la agenda política global. En este marco, a nivel local, los partidos políticos han incorporado algunos temas ciudadanos en sus respectivos programas y orientaciones. Al respecto, ¿cuál es uno de los objetivos de los partidos políticos al incorporar dichos temas?


- A) Sumar a diversos actores a cargos de representación política.
- B) Modernizar y reestructurar el Estado para resguardar la soberanía.
- C) Mejorar y adaptar la gestión pública para incorporar al sector privado.
- D) Aumentar y diversificar la participación ciudadana en el ámbito político.
- E) Cumplir con la legislación para validar la Constitución Política.

## MODELO DE HGYCS - 2019

26.  “Podría concluir que la legitimidad de una demanda, matrimonio y la unión civil para las minorías sexuales, se entienden desde la perspectiva de hacer visible la desigualdad de los derechos. Pero si pensamos en el debate en Chile respecto a la sexualidad como campo minado, da como resultado una propuesta inofensiva en la medida en que no resuelve de fondo la situación de discriminación y el orden cultural permanentemente acosador con gays, lesbianas, transexuales, intersexuales”. (Juan Pablo Sutherland, **Nación Marica: prácticas culturales y crítica activista**, 2009).

La cita anterior es parte de una argumentación sobre los diversos cambios legales y normativos que se han desarrollado en Chile, en relación con la diversidad social existente. A partir del análisis de la cita, ¿cuál de las siguientes situaciones afecta el bienestar de la sociedad chilena?

- A) La inexistencia de mecanismos legales que sancionen actos de discriminación arbitraria.
- B) La ausencia de organizaciones ciudadanas vinculadas con los grupos pertenecientes a las minorías sociales.
- C) La permanencia de estereotipos estigmatizadores hacia determinados grupos sociales.
- D) El incremento de la pobreza económica como elemento de marginalidad social.
- E) La ausencia de políticas públicas que consideren los problemas derivados de las relaciones de género.

27.  “La evasión fiscal afecta a países con bajos impuestos como Estados Unidos, así como a naciones con altos niveles de impuestos como Alemania. Según una organización que lucha contra la evasión fiscal, *Tax Justice Network* (TJN), Estados Unidos encabeza la tabla, seguido por Brasil, Italia, Rusia y Alemania. En términos absolutos, el fisco estadounidense pierde alrededor de US\$ 350.000 millones anuales a pesar de ser un país que se jacta de un alto cumplimiento tributario gracias al respeto a la ley de sus ciudadanos”. (BBC Mundo, abril 2015).

¿Cuál es una de las consecuencias que trae el fenómeno aludido en la cita anterior para el Estado?

- A) El aumento de gasto privado para la generación de bienes y servicios públicos.
- B) La limitación de la recaudación de recursos monetarios para la prestación de los servicios.
- C) La preponderancia del sector privado en la ejecución de políticas públicas redistributivas.
- D) La concentración del gasto público en la mantención del aparato burocrático.
- E) La reducción de los impuestos para incentivar el pago de las contribuciones.

## MODELO DE HGYCS - 2019

### 28. ENCUESTA NACIONAL: FACTORES QUE INFLUYEN PARA QUE UNA PERSONA SEA POBRE EN CHILE



¿Cuáles cree Ud. que son los tres factores que más influyen para que una persona sea pobre en Chile?

<b>Factor mencionado en primer lugar</b>	<b>Porcentaje</b>
Falta de educación	77,4
Falta de empleo	11,1
Drogadicción y/o alcoholismo	6,3
Flojera personal	2,8
Poca o nula ayuda del gobierno	0,8
Mala suerte	0,3
Políticas económicas del gobierno	0,2
Tener un origen familiar pobre	0,1
El color de su piel	0,1
El barrio o comuna donde vive	0,1

(Elaboración en base a Encuesta Nacional UDP, 2013)

Los resultados presentados en la tabla anterior, muestran que un alto porcentaje de encuestados identificó la falta de educación como el factor que más influye en la pobreza de la población en Chile. Al respecto, ¿con qué situación se vincula esta apreciación de la población encuestada?

- A) Con las significativas disparidades económicas y sociales que se revelan en el acceso a los distintos niveles educacionales.
- B) Con la ausencia de políticas públicas orientadas a la ampliación de la cobertura escolar.
- C) Con la incapacidad del actual sistema económico para disponer de créditos y ayudas para solventar estudios.
- D) Con la escasez en la oferta de formación técnica que permita ingresar al mundo laboral.
- E) Con la falta de vacantes en los establecimientos de educación superior.

## MODELO DE HGYCS - 2019

29. “Algunas de las competencias del Consejo Comunal de Organizaciones de la Sociedad Civil son:

- a) Se debe pronunciar, en el mes de marzo de cada año, sobre:
  - La cuenta pública que el Alcalde efectúe de su gestión anual y de la marcha general de la Municipalidad, [...].
- b) Formula observaciones a los informes que el Alcalde le presentará sobre los presupuestos de inversión, plan comunal de desarrollo y modificaciones al plan regulador.
- c) Informa al Alcalde su opinión acerca de las propuestas de asignación o modificación de la denominación de los bienes municipales y nacionales de uso público que se encuentran bajo la administración de la Municipalidad.
- d) Formula consultas al Alcalde respecto de materias sobre las cuales debe pronunciarse el Concejo.
- e) Solicita al Alcalde, previa ratificación de los dos tercios de los concejales en ejercicio, la realización de un plebiscito comunal el cual deberá referirse a materias de administración local [...].
- f) Emite su opinión sobre todas las materias que el Alcalde y el Concejo Municipal le sometan a su consideración”. (SUBDERE, **Minuta explicativa de los Consejos Comunales de Organizaciones de la Sociedad Civil**, 2011).

El texto anterior se refiere a los Consejos Comunales de Organizaciones de la Sociedad Civil, creados a partir de 2011 en Chile. Al respecto, ¿cuál es una característica relevante de dichos Consejos?

- A) Corresponden a organizaciones políticas con facultades resolutivas.
- B) Eligen a sus miembros por votación universal comunal.
- C) Deciden sobre los asuntos administrativos y financieros de la comuna.
- D) Representan a diversas entidades existentes en la comuna.
- E) Poseen participación representativa en las discusiones del Concejo Comunal.


30. “Se entiende por Trabajador Dependiente, toda aquella persona que adquiere un vínculo contractual, para ello, se requiere de dos partes: trabajador y empleador. [Además] Debe existir la figura de un Contrato de Trabajo, en el cual se detallan derechos y obligaciones por ambas partes, protegiendo siempre al trabajador como la parte más débil”. (www.previsionsocial.gob.cl).

A partir de la cita adjunta, ¿cuál de las siguientes opciones corresponde a una ventaja del empleo dependiente?

- A) La autorregulación de la jornada laboral.
- B) La posesión de un seguro de cesantía.
- C) La gratuidad en prestaciones de salud.
- D) La exención de impuestos a la renta.
- E) El aumento de los ingresos.


## MODELO DE HGYCS - 2019

### CHILE Y AMÉRICA EN PERSPECTIVA HISTÓRICA

31.  “Que todos estáis en pecado mortal y en él vivís y morís, por la crueldad y tiranía que usáis con estas inocentes gentes. Decid, [...] ¿Con qué autoridad habéis hecho tan detestables guerras a estas gentes que estaban en sus tierras mansas y pacíficas, donde tan infinitas de ellas, con muerte y estragos nunca oídos, habéis consumido? ¿Cómo los tenéis tan opresos y fatigados, sin darles de comer ni curarlos en sus enfermedades, que de los excesivos trabajos que les dais incurren y se os mueren, y por mejor decir, los matáis, por sacar y adquirir oro cada día? ¿Y qué cuidado tenéis de quien los doctrine y conozcan a su Dios y criador, sean bautizados, oigan misa, guarden las fiestas y domingos? ¿Estos no son hombres? ¿No tienen ánimas racionales? ¿No sois obligados a amarlos como a vosotros mismos? ¿Esto no entendéis? ¿Esto no sentís?” (**Sermón de Fray Antonio de Montesinos**, La Española, 1511).

El texto anterior corresponde a un sermón del fraile dominico Antonio de Montesinos pronunciado en la ciudad de Santo Domingo en 1511. En el contexto del proceso de conquista de América y del análisis de esta fuente, ¿qué aspecto(s) criticaba este religioso?

- I) El incumplimiento de los compromisos que involucraba poseer una encomienda de indios por parte de los encomenderos.
  - II) La autorización de la esclavitud indígena por parte de la Corona española.
  - III) La introducción de mano de obra africana en América para reemplazar la indígena.
- A) Solo I
  - B) Solo II
  - C) Solo I y III
  - D) Solo II y III
  - E) I, II y III

32.  El proceso de conquista y colonización americana, por parte de los españoles, trajo aparejado una gran destrucción de las sociedades indígenas originarias. A su vez, desde comienzos del siglo XVII, también se concretaron iniciativas que contribuyeron a preservar algunas etnias y su lenguaje respectivo. De las siguientes opciones, ¿cuál corresponde a una de estas iniciativas?

- A) El establecimiento del sistema de encomiendas de indios.
- B) La implementación de distritos dependientes de la Real Audiencia.
- C) La delimitación del territorio en virreinos y gobernaciones.
- D) La creación de las misiones jesuíticas.
- E) La formación de los cabildos americanos.

## MODELO DE HGYCS - 2019

33. En el ámbito económico, durante la Colonia, Chile presentó características que le conferían una situación especial en el contexto del Imperio español en América. ¿Cuál fue una de estas características especiales?

- A) La condición de único abastecedor de productos agrícolas para la región circundante.
- B) La producción de bienes industriales que permitían cubrir el mercado interno.
- C) La importancia adquirida como exportador de productos mineros hacia los virreinos.
- D) La necesidad de recibir un aporte económico para sostener la Guerra de Arauco.
- E) La importación de manufacturas para cubrir el mercado de bienes suntuarios.

34. “Las villas que se hallan fundadas en este partido [de Maule] son tres [...]. La de San Agustín de Talca, cabeza de este partido. Se fundó el 12 de mayo de 1742 por el excelentísimo señor conde de Superunda, siendo gobernador y capitán general de este Reino, [...]. La segunda villa es la de Nuestra Señora de las Mercedes de Manso, en la doctrina de Chanco y Cauquenes [...]. La tercera es la villa de San José de Buena Vista, en el paraje fundado Curicó. Fundada por el señor conde de Poblaciones, presidente-gobernador y capitán general de este Reino”. (Francisco de Solano, Ed, **Relaciones geográficas del Reino de Chile**, 1756).

El Imperio español durante el siglo XVIII realizó diversas reformas en sus colonias. En este contexto y del análisis del texto anterior, ¿cuál de las siguientes iniciativas se enmarca en dicho período?

- A) Las autoridades establecieron provincias plenamente autónomas en América.
- B) El proceso de urbanización tuvo como intención la industrialización del reino.
- C) Los gobernadores del reino realizaron un proceso fundacional de centros urbanos.
- D) La monarquía española aplicó políticas económicas monopólicas en sus posesiones.
- E) Los habitantes del reino solo con su esfuerzo se aglutinaron en villas y ciudades.

## MODELO DE HGYCS - 2019


35. En el Parlamento de Negrete de febrero de 1726 se acordó entre otros puntos que “1) Los indios deben deponer las armas; 2) reconocerse vasallos del rey de España; 3) enemigos de los enemigos de este; 4) no oponer resistencia al restablecimientos de fuertes al sur del Biobío [...]; 5) aceptar misioneros en sus tierras y concurrir a la Iglesia los que fueren bautizados; 6) [...] será conveniente que tengan los conchavos (intercambios) libremente, pero reducidos a los tiempos y parajes en que se han de celebrar tres o cuatro ferias al año, concurriendo los indios y españoles tal día [...]; 7) se prohibía el robo de indios del territorio mapuche”. (José Bengoa, **Historia del pueblo mapuche**, 1985).

A partir del análisis del texto y en el contexto de los siglos coloniales en Chile, ¿cuál(es) de las siguientes afirmaciones corresponde(n) a objetivos de los Parlamentos?

- I) Establecer condiciones propicias para realizar relaciones comerciales y pacíficas entre las partes.
  - II) Ampliar la autonomía territorial de los mapuches que habitaban al sur del Biobío.
  - III) Formar alianzas estratégicas para asegurar el dominio español en la zona sur de América.
- A) Solo I
  - B) Solo I y II
  - C) Solo I y III
  - D) Solo II y III
  - E) I, II y III




## MODELO DE HGYCS - 2019

36.  “Entre 1720 y 1750 los arrendatarios, o inquilinos, eran decididamente productores, esto es, pequeños empresarios agrícolas, dependientes solo en tanto tenían que pagar un canon de tipo comercial [...]. Sin embargo, semejante asociación se deterioró en el mediano plazo [...] pues, desde 1760, aproximadamente, los mercaderes-hacendados comenzaron a aumentar de un modo dramático su presión sobre los labradores independientes y semi-dependientes [...] Incrementaron considerablemente los cánones de arriendo. [...] Pagaron precios decrecientes por el trigo de los labradores, [...] triplicaron el interés por sus adelantos de dinero”. (Gabriel Salazar, **Labradores, peones y proletarios**, 1986).

En el contexto del periodo aludido y de acuerdo a la interpretación expresada por el autor en la cita anterior, ¿qué fenómeno(s) se desarrolló (desarrollaron) en el siglo XVIII en Chile?


- I) Se presentó una tensión entre hacendados e inquilinos al interior de las haciendas.
  - II) Los inquilinos perdieron progresivamente su autonomía económica.
  - III) La hacienda adquirió un mayor interés comercial para los propietarios.
- A) Solo II
  - B) Solo III
  - C) Solo I y II
  - D) Solo II y III
  - E) I, II y III

37.  “A pesar del celo de las autoridades, que no vacilaron en interceptar la correspondencia privada, las noticias aflúan en abundancia a través de las cartas de amigos y corresponsales de otras partes de América. A la sombra de las disposiciones de la Convención de San Lorenzo, las fragatas francesas y angloamericanas surcaban sin temor las aguas del Mar del Sur, entregadas a un lucrativo tráfico, y en medio de las bagatelas y de los artículos manufacturados, se deslizaban los libros prohibidos que sostenían ideas demoledoras”. (Ricardo Donoso, **Las ideas políticas en Chile**, 1946).


En el texto anterior el autor alude a la información prohibida que circulaba en las últimas décadas del siglo XVIII en los dominios españoles de América. Considerando estos antecedentes, ¿a qué información se hace referencia?

- A) Al pensamiento de los filósofos ilustrados europeos.
- B) A las ideas que sostenía el Absolutismo Monárquico.
- C) A los lineamientos de la política ejercida por los Borbones.
- D) A las prácticas de control social ejercidas en la Revolución Francesa.
- E) A los escritos sobre la Doctrina Social de la Iglesia Católica.


## MODELO DE HGYCS - 2019

38.  La Independencia de América española y de Chile constituyó un fenómeno histórico multifactorial que presentó similitudes y diferencias en relación a los territorios en que tuvo lugar. De las siguientes opciones, ¿cuál constituye uno de los factores comunes a los procesos de independencia en la región?

- A) El rol político esencial de los grupos de mestizos y mulatos.
- B) El apoyo económico de Estados Unidos a la emancipación.
- C) La forma pacífica en que la Independencia tuvo lugar.
- D) La presencia protagónica de los grupos criollos locales.
- E) La influencia del ideario emancipador entre los funcionarios de la Corona.

39.  Durante la organización de la República, Chile experimentó diversos cambios que rompieron con el periodo colonial. Sin embargo, presentó continuidades respecto del periodo anterior. Al respecto, ¿cuál de las siguientes opciones corresponde a una de estas continuidades?




- A) La presencia de instituciones imperiales de gobierno.
- B) El carácter católico de la sociedad chilena.
- C) El ordenamiento jurídico constitucional.
- D) La orientación laica de la educación pública.
- E) El monopolio estatal del comercio.

40.  “Conociendo de su presencia en el país y de sus aptitudes [...] fue contratado por el gobierno para hacer un viaje científico por todo el territorio «con el objeto de estudiar la historia natural de Chile, su geografía, geología, estadística y cuanto contribuya a dar a conocer las producciones naturales del país, su industria, comercio y administración, y a presentar al gobierno, en el término de cuatro años, [...] un bosquejo de lo hecho en las respectivas materias»”. (Cristián Gazmuri, **La historiografía chilena**, 2012).


El texto precedente corresponde al contrato firmado entre el Gobierno de Chile y el naturalista francés Claudio Gay en 1830. Al respecto, ¿qué necesidad(es) del Estado chileno buscaba cubrir esta iniciativa?

- I) Disponer de informes de carácter científico sobre la realidad del país.
  - II) Establecer los límites definitivos del territorio con los países vecinos.
  - III) Explorar las potencialidades productivas del país.
- A) Solo I
  - B) Solo I y II
  - C) Solo I y III
  - D) Solo II y III
  - E) I, II y III


## MODELO DE HGYCS - 2019

41.  En Santiago de Chile el año 1849 se formó el Club de la Reforma y un año más tarde, en 1850, se fundó la Sociedad de la Igualdad, considerándose ambas instituciones como nuevas formas de sociabilidad política. En el contexto de la época, ¿qué factor favoreció la creación de estas entidades en Chile?
- A) El fomento estatal a la educación primaria obligatoria.
  - B) La difusión del pensamiento liberal entre la intelectualidad.
  - C) El aumento de los índices de alfabetización de la población.
  - D) La actitud benefactora de los sectores conservadores de la sociedad.
  - E) La presión ejercida por la Iglesia Católica sobre la libertad de enseñanza.
42.  Desde mediados del siglo XIX, Chile inició un plan destinado a ocupar definitivamente la zona de la Araucanía, proceso que culminó en la década de 1880. Entre otros aspectos, ¿qué significó para el Estado chileno este proceso de incorporación de dicho territorio?
- A) El inicio de la actividad industrial en el país.
  - B) El fin de las demandas indígenas por tierras ancestrales.
  - C) El desarrollo de una importante actividad triguera en la región.
  - D) La colonización del territorio exclusivamente con población de Chile Central.
  - E) El traslado forzado de los mapuches a las grandes ciudades por parte del Gobierno.
43.  En Chile, durante la segunda mitad del siglo XIX, se aprobaron las denominadas Leyes Laicas. En ese contexto, ¿cuál fue uno de los propósitos de la aplicación de estas normas jurídicas?
- A) Incorporar la libertad de culto.
  - B) Asegurar la libertad de enseñanza.
  - C) Anular la influencia de la Iglesia Católica en la sociedad.
  - D) Establecer la separación definitiva de la Iglesia y el Estado.
  - E) Secularizar funciones que estaban bajo la tutela de la Iglesia.

## MODELO DE HGYCS - 2019

44.  La explotación de la riqueza salitrera en Chile, con posterioridad a la Guerra del Pacífico, estimuló diversas áreas de la economía nacional. Entre otros aspectos, ¿qué repercusión trajo dicha explotación para el Estado?


- A) La nacionalización de las compañías mineras.
- B) El incremento del aparataje de la administración pública.
- C) La disminución de la dependencia de los mercados externos.
- D) La reducción de los conflictos sociales ligados al mundo obrero.
- E) La implementación del modelo de Industrialización Sustitutiva de Importaciones.

45.  “Si a ejemplo de Washington y de la gran República del Norte, preferimos consumir la producción nacional [...] si ennoblecemos el trabajo industrial aumentando los salarios en proporción a la mayor inteligencia de aplicación por la clase obrera; si el Estado conservando el nivel de sus rentas y de sus gastos, dedica una porción de su riqueza a la protección de la industria nacional, sosteniéndola y alimentándola en sus primeras pruebas; si hacemos concurrir al Estado en su capital y sus leyes económicas, y concurrimos todos, individual o colectivamente, a producir más y mejor y a consumir lo que producimos; una savia más fecunda circulará por el organismo industrial de la República y un mayor grado de riqueza y bienestar nos dará la posesión de este bien supremo de pueblo trabajador y honrado: vivir y vestirnos por nosotros mismos”. (José Manuel Balmaceda, **Discurso**, 1886).

En el documento anterior, el Presidente Balmaceda manifiesta sus propuestas políticas y económicas, las que antecedieron a la Guerra Civil de 1891. En este contexto y a partir de esta cita, ¿cuál fue una política de dicho mandatario?


- A) Promover la privatización de la industria nacional.
- B) Estar en desacuerdo con las políticas de libre comercio.
- C) Oponerse a la intervención del Estado en materias económicas.
- D) Incentivar el desarrollo de la industria manufacturera nacional.
- E) Rechazar la participación de capitales privados en la industria salitrera.

## MODELO DE HGYCS - 2019

46.  A fines del siglo XIX en Chile se produjo una guerra civil que terminó con la muerte del Presidente José Manuel Balmaceda y la imposición de un sistema parlamentario en el país. ¿Cuál fue una de las causas que provocó esta guerra?

- A) Las pretensiones de diversos grupos nacionales para apoderarse de las salitreras del norte del país.
- B) Las disputas entre conservadores y liberales por la separación de la Iglesia y el Estado.
- C) Las diferencias entre la clase política frente a la postura sobre el derecho a voto universal.
- D) Las constantes revueltas de los sectores populares para lograr mejores condiciones de vida.
- E) Las diferencias de intereses entre el Gobierno y un sector de la elite nacional.


47.

	<p>“Brindo dijo un ciudadano rechazando al aristocrático por el Partido Democrático voy a brindar cortés. En este momento me afano brindar por dicho partido que harlo valor ha tenido para defender al pobre deseo que valor les sobre en defensa del pobrerío.”</p>	<p>“¡Viva Chile ciudadanos! el cuello y la frente alzado, ya triunfó la libertad ¡ya cayeron los tiranos!”</p>
<p>(Adolfo Reyes, <b>Brindis al Partido Democrático</b>, 1890)</p>	<p>(Rómulo Larrañaga, pseudónimo “Rolak”, <b>Triunfo de la Revolución</b>, 1891)</p>	


La Guerra Civil de 1891 recoge un conjunto de elementos que caracterizan la historia de Chile del periodo. A partir de las fuentes citadas, ¿cuál de las siguientes opciones corresponde a un fenómeno de dicho periodo?

- A) La estatización de la industria del salitre.
- B) La fuerte polarización política.
- C) La prohibición del funcionamiento de los partidos políticos de izquierda.
- D) La consolidación del predominio político del Presidente de la República.
- E) La marginación de los militares respecto del conflicto.

## MODELO DE HGYCS - 2019

48.  La riqueza generada por la explotación de minerales en el norte de Chile, produjo, desde fines del siglo XIX, una expansión de los barrios acomodados en ciudades como Santiago y Valparaíso. ¿Cuál es una de las características comunes de este tipo de barrios?

- A) Se edificaban en el casco antiguo de las ciudades.
- B) Mantenían el ordenamiento del plano de damero colonial.
- C) Constituían remodelaciones de edificios públicos.
- D) Introducían modelos arquitectónicos europeos.
- E) Reflejaban el influjo estadounidense en la oligarquía.

49.  “El proceso de industrialización, como se dijo, fue lento, aun cuando tuvo dos momentos de rápida activación: entre 1858 y 1870, en que el número de establecimientos con patente industrial aumentó de 686 a 3.218 y luego en el periodo 1886-1905, en que el aumento fue de 3.188 a 9.436. Cabe notar que las ramas industriales de mayor desarrollo productivo fueron las de los alimentos y bebidas (sobre todo entre 1844 y 1870), la de vestuario y confección (gran desarrollo después de 1870) y la de maderas y muebles (constante desde 1850 hasta después de 1914). En el caso de la rama de vestuario y confección, la expansión se expresó en la masiva importación de máquinas de coser [...] También se expresó en el aumento del número de sus trabajadores”. (Gabriel Salazar, **Patriarcado mercantil y liberación femenina**, 2010).

La cita anterior describe las transformaciones económicas que se desarrollaron en Chile durante el siglo XIX. De acuerdo al análisis de la cita y su relación con el periodo histórico aludido, ¿qué fenómeno(s) experimentó la economía nacional?

- I) La diversificación en sus áreas de producción.
  - II) La introducción de cambios en los modos de producción.
  - III) Una reorientación basada en la venta de sus manufacturas en el exterior.
- 
- A) Solo I
  - B) Solo II
  - C) Solo I y II
  - D) Solo II y III
  - E) I, II y III

## MODELO DE HGYCS - 2019

50.



Viviendas del Campamento obrero Oficina Pedro de Valdivia, 1930



Ferrocarril, Oficina Pedro de Valdivia, 1931


(Eugenio Garcés Feliú, **Las Ciudades del Salitre. Un estudio de las oficinas salitreras en la región de Antofagasta**, 1999)

Las imágenes corresponden a una oficina salitrera fundada en la década de 1920 y evidencian un impacto en el espacio geográfico del norte de Chile, producto de la explotación del salitre. En dicho contexto, ¿cuál(es) de las siguientes afirmaciones refleja(n) dicho impacto?

- I) La creación de centros urbanos vinculados a la industria del nitrato.
- II) La construcción de una importante red de transporte que comunicó los asentamientos mineros entre sí y con zonas portuarias.
- III) La reforestación de la zona para favorecer la construcción de viviendas.


- A) Solo I
- B) Solo I y II
- C) Solo I y III
- D) Solo II y III
- E) I, II y III

## MODELO DE HGYCS - 2019


51.  En materia de política exterior, el Estado chileno ha diseñado acciones diplomáticas tendientes a establecer condiciones de paz con aquellos países con los cuales se enfrentó en el siglo XIX. En relación con dichos enfrentamientos, ¿qué repercusión(es) tuvieron estos acuerdos limítrofes firmados por Chile?

- I) Ratificaron la incorporación de importantes territorios productivos.
- II) Desencadenaron conflictos armados en el siglo XX debido a la imprecisión de sus cláusulas.
- III) Establecieron una sólida política migratoria favoreciendo la integración del Cono Sur.

- A) Solo I
- B) Solo III
- C) Solo I y II
- D) Solo I y III
- E) Solo II y III

52.  En Chile, durante la primera mitad del siglo XX y como respuesta a la crisis del capitalismo de 1929, se generó un conjunto de políticas públicas que tuvo como propósito la promoción del incentivo estatal a la producción de bienes. Entre otras razones, ¿por qué fracasó dicha experiencia?

- A) Por la incapacidad del país para alcanzar la independencia tecnológica.
- B) Por la falta de materias primas que alimentaran la industria nacional.
- C) Por los altos niveles de corrupción en la administración pública.
- D) Por la inclinación de los gobiernos por implementar políticas neoliberales.
- E) Por la pérdida de mano de obra debido a la migración de la ciudad al campo.

53.  Entre los años 1938 y 1952 Chile fue gobernado por presidentes que provenían del Partido Radical, al mismo tiempo se produjo un conjunto de cambios de carácter social. De las siguientes opciones ¿cuál corresponde a uno de dichos cambios?

- A) El aumento del volumen de la población de clase media.
- B) El surgimiento del proletariado urbano.
- C) La desaparición de la antigua aristocracia capitalina.
- D) El establecimiento de una sociedad igualitaria.
- E) El ingreso de la mujer al mundo laboral.



## MODELO DE HGYCS - 2019

54. Respecto del espacio geográfico chileno, ¿qué cambio produjo el desarrollo de la Gran Minería del Cobre, en el siglo XX?



- A) La construcción de puertos en todas las regiones para exportar los minerales.
- B) La creación de núcleos industriales para producir bienes de consumo derivados de este metal.
- C) El desarrollo de amplias áreas agrícolas en el desierto para abastecer los campamentos mineros.
- D) El establecimiento de centros urbanos cercanos a los yacimientos para el personal de las faenas.
- E) La instalación de plantas purificadoras para desalinizar el agua del mar.


55. “En 1952 se realizó el Primer Censo Nacional de Viviendas, el cual permitió dimensionar la magnitud del problema habitacional al declarar que las viviendas precarias o «no apropiadas» para la habitación ascendían a 374.306, lo cual representaba el 30% de las residencias existentes en el país. Dicha situación se agudizaba si se utilizaba como referencia solo a la ciudad de Santiago, que registraba la existencia de 119.163 viviendas precarias (unifamiliares y colectivas), es decir el 36,2% del total”. (Rafael Sagredo y Cristián Gazmuri, directores, **Historia de la Vida Privada en Chile**, Vol. III, 2013).



La lectura del texto permite comprender una parte de la realidad de la sociedad chilena de mediados del siglo XX. A partir de la situación descrita en la información censal adjunta, ¿cuál de las siguientes opciones corresponde a una iniciativa del Estado en esta materia?

- A) Promover el arrendamiento colectivo de antiguas casonas urbanas.
- B) Establecer estrategias para frenar el aumento de la población.
- C) Impulsar programas habitacionales de construcción y autoconstrucción.
- D) Entregar subsidios a los jefes de hogar para la compra de su casa.
- E) Erradicar las familias hacia las regiones extremas del país.


## MODELO DE HGYCS - 2019

56.  “Se espera contar en 1954 con dos unidades (60.000 kW en total) de la planta Cipreses que la ENDESA tiene en construcción en la provincia de Talca, potencia que será transmitida a Santiago por una línea de 154.000 volts. Hay necesidad de ejecutar numerosos trabajos para recibir esta energía en el sistema de Santiago. Se requiere en forma inmediata la inversión de US\$ 3.500.000 y de 430.000.000 de pesos chilenos”. (Revista **Panorama Económico**, “Experiencia eléctrica en 1953”).

El párrafo precedente contiene información entregada por una revista económica chilena de mediados del siglo XX. De la comparación entre el modelo económico que regía en la época del artículo y el modelo actual, ¿qué aspecto(s) es (son) correcto(s) inferir en cuanto a la energía eléctrica?

- I) Que en ambos modelos se da importancia a la generación de energía como un motor del crecimiento económico nacional.
  - II) Que en ambas épocas la energía ha sido valorada como un bien social y como un insumo industrial.
  - III) Que en la actualidad existe una mayor presión por disminuir el impacto ambiental del crecimiento de la matriz energética.
- A) Solo I
  - B) Solo III
  - C) Solo I y II
  - D) Solo I y III
  - E) I, II y III

## MODELO DE HGYCS - 2019

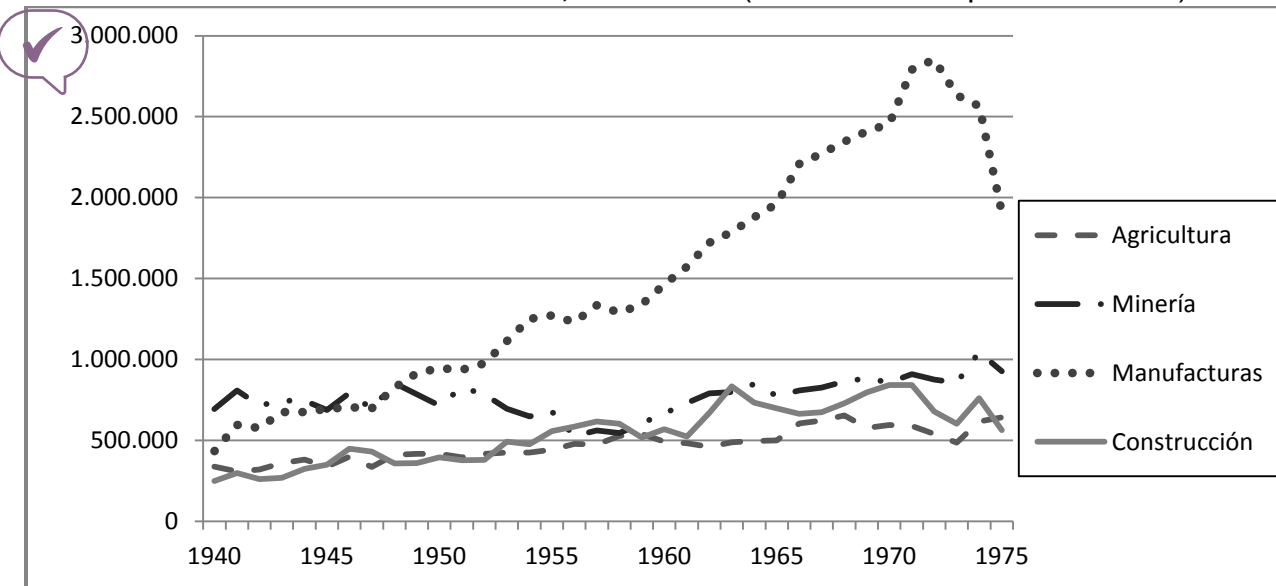
57.  “La Democracia Cristiana formaba la tercera familia ideológica por cantidad de votos. Fue así que conservadores y liberales decidieron hacerse a un lado y dar sus votos al candidato [democratacristiano], Eduardo Frei, quien de esa manera accedió a la presidencia con una gran mayoría [...] Su gobierno fue de transformaciones bastante profundas, sobre todo en el terreno de la reforma agraria y de la política habitacional”. (Torcuato Di Tella, **Historia de los partidos políticos en América Latina**, 1993).

La cita anterior describe un aspecto de la correlación de fuerzas políticas en Chile, en la década de 1960, destacando el rol jugado por la Democracia Cristiana. De su análisis, y considerando el periodo al que hace referencia, ¿cuál de las siguientes opciones corresponde a una acción de este partido político?

- A) Favoreció en el corto plazo a las elites urbanas y rurales impulsando transformaciones estructurales.
- B) Implementó grandes reformas económicas que beneficiaron directamente a los conservadores.
- C) Instauró un gobierno progresista que recogió demandas sociales de las mayorías.
- D) Accedió al poder incorporando el programa de las fuerzas políticas tradicionales.
- E) Se alejó del centro político para captar el voto de los sectores de izquierda.

## MODELO DE HGYCS - 2019

### 58. CHILE: PIB POR SECTORES, 1940-1975 (en millones de pesos de 1995)



(Basado en Juan Braun y otros, Economía Chilena 1810-1995. Estadísticas Históricas, 2000)

El gráfico adjunto permite apreciar la evolución de cuatro sectores de la economía chilena entre 1940 y 1975, periodo que coincide con la etapa de la historia económica de Chile en el que se aplicó el modelo de Industrialización por Sustitución de Importaciones (ISI). A partir de los datos del gráfico, ¿cuál fue una característica del desarrollo industrial durante esta etapa?

- A) Se mantuvo en constante crecimiento.
- B) Produjo un estancamiento del conjunto de la economía.
- C) Era incompatible con el desarrollo agrícola.
- D) Estuvo bajo la influencia del sector minero.
- E) Fue más dinámico que el resto de los sectores productivos.

59. Una de las banderas de lucha de las organizaciones de defensa de los Derechos Humanos, durante la Dictadura Militar en Chile (1973-1990), fue el esclarecimiento de la situación de los detenidos desaparecidos. En ese contexto, ¿en qué se fundamentaba esta exigencia?

- I) En el carácter irrenunciable de los Derechos Humanos.
- II) En la aplicación de la Doctrina Social de la Iglesia Católica.
- III) En el valor intrínseco de las personas.

- A) Solo II
- B) Solo III
- C) Solo I y II
- D) Solo I y III
- E) Solo II y III

## MODELO DE HGYCS - 2019

### 60. SUPERFICIE CON PLANTACIONES DE PINO Y EUCALIPTO, EN ALGUNAS REGIONES SELECCIONADAS, 1976 Y 2007 (en hectáreas)



Regiones	1976	2007
O'Higgins	16.857	67.720
El Maule	54.720	318.800
El Biobío	106.933	749.977
La Araucanía	23.507	363.779
Los Ríos	44.363	207.567

(INE, Cambios Estructurales en la Agricultura Chilena, 2009)

La tabla adjunta muestra el cambio de uso de suelo ocurrido desde mediados de la década de 1970 en algunas regiones del centro-sur de Chile. En dicho contexto, ¿qué hecho explica esta transformación espacial?

- A) El aumento de los aranceles aduaneros.
- B) La aplicación de la Reforma Agraria.
- C) La restricción a la inversión extranjera.
- D) La creación de áreas silvestres protegidas.
- E) La política de promoción a las exportaciones.

# MODELO DE HGYCS - 2019

61.



Santiago: Diario **El Clarín**, septiembre de 1970. Buenos Aires: Diario **La Nación**, septiembre de 1973.

Las imágenes anteriores corresponden a titulares de prensa escrita de Chile y Argentina relativos a la historia de Chile en la década de 1970. En este contexto, ¿por qué estas imágenes pueden ser utilizadas como fuente documental?

- I) Porque permiten inferir las líneas editoriales de ambos periódicos.
- II) Porque permiten rescatar una visión objetiva del contexto histórico del periodo.
- III) Porque permiten obtener evidencia escrita del grado de confrontación político-ideológica del país.

- A) Solo II
- B) Solo III
- C) Solo I y II
- D) Solo I y III
- E) Solo II y III


62.




Las 22 jornadas de protesta nacional, desplegadas a partir de mayo de 1983, fue uno de los procesos que se han utilizado por múltiples autores para marcar el inicio de una paulatina apertura política de la Dictadura Militar chilena. Entre otras razones, ello se explica porque en torno a las protestas

- A) se acabó con el apoyo de las Fuerzas Armadas hacia la Dictadura.
- B) se redujo notablemente la base social que sostenía al régimen.
- C) se desplegó un poderoso foco insurgente que desestabilizó al Gobierno.
- D) se generó una extensa red de ONGs que asesoró al Gobierno.
- E) se articuló un amplio movimiento social que rechazaba al régimen.

## MODELO DE HGYCS - 2019

 63. En 1990 se reinstaló en Chile el sistema de gobierno democrático después de 17 años de dictadura militar. A partir de esa década, se han realizado algunas reformas a la Constitución Política. De las siguientes opciones, ¿cuál corresponde a una de estas reformas?

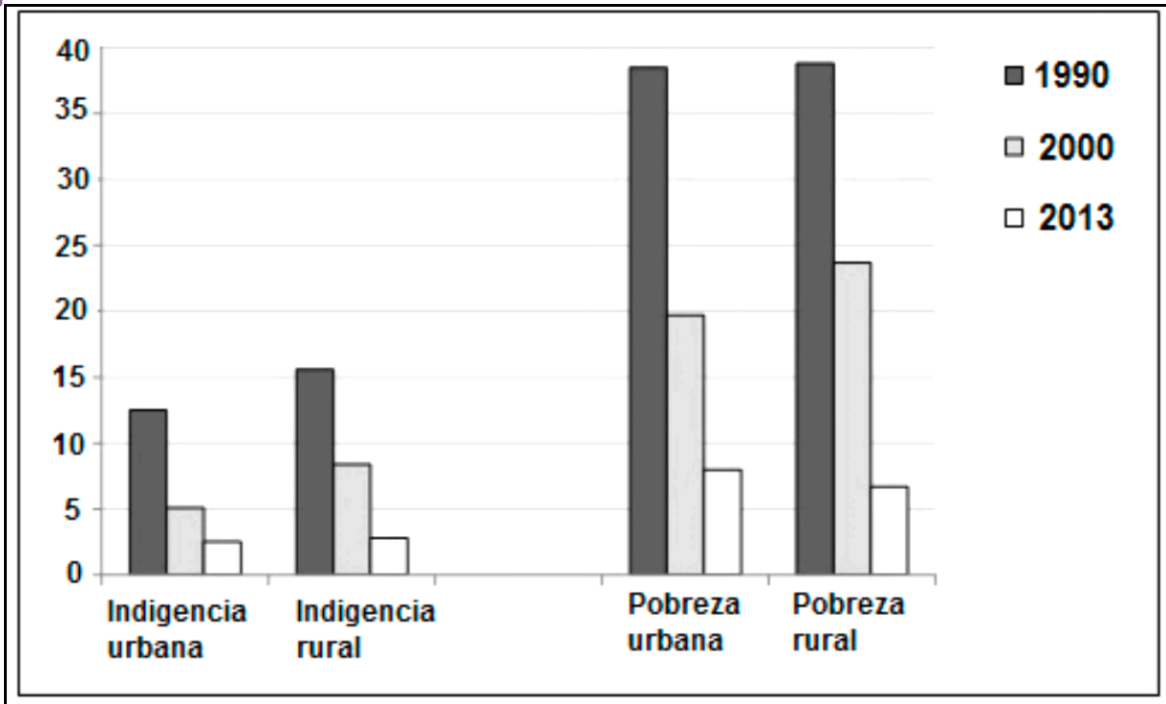
- A) La elección por votación popular de la totalidad del Congreso Nacional.
- B) La sustitución de un sistema presidencialista por uno parlamentario.
- C) La designación de los jueces por parte del Poder Ejecutivo.
- D) La eliminación penal de los delitos tipificados como terroristas.
- E) El desarrollo de procesos electorarios para las Intendencias regionales.

 64. A fines del siglo XX la economía chilena experimentó una apertura al mercado internacional, provocando múltiples repercusiones en las zonas productivas del país. ¿Cuál fue una de las consecuencias que provocó este proceso en los sectores rurales?

- A) La reconversión productiva orientada hacia productos de tipo no tradicionales.
- B) El término de los trabajos temporales en la agroindustria.
- C) La redistribución estatal de las tierras con el objetivo de aumentar su productividad.
- D) El masivo reemplazo de trabajadores nacionales por inmigrantes extranjeros en faenas agrícolas.
- E) La disminución de producción agrícola debido a la importación de productos del agro.

## MODELO DE HGYCS - 2019

### 65. CHILE: PORCENTAJE DE PERSONAS EN CONDICIONES DE INDIGENCIA O POBREZA, SEGÚN ÁREA GEOGRÁFICA, AÑOS 1990, 2000 Y 2013



(CEPAL, Unidad de Estadísticas Sociales)

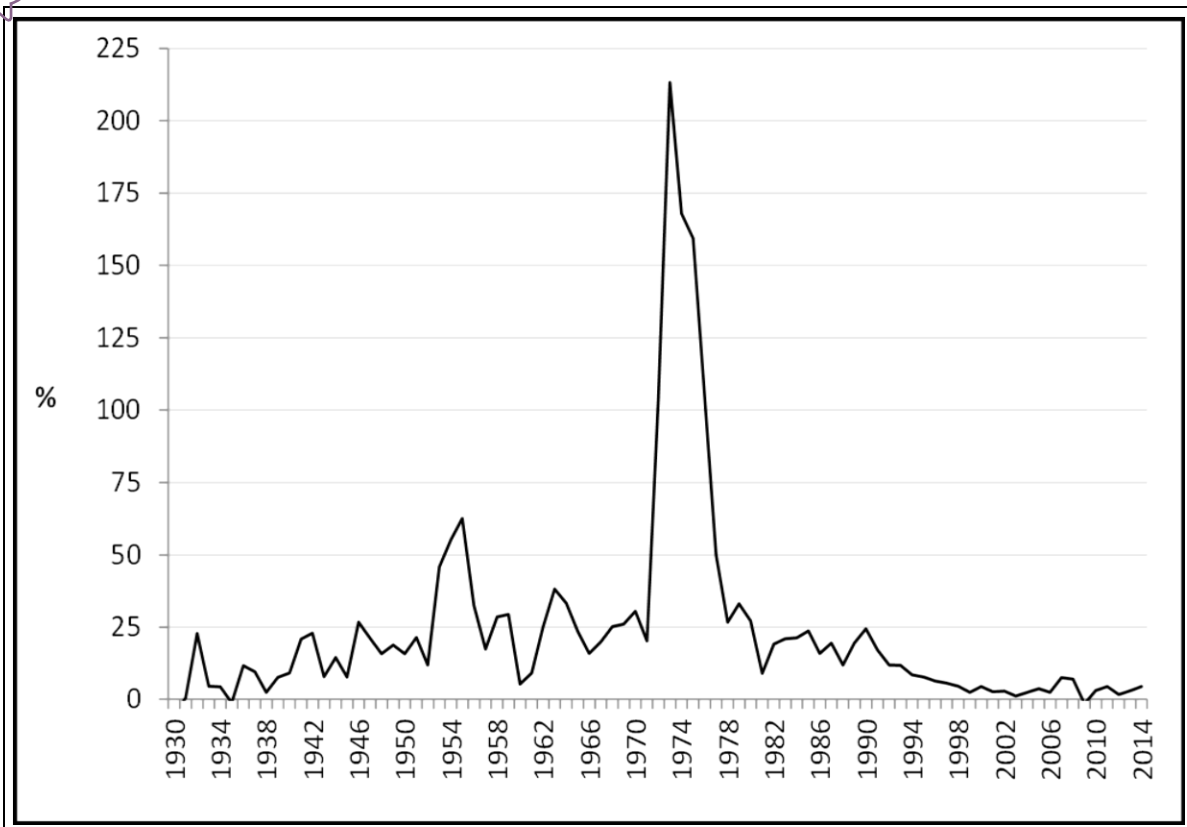
Desde la década de 1990 los distintos gobiernos de Chile han procurado reducir el porcentaje de personas que viven en condiciones de pobreza e indigencia. En dicho contexto y a partir de los datos del gráfico adjunto, ¿cuál(es) de las siguientes afirmaciones es (son) correcta(s) respecto a las cifras de pobreza e indigencia registradas en zonas urbanas y rurales?

- I) La pobreza disminuyó significativamente tanto en las zonas rurales como urbanas en los tres años señalados.
  - II) El porcentaje de pobreza es mayor en las zonas urbanas que en las zonas rurales en el año 2013.
  - III) Los niveles de indigencia disminuyeron en las zonas rurales y en las zonas urbanas entre 1990 y 2013.
- A) Solo I
  - B) Solo II
  - C) Solo I y III
  - D) Solo II y III
  - E) I, II y III



## MODELO DE HGYCS - 2019

### 66. CHILE: VARIACIÓN ANUAL DEL ÍNDICE DE PRECIOS AL CONSUMIDOR (IPC), 1930-2014




(Elaborado a partir de INE, Índice de Precios al Consumidor-Antecedentes históricos)

El gráfico adjunto muestra la evolución del nivel de precios (IPC) en la economía chilena durante el periodo 1930-2014. A partir del análisis del gráfico, ¿cuál(es) de los siguientes fenómenos experimentó la economía chilena en el periodo aludido?


- I) Se alcanzaron los menores niveles de inflación en el periodo de Industrialización por Sustitución de Importaciones.
  - II) Se produjo una fuerte alza del valor de los bienes durante la etapa de la Unidad Popular.
  - III) Se mantuvo inalterable el nivel de precios de los productos en la época de la Dictadura Militar.
- 
- A) Solo I
  - B) Solo II
  - C) Solo I y II
  - D) Solo I y III
  - E) Solo II y III

# MODELO DE HGYCS - 2019

## EL MUNDO EN PERSPECTIVA HISTÓRICA


67.  El orden político internacional de Europa del último tercio del siglo XIX constituye uno de los factores que explican el inicio de la Primera Guerra Mundial. ¿Cuál de las siguientes situaciones influyó en el desencadenamiento de dicha conflagración?

- A) El enfrentamiento entre regímenes monárquicos y republicanos.
- B) La expansión de movimientos revolucionarios de carácter socialista.
- C) La falta de instituciones internacionales representativas de la burguesía.
- D) Los conflictos entre los grandes imperios colonialistas.
- E) El debilitamiento de los sentimientos de nacionalidad en la población.

68.  En Inglaterra, así como en otros países europeos, durante la Primera Guerra Mundial, las mujeres ingresaron masivamente como fuerza de trabajo industrial. Respecto de este proceso, ¿qué cambio(s) produjo en la sociedad de la época?


- I) El incremento del mercado consumidor femenino por la mayor cantidad de mujeres que comenzó a recibir un salario por su trabajo.
  - II) La reducción considerable de la jornada de trabajo por la necesidad de otorgar más tiempo a las mujeres para ejercer su rol maternal.
  - III) El aumento de la participación colectiva femenina en torno a exigir demandas civiles y políticas.
- A) Solo I
  - B) Solo I y II
  - C) Solo I y III
  - D) Solo II y III
  - E) I, II y III

## MODELO DE HGYCS - 2019

69.  “En los ejércitos había millones de hombres y, detrás de ellos, poblaciones enteras organizadas para aprovisionarlos, en el frente, de víveres y municiones. Todos los varones útiles fueron llevados a los ejércitos de tierra, a la marina o a factorías improvisadas para el servicio de una u otros. Probablemente más de una mitad de los ciudadanos de los países beligerantes de Europa cambiaron de profesión durante aquel tremendo combate”. (Herbert George Wells, **Breve Historia del Mundo**, 1935).


La Primera Guerra Mundial fue un conflicto que generó profundas alteraciones en la humanidad a comienzos del siglo XX, una de las cuales es descrita en el fragmento anterior. De acuerdo a la cita, ¿qué característica de esta guerra se describe directamente en ella?

- A) La gran cantidad de víctimas militares y civiles.
- B) La extensión planetaria que adquirió el conflicto.
- C) La orientación de las economías hacia la producción bélica.
- D) El uso de la tecnología con fines de destrucción masiva.
- E) La incorporación de los niños en los trabajos industriales.


70.  La Primera Guerra Mundial provocó importantes repercusiones en gran parte de los países del mundo, entre ellos Rusia. De las siguientes opciones, ¿cuál corresponde a uno de los efectos de este conflicto en Rusia?

- A) Acentuó la influencia de Rusia en Europa Occidental.
- B) Influenció al gobierno del zar para decretar la disolución de la Duma.
- C) Consolidó el liderazgo de los militares entre la población.
- D) Generó una mayor adhesión popular a los grupos opositores al zarismo.
- E) Promovió una alianza defensiva entre los países de Europa Oriental.

## MODELO DE HGYCS - 2019


71.  La Crisis Económica de 1929 iniciada en EE.UU. se propagó rápidamente a otros países del mundo. En el caso de Latinoamérica, ¿cuál de los siguientes factores afectó la economía de esta región?

- A) La escasez y alto costo de la mano de obra del sector primario.
- B) La fuerte orientación de las industrias manufactureras hacia el exterior.
- C) Las importantes inversiones que poseían los Estados en el área productiva.
- D) La gran dependencia del crecimiento económico de la inversión extranjera.
- E) La concentración de la mano de obra en extracción de minerales.

72.  Dentro del periodo de Entreguerras, ocurrió una serie de procesos que contribuyeron al estallido de la Segunda Guerra Mundial. Entre dichos procesos es correcto señalar el surgimiento de los regímenes totalitarios en Europa. En este contexto, ¿cuál(es) de los siguientes factores fue(ron) determinante(s) en el surgimiento de dichos regímenes?

- I) La Gran Depresión que se expandió por el mundo en la década de 1930.
  - II) El deficiente funcionamiento de los sistemas parlamentarios liberales.
  - III) El fortalecimiento de los nacionalismos fundados en la idea de un pasado glorioso.
- A) Solo I
  - B) Solo II
  - C) Solo I y II
  - D) Solo I y III
  - E) I, II y III


## MODELO DE HGYCS - 2019

73.  “La única regla de la que todo el mundo puede estar seguro en un Estado totalitario es que, cuanto más visibles son los organismos del Gobierno, menor es su poder, y que cuanto menos se conoce una institución, más poderosa resultará ser en definitiva. De acuerdo con esta norma, los soviets, [...] tienen menos poder que el Partido Bolchevique; [este] tiene menor poder que la Policía Secreta; el poder auténtico comienza donde empieza el secreto. A este respecto, los Estados nazi y bolchevique eran muy parecidos. Su diferencia descansaba principalmente en la monopolización y en la centralización de los servicios secretos policíacos en Hitler, por una parte, y, por otra, en el haz de actividades policíacas aparentemente no relacionadas ni conectadas, en Rusia”. (Hannah Arendt, **Los orígenes del totalitarismo**, 1951).

Del análisis del texto anterior y teniendo en cuenta el periodo aludido, ¿qué aspecto(s) del totalitarismo es (son) correcto(s) inferir?


- I) El ejercicio político e ideológico se ajustaba conforme a Derecho.
  - II) El poder se consolidaba a través del Partido y de los servicios secretos.
  - III) En cualquiera de sus versiones carecía de una ideología.
- 
- A) Solo II
  - B) Solo I y II
  - C) Solo I y III
  - D) Solo II y III
  - E) I, II y III

## MODELO DE HGYCS - 2019

74.  “La historia muestra que no hay ejércitos invencibles, y nunca han existido [...]. Lo mismo debe ser dicho hoy del ejército fascista alemán de Hitler. Este ejército aún no se ha encontrado con una resistencia seria, y si como resultado de esta resistencia las mejores divisiones del ejército fascista alemán de Hitler han sido derrotadas por nuestro Ejército Rojo, significa que este ejército, también puede ser machacado y será machacado como lo fueron los ejércitos de Napoleón y Guillermo”. (José Stalin, **Discurso radiofónico del 3 de julio de 1941**).


Del análisis del discurso de Stalin pronunciado durante el desarrollo de la Segunda Guerra Mundial, ¿qué hecho(s) corresponde(n) al periodo que abarcó dicho conflicto?

- I) La ruptura del Pacto de No Agresión germano-soviético.
  - II) El triunfo del Ejército Rojo sobre las fuerzas militares del Tercer Reich.
  - III) El avance del proceso que llevó a la URSS a convertirse en potencia mundial.
- A) Solo I
  - B) Solo II
  - C) Solo III
  - D) Solo I y II
  - E) I, II y III

75.  La Guerra Fría es el periodo que se inicia casi inmediatamente después de finalizada la Segunda Guerra Mundial y constituye una etapa histórica definida por ciertas características propias de un nuevo orden mundial. ¿Cuál fue una de estas características?

- A) La competencia realizada entre las potencias por la conformación de imperios coloniales.
- B) La supremacía alcanzada por EE.UU. basada en la posesión exclusiva de armamento nuclear.
- C) El esfuerzo común efectuado por los antiguos aliados contra el fascismo para articular la reconstrucción europea.
- D) La conformación de zonas de influencia por parte de EE.UU. y la URSS establecidas a nivel mundial.
- E) El aislamiento de la URSS promovido por las potencias occidentales encabezadas por EE.UU.


## MODELO DE HGYCS - 2019

76.  “Nixon [...] había iniciado su mandato con un viraje que nadie esperaba de un campeón de la guerra fría, ofreciéndose a entrar en una era de negociaciones. Las razones de este cambio las explicaba diciendo que la política de *brinkmanship* - de llevar la amenaza nuclear hasta el extremo -era viable en tiempos de Eisenhower [...] cuando la superioridad norteamericana en el terreno de las armas nucleares era aplastante, pero que después de la experiencia de los misiles cubanos en 1962, «los soviéticos se apresuraron a alcanzarnos y consiguieron de hecho paridad nuclear con los Estados Unidos»”. (Josep Fontana, **Por el bien del Imperio. Una historia del mundo desde 1945**, 2013).

De acuerdo a la cita y considerando las características del periodo de la Guerra Fría, ¿qué razón motivó a Estados Unidos a iniciar una política de distensión con la Unión Soviética?


- A) La constatación de la superioridad tecnológica soviética.
- B) La urgencia de asegurar su poder en Centroamérica.
- C) El apoyo a la reactivación de la economía norteamericana.
- D) El temor a los efectos de una guerra atómica a gran escala.
- E) La necesidad de aplacar las demandas de los movimientos pacifistas.

## MODELO DE HGYCS - 2019

77.  “La dominación del colonialismo en estos dos continentes todavía no ha terminado y los nuevos colonizadores intentan sustituir a sus antecesores. No pocos pueblos afroasiáticos siguen llevando una vida de esclavos colonialistas, sufriendo la discriminación racial y viendo cómo sus derechos humanos son atropellados [...] Los pueblos afroasiáticos han sido víctimas de agresiones y guerras durante mucho tiempo. Muchos de ellos fueron obligados por los colonizadores a ser carne de cañón en las guerras de agresión por lo que no pueden sino odiarlas. Son conscientes de que la amenaza de nuevas guerras no sólo perjudica su independencia y desarrollo sino que también refuerza su subyugación al colonialismo. Por esta razón, los pueblos afroasiáticos comprendemos profundamente el valor de la paz mundial y de la independencia nacional”. (**Discurso de Zhou Enlai, en la Conferencia de Bandung, 1955**).

La cita anterior corresponde a un discurso emitido en la Conferencia de Bandung de 1955, instancia que dio origen al Movimiento de Países No Alineados. De acuerdo al análisis de la cita y del contexto político de la época, ¿cuál(es) de las siguientes afirmaciones corresponde(n) a objetivos de dicho movimiento?


- I) Garantizar la autonomía económica y política de los países africanos y asiáticos ocupados por las potencias extranjeras.
  - II) Establecer relaciones internacionales basadas en la igualdad de derechos entre los países.
  - III) Conformar una alianza militar para la liberación de las colonias.
- A) Solo I
  - B) Solo II
  - C) Solo I y II
  - D) Solo I y III
  - E) Solo II y III

78.  Una de las transformaciones ocurridas en la segunda mitad del siglo XX, fue la mayor presencia de las mujeres en diferentes ámbitos de la sociedad tales como el cultural, político y laboral. Para el caso de la sociedad chilena, ¿cuál fue el principal objetivo de las mujeres?

- A) Alcanzar la igualdad de oportunidades con los hombres.
- B) Abandonar el rol del trabajo doméstico.
- C) Colaborar ante las crisis financieras.
- D) Aumentar los ingresos económicos del país.
- E) Reemplazar al hombre en sus funciones profesionales.




## MODELO DE HGYCS - 2019

79.  “Tan solo en el siglo XX, alrededor de 110 millones de seres humanos en el mundo murieron en conflictos armados de diversa índole. Se estima que, de 1990 a la fecha, 90% de las víctimas mortales de esos conflictos fueron civiles, y de ellos, 80% eran mujeres y niños. Impactantes como son, estas cifras no incluyen a víctimas no mortales que hoy sufren discapacidad, mutilaciones, enfermedades y otras secuelas. [...] Tampoco dicen nada de los profundos impactos psico-sociales y ambientales, así como de las pérdidas materiales inconmensurables, directamente relacionadas con estos conflictos. Así, además de segar vidas humanas, los conflictos erosionan el respeto a los derechos humanos, retardan el progreso, generan desintegración social y son, en definitiva, el mayor azote de la humanidad”. (Marcela Rodríguez, **La construcción de la paz centroamericana en el siglo XXI**, 2009).

En el texto anterior la autora realiza una evaluación de los conflictos bélicos mundiales en el siglo XX. Del análisis de dicho texto, ¿qué aspecto(s) de estos conflictos destaca?

- I) Los esfuerzos por erradicarlos y construir un mundo de paz fueron insuficientes.
  - II) La solución a ellos dependía únicamente de la acción de los organismos internacionales.
  - III) Los costos materiales fueron superados por el impacto causado a la humanidad.
- A) Solo I
  - B) Solo I y II
  - C) Solo I y III
  - D) Solo II y III
  - E) I, II y III

80.  A principios de la década de 1990 se produjo una crisis del sistema socialista mundial y la desarticulación de la Unión Soviética como Estado. ¿Cuál de los siguientes planteamientos constituye una explicación a este proceso?

- A) La implementación de un plan concebido por Europa para desestabilizar dicho sistema.
- B) El rechazo de los gobiernos socialistas de América Latina para adherir al bloque soviético.
- C) La falta de respuesta a las demandas económicas y políticas de sus ciudadanos.
- D) El debilitamiento de los países socialistas por la liberalización de la economía china.
- E) El aislamiento político y militar de los Estados socialistas en relación con el bloque occidental.

**CLAVES**  
Respuestas correctas

Nº de Pregunta	Clave
1	B
2	C
3	A
4	E
5	E
6	A
7	C
8	A
9	A
10	B
11	B
12	D
13	E
14	A
15	D
16	E
17	C
18	D
19	A
20	C
21	D
22	C
23	E
24	E
25	D
26	C
27	B
28	A
29	D
30	B

Nº de Pregunta	Clave
31	A
32	D
33	D
34	C
35	C
36	E
37	A
38	D
39	B
40	C
41	B
42	C
43	E
44	B
45	D
46	E
47	B
48	D
49	C
50	B
51	A
52	A
53	A
54	D
55	C
56	E
57	C
58	E
59	D
60	E

Nº de Pregunta	Clave
61	D
62	E
63	A
64	A
65	E
66	B
67	D
68	C
69	C
70	D
71	D
72	E
73	A
74	E
75	D
76	D
77	C
78	A
79	C
80	C

Preguntas Vigentes

Preguntas No Vigentes

