

PROCESO de
ADMISIÓN

2020

PSU®

Resolución Modelo de Prueba:
**CIENCIAS TÉCNICO
PROFESIONAL**



DEMRE

PIONEROS • EXPERTOS • CONFIABLES

PREGUNTA 1 (Módulo Común)

El proceso mediante el cual una célula vegetal, al ser colocada en un medio hipertónico, pierde agua y su membrana plasmática se separa de la pared celular, se denomina

- A) plasmólisis.
- B) citólisis.
- C) turgencia.
- D) apoptosis.
- E) diálisis.

RESOLUCIÓN

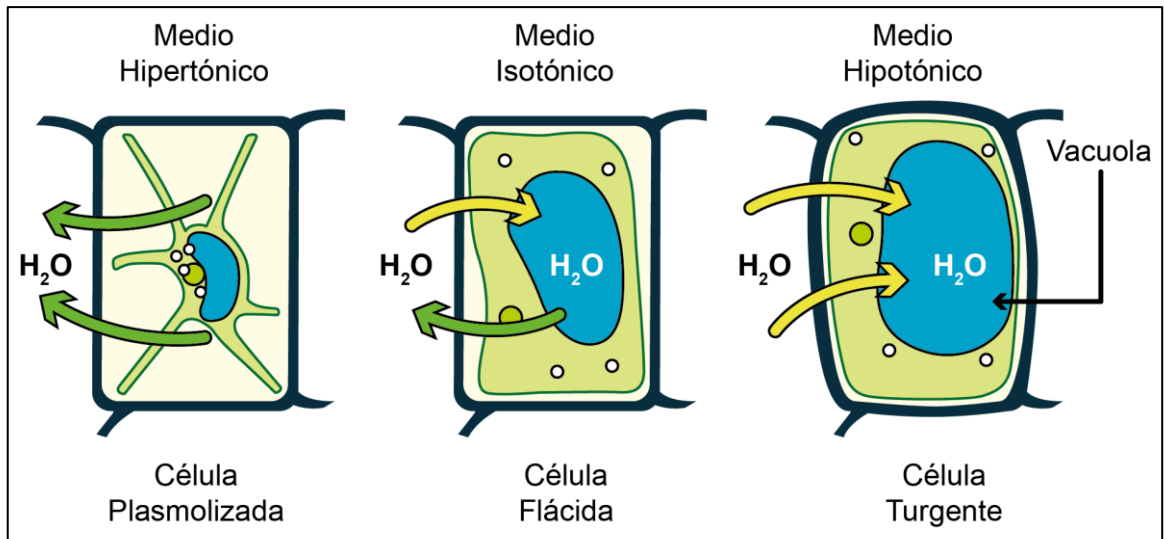
Para responder correctamente este ítem el postulante debe conocer los mecanismos generales de transporte a través de la membrana plasmática en células vegetales.

En la célula la membrana plasmática es la estructura semipermeable que regula el intercambio de sustancias entre el medio intracelular y el medio externo. En el caso del transporte pasivo (sin gasto de energía), las diferencias en el gradiente electroquímico determinarán la direccionalidad del transporte de sustancias a través de la membrana, desde o hacia el medio intracelular.

Para el caso del transporte de agua, proceso conocido como osmosis, cuando el medio externo presenta una mayor concentración (medio hipertónico) que el medio intracelular, el flujo de agua será direccionado hacia el exterior de la célula. Cuando el medio externo presenta una menor concentración (medio hipotónico) que el intracelular, el flujo de agua será direccionado hacia el interior de la célula. Finalmente, cuando el medio externo presenta la misma concentración (medio isotónico) que el intracelular, el flujo de entrada y salida de sustancia será el mismo, por lo tanto, el flujo neto será cero.

Entendiendo las generalidades sobre el transporte de agua entre la célula y el medio, es necesario conocer las particularidades que ocurren en la célula vegetal, dado que esta posee otra estructura, además de la membrana plasmática, llamada pared celular, la cual actúa como un contenedor que evita que la célula se lise, además, las células vegetales presentan también una gran vacuola central que constituye un depósito de agua y sales.

De acuerdo al enunciado, la célula vegetal fue puesta en una solución hipertónica, por lo tanto, en la célula el agua se movilizará hacia el medio externo, reduciéndose el volumen celular. Bajo estas condiciones la membrana plasmática permanecerá adosada a la pared celular solo en algunos sectores. A este proceso se le conoce como plasmólisis (ver figura), por lo tanto la respuesta correcta corresponde a la opción A).



Efectos de una solución hipertónica, isotónica e hipotónica en una célula vegetal.

FICHA DE REFERENCIA CURRICULAR

Eje Temático / Área Temática: Estructura y función de los seres vivos / Organización, estructura y actividad celular

Nivel: I Medio

Objetivo Fundamental: Comprender que la célula está constituida por diferentes moléculas biológicas que cumplen funciones específicas en el metabolismo celular.

Contenido Mínimo Obligatorio: Explicación de fenómenos fisiológicos sobre la base de la descripción de mecanismos de intercambio entre la célula y su ambiente (transporte activo, pasivo y osmosis) y extrapolación de esta información a situaciones como, por ejemplo, la acumulación o pérdida de agua en tejidos animales y vegetales.

Habilidad Cognitiva: Reconocimiento

Clave: A

PREGUNTA 2 (Módulo Común)

¿En cuál de las siguientes estructuras celulares es posible encontrar una bicapa lipídica?

- A) Centríolo
- B) Lisosoma
- C) Citoesqueleto
- D) Ribosoma
- E) Cromosoma

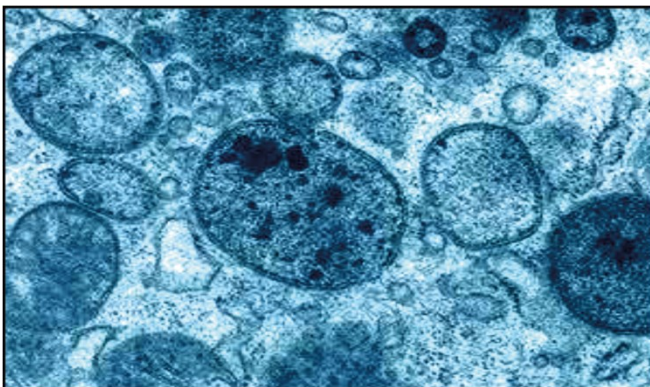
RESOLUCIÓN

Para responder correctamente este ítem el postulante debe conocer la estructura general de los organelos.

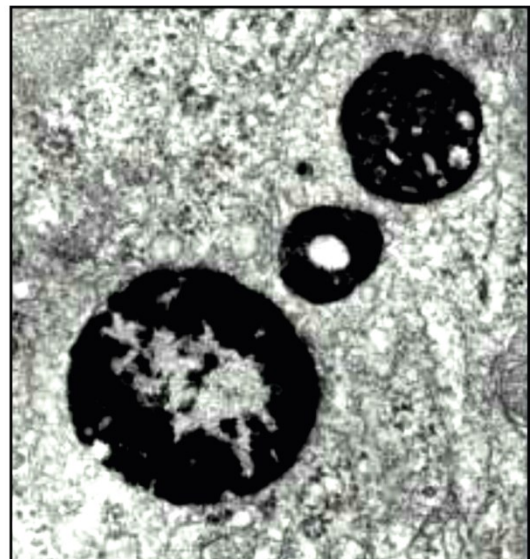
El lisosoma (ver figura) es un organelo descubierto a principios de la década de 1950 por Christian de Duve y sus colaboradores. Este organelo mide aproximadamente 0,5 – 1,0 μm de diámetro y está limitado por una membrana constituida por una bicapa lipídica.

Los lisosomas presentan gran variedad de formas y tamaños y su función está relacionada con la degradación de material intracelular. En su interior contienen enzimas hidrolíticas ácidas (nucleasas, proteasas, glicosidasas, lipasas, etc), que requieren un pH cercano a 5,5 para su actividad óptima. Sus enzimas hidrolíticas (alrededor de 40 tipos), catalizan la digestión controlada de macromoléculas, tales como proteínas, ácidos nucleicos, carbohidratos y lípidos provenientes de componentes obsoletos de la célula y material extracelular (ej. destrucción de microorganismos fagocitados), por esta razón se dice que los lisosomas controlan la digestión celular.

Según lo fundamentado anteriormente, la respuesta correcta es B).



Visualización histoquímica de lisosomas.



FICHA DE REFERENCIA CURRICULAR

Eje Temático / Área Temática: Estructura y función de los seres vivos / Organización, estructura y actividad celular

Nivel: I Medio

Objetivo Fundamental: Comprender que la célula está constituida por diferentes moléculas biológicas que cumplen funciones específicas en el metabolismo celular.

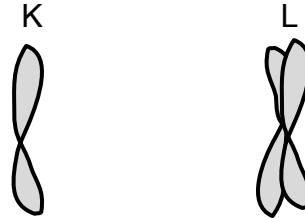
Contenido Mínimo Obligatorio: Identificación de las principales moléculas orgánicas que componen la célula y de sus propiedades estructurales y energéticas en el metabolismo celular.

Habilidad Cognitiva: Reconocimiento

Clave: B

PREGUNTA 3 (Módulo Común)

El esquema representa dos estados distintos (K y L) en que se puede encontrar un cromosoma durante la división celular.



Al respecto, ¿cuál de las siguientes afirmaciones es correcta?

- A) En K, el ADN cromosómico está duplicado.
- B) En L, se representa un par homólogo.
- C) En L, se representa un cromosoma telofásico.
- D) En K, se representa un cromosoma con dos cromátidas hermanas.
- E) En L, se representa un cromosoma en metafase mitótica.

RESOLUCIÓN

Para responder correctamente este ítem el postulante debe conocer la apariencia que presentan los cromosomas a través de las distintas fases de la división celular.

Durante el ciclo celular, el material genético presente en el núcleo de cada célula, experimenta diversos procesos, entre ellos la replicación, que permite, en el caso de la mitosis, generar células hijas con la misma cantidad de información genética que presentaba la célula madre. Cabe mencionar que el cromosoma es una estructura visible solo durante las etapas de mitosis y/o meiosis, ya que en estos procesos el material genético alcanza el máximo grado de compactación. Durante el resto del ciclo celular, periodo llamado interfase, el material genético se encuentra con un menor grado de compactación.

Después que la célula ha replicado su material genético y ha sintetizado las moléculas que participan en el proceso de división celular, se inicia la profase, etapa en la que los cromosomas se encuentran duplicados. La siguiente etapa corresponde a la metafase, donde los cromosomas se alinean en el ecuador de la célula, formando la placa metafásica. A continuación, en la anafase, el huso mitótico se contrae, provocando la separación de las cromátidas hermanas, por lo que ahora los cromosomas se observan simples, al igual que en la etapa posterior denominada telofase. En base a lo anterior, es correcto afirmar que en L se representa un cromosoma en metafase mitótica, ya que en esta etapa los cromosomas se encuentran duplicados. Por lo tanto, la respuesta correcta corresponde a la opción E).

FICHA DE REFERENCIA CURRICULAR

Eje Temático / Área Temática: Estructura y función de los seres vivos / Organización, estructura y actividad celular

Nivel: II Medio

Objetivo Fundamental: Comprender que cada individuo presenta los caracteres comunes de la especie con variaciones individuales que son únicas y que éstos son el resultado de la expresión de su programa genético y de la influencia de las condiciones de vida.

Contenido Mínimo Obligatorio: Explicación del mecanismo que permite la conservación de la información genética en el transcurso de la división celular (mitosis) y de la generación de células haploides (meiosis), en la gametogénesis.

Habilidad Cognitiva: Comprensión

Clave: E

PREGUNTA 4 (Módulo Común)

¿En qué fase del proceso de división de una célula humana se observan 92 cromosomas y 92 centrómeros?

- A) Profase mitótica
- B) Anafase mitótica
- C) Metafase mitótica
- D) Telofase I meiótica
- E) Anafase I meiótica

RESOLUCIÓN

Para responder correctamente este ítem el postulante debe comprender el proceso de división celular y conocer cuál es la dotación cromosómica de la especie humana.

Para nuestra especie, la dotación cromosómica característica corresponde a 46 cromosomas, distribuidos en 23 pares, de los cuales 22 pares corresponden a cromosomas autosómicos homólogos y 1 par corresponde a los cromosomas sexuales. Durante el ciclo celular, una célula en división duplica previamente su ADN, visualizándose al microscopio, en profase mitótica y/o profase I meiótica, 46 cromosomas duplicados (uno de los cuales se representa en la figura 1) constituidos por dos cromátidas unidas por un centrómero. Durante la metafase de ambos procesos, los cromosomas están alineados en la placa metafásica, por lo tanto, se mantiene la relación 46 cromosomas (duplicados) y 46 centrómeros. En la anafase mitótica, las cromátidas hermanas se separan dando origen a 92 cromosomas simples (dos de los cuales se representan en la figura 2) y a 92 centrómeros. Por lo tanto, la respuesta correcta corresponde a la opción B).

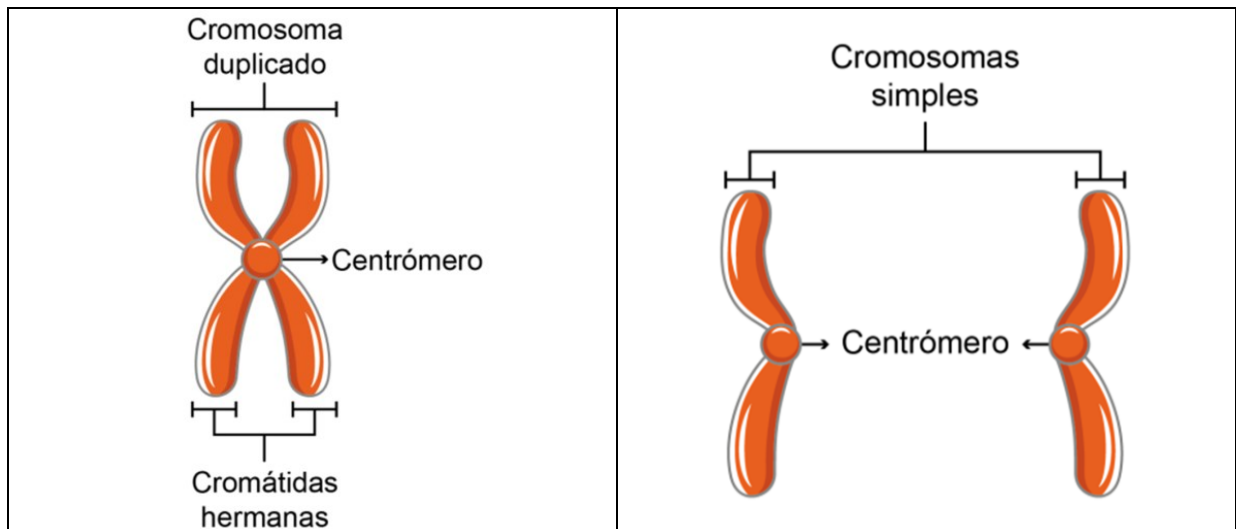


Figura 1: Esquema de un cromosoma duplicado.

Figura 2: Esquema de dos cromosomas simples.

FICHA DE REFERENCIA CURRICULAR

Eje Temático / Área Temática: Estructura y función de los seres vivos / Organización, estructura y actividad celular

Nivel: II Medio

Objetivo Fundamental: Comprender que cada individuo presenta los caracteres comunes de la especie con variaciones individuales que son únicas y que éstos son el resultado de la expresión de su programa genético y de la influencia de las condiciones de vida.

Contenido Mínimo Obligatorio: Explicación del mecanismo que permite la conservación de la información genética en el transcurso de la división celular (mitosis) y de la generación de células haploides (meiosis), en la gametogénesis.

Habilidad Cognitiva: Comprensión

Clave: B

PREGUNTA 5 (Módulo Común)

En cierta especie de ave, la hembra porta el par de cromosomas sexuales ZW y el macho los cromosomas sexuales ZZ. Si en esta especie los gametos normales presentan 20 cromosomas, es correcto afirmar que la dotación cromosómica normal

- A) de los gametos producidos por las hembras es $20+W$.
- B) de las células somáticas de los machos es $38+ZZ$.
- C) de los gametos producidos por los machos es $20+Z$.
- D) de los gametos producidos por las hembras es $18+ZW$.
- E) de las células somáticas de las hembras es $40+ZW$.

RESOLUCIÓN

Para responder correctamente este ítem el postulante debe conocer la dotación cromosómica de células somáticas y gaméticas y la determinación del sexo en los organismos, relacionando esto con la formación de gametos y de nuevos individuos en una especie de ave.

En la especie humana el sexo genético está determinado por el macho, que es heterogamético, ya que presenta un cromosoma X y un cromosoma Y, mientras que la hembra es homogamética, ya que presenta dos cromosomas X. Sin embargo, en la naturaleza también existen especies donde los individuos heterogaméticos corresponden a las hembras, como es el caso del ave referida en el ítem. A su vez, se menciona que los gametos de estas aves presentan 20 cromosomas, 19 autosómicos y uno sexual. Considerando que los gametos presentan la mitad de los cromosomas de las células somáticas, estas últimas estarán constituidas por 38 cromosomas autosómicos y dos cromosomas sexuales, por lo tanto, de acuerdo a lo fundamentado anteriormente la respuesta correcta corresponde a la opción B).

FICHA DE REFERENCIA CURRICULAR

Eje Temático / Área Temática: Estructura y función de los seres vivos / Organización, estructura y actividad celular

Nivel: II Medio

Objetivo Fundamental: Comprender que cada individuo presenta los caracteres comunes de la especie con variaciones individuales que son únicas y que éstos son el resultado de la expresión de su programa genético y de la influencia de las condiciones de vida.

Contenido Mínimo Obligatorio: Explicación del mecanismo que permite la conservación de la información genética en el transcurso de la división celular (mitosis) y de la generación de células haploides (meiosis), en la gametogénesis.

Habilidad Cognitiva: Comprensión

Clave: B

PREGUNTA 6 (Módulo Común)

Si durante la división de las células de la raíz de una planta, se aplica una sustancia X que destruye el complejo de Golgi de estas células, ¿cuál será el efecto esperado en dicho tejido?

- A) La mitosis se detendrá en metafase.
- B) Se obtendrán células con dos núcleos.
- C) Las células resultantes serán más pequeñas.
- D) Las células resultantes serán indiferenciadas.
- E) Las células resultantes tendrán la mitad del material genético.

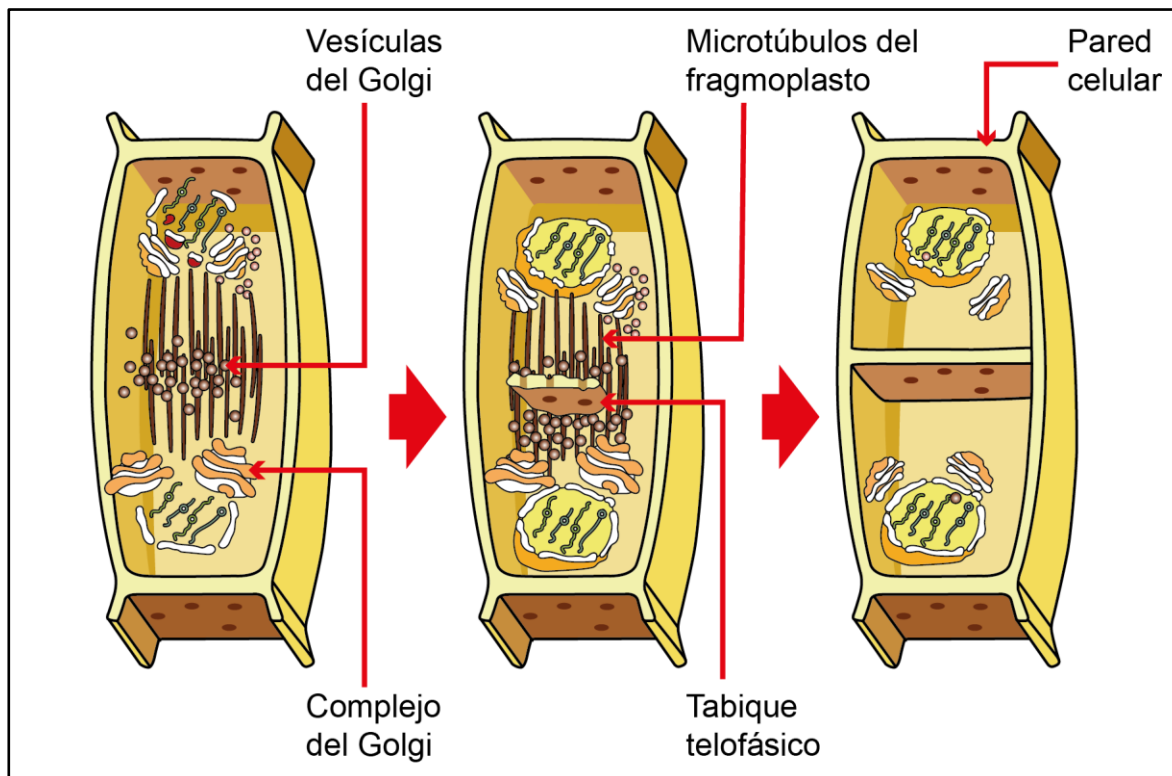
RESOLUCIÓN

Para responder correctamente este ítem el postulante debe conocer las funciones generales del complejo de Golgi y aplicar estos conocimientos a una situación particular.

El complejo de Golgi es un organelo formado por una serie de cisternas aplanadas que se disponen regularmente formando pilas. En una célula puede haber varios de estos apilamientos y algunas cisternas localizadas en pilas próximas están conectadas lateralmente. El número y el tamaño de las cisternas son variables y dependen del tipo celular, así como del estado fisiológico de la célula.

Algunas funciones de este organelo son la acumulación, la maduración, el transporte y la secreción de las proteínas. Además, otra de sus funciones es la glicosilación, es decir la adición de azúcares a los lípidos y proteínas, proceso que se inicia en el retículo endoplasmático, dando origen a glicolípidos y glicoproteínas de membrana o moléculas de secreción.

En células vegetales el complejo de Golgi sintetiza los componentes de la pared celular y del tabique telofásico que divide el citoplasma en la zona ecuatorial (ver figura). Por este motivo, al aplicar una sustancia que destruya al complejo de Golgi en células constituyentes de la raíz de una planta, que son células en división, se impedirá la formación del tabique telofásico y se obtendrán células con dos núcleos. Por lo tanto, según lo fundamentado anteriormente la respuesta correcta corresponde a la opción B).



Formación del tabique telofásico.

Ref: Fundamentos de Biología Celular y Molecular de De Robertis. 4ta Edición.

FICHA DE REFERENCIA CURRICULAR

Eje Temático / Área Temática: Estructura y función de los seres vivos / Organización, estructura y actividad celular

Nivel: II Medio

Objetivo Fundamental: Comprender que cada individuo presenta los caracteres comunes de la especie con variaciones individuales que son únicas y que éstos son el resultado de la expresión de su programa genético y de la influencia de las condiciones de vida.

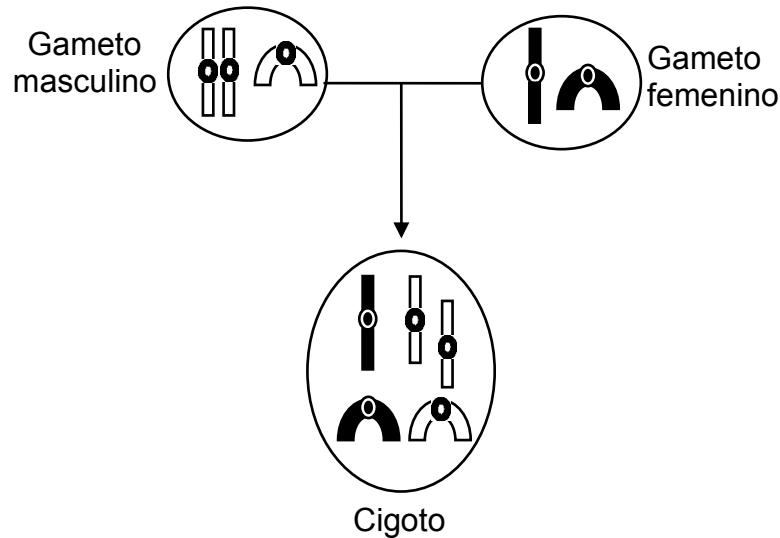
Contenido Mínimo Obligatorio: Explicación del mecanismo que permite la conservación de la información genética en el transcurso de la división celular (mitosis) y de la generación de células haploides (meiosis), en la gametogénesis.

Habilidad Cognitiva: Aplicación

Clave: B

PREGUNTA 7 (Módulo Común)

El esquema representa un proceso de fecundación. Los símbolos al interior de las células representan cromosomas.



De acuerdo con el esquema, ¿cuál de las siguientes afirmaciones es correcta?

- A) El gameto femenino es diploide.
- B) El cigoto tiene cinco autosomas.
- C) El cigoto es de sexo femenino.
- D) El cigoto presenta una trisomía.
- E) El gameto masculino es triploide.

RESOLUCIÓN

Para responder correctamente este ítem el postulante debe analizar el esquema que representa la dotación cromosómica de un organismo hipotético.

Los individuos con reproducción sexual tienen en sus células un determinado número de cromosomas. Si las células son somáticas, éstas tendrán dos copias de cada cromosoma, uno heredado del padre y uno heredado de la madre, dotación que se mantiene constante durante el crecimiento o reparación de tejidos, por el proceso de mitosis. No obstante, los gametos de estos organismos presentan la mitad de la dotación cromosómica, ya que al unirse con otro gameto durante la reproducción, se restablece el número de cromosomas característico de la especie. Este proceso de reducción del número de cromosomas durante la producción de gametos se denomina meiosis, el cual consiste en dos divisiones celulares sucesivas y cuenta con varios puntos de control que evitan la formación de gametos con una cantidad no equitativa de cromosomas, como en el caso de esta pregunta.

En el esquema del ítem se observa que el gameto femenino presenta dos cromosomas, mientras que el gameto masculino presenta tres cromosomas, de los cuales dos son del mismo tipo, por lo que el proceso de meiosis que generó este gameto tuvo un problema en alguna de sus etapas. Al unirse los gametos normales de esta especie se formaría un cigoto con dos pares de cromosomas, sin embargo, en el esquema están los dos pares más una copia extra de un cromosoma, por lo que el cigoto presenta una trisomía, vale decir, tres copias de un mismo cromosoma. Por este motivo, la respuesta correcta corresponde a la opción D).

FICHA DE REFERENCIA CURRICULAR

Eje Temático / Área Temática: Estructura y función de los seres vivos / Organización, estructura y actividad celular

Nivel: II Medio

Objetivo Fundamental: Comprender que cada individuo presenta los caracteres comunes de la especie con variaciones individuales que son únicas y que éstos son el resultado de la expresión de su programa genético y de la influencia de las condiciones de vida.

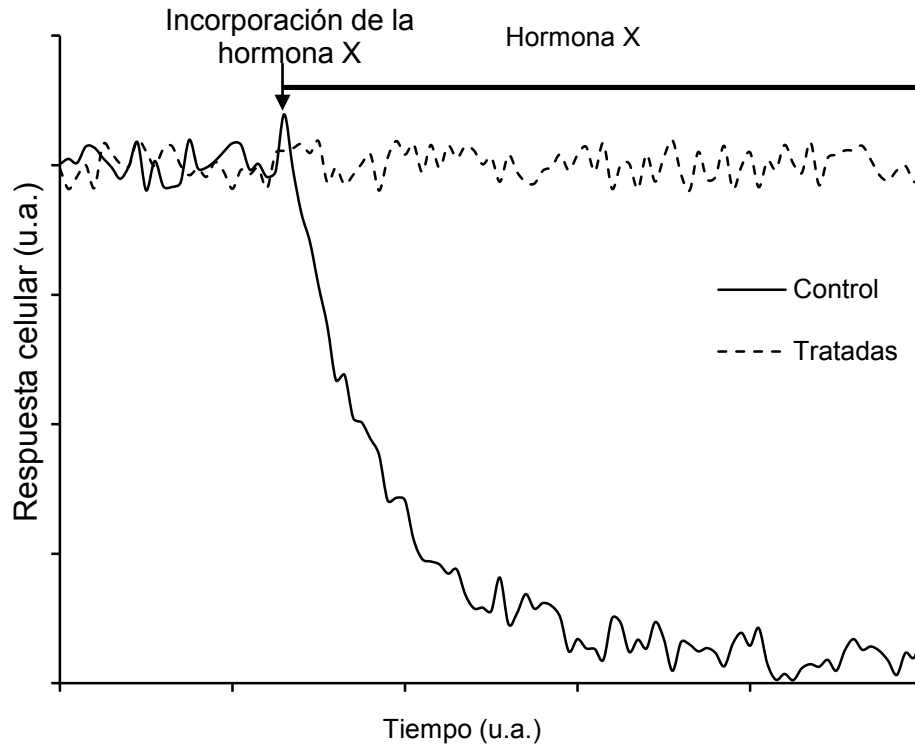
Contenido Mínimo Obligatorio: Explicación del mecanismo que permite la conservación de la información genética en el transcurso de la división celular (mitosis) y de la generación de células haploides (meiosis), en la gametogénesis.

Habilidad Cognitiva: Análisis, Síntesis y Evaluación

Clave: D

PREGUNTA 8 (Módulo Común)

El gráfico muestra la respuesta inducida por la hormona X en dos cultivos del mismo tipo celular, uno control y el otro tratado previamente con una proteasa.



Con respecto al gráfico, es correcto concluir que

- A) la proteasa destruye a la hormona X.
- B) la hormona X tiene un receptor intracelular.
- C) el tratamiento previo inhibe el efecto de la hormona X.
- D) las células control son inhibidas por la proteasa.
- E) la hormona X es lipídica.

RESOLUCIÓN

Para responder correctamente este ítem el postulante debe conocer la función de las proteasas y la naturaleza química de las hormonas para luego analizar la información entregada en el enunciado y en el gráfico. El énfasis de este ítem está puesto en encontrar la conclusión correcta, fundamentada en los resultados de esta investigación.

Atendiendo a lo anterior, las opciones A), B) y E) corresponden a inferencias o extrapolaciones que no se sostienen con la información entregada en el enunciado; en tanto que, la opción D) corresponde a una interpretación errónea de los datos del gráfico.

Cuando se analizan los resultados del gráfico, se constata que al aplicar la hormona X a los dos cultivos de células, solo el cultivo no tratado previamente con la proteasa (control) exhibe cambios significativos en la respuesta celular a la aplicación de la hormona X. De acuerdo a esto, la conclusión derivada del análisis del gráfico es que el tratamiento previo con la proteasa inhibió la acción de la hormona X, por lo tanto, la respuesta correcta corresponde a la opción C).

FICHA DE REFERENCIA CURRICULAR

Eje Temático / Área Temática: Estructura y función de los seres vivos / Procesos y funciones vitales

Nivel: II Medio

Objetivo Fundamental: Analizar el papel biológico de las hormonas en la regulación y coordinación del funcionamiento de todos los sistemas del organismo, entre ellos el sistema reproductor humano, y cómo sus alteraciones afectan significativamente el estado de salud.

Contenido Mínimo Obligatorio: Descripción del mecanismo general de acción hormonal en el funcionamiento de los sistemas del organismo y análisis del caso particular de la regulación hormonal del ciclo sexual femenino.

Habilidad Cognitiva: Análisis, Síntesis y Evaluación

Clave: C

PREGUNTA 9 (Módulo Común)

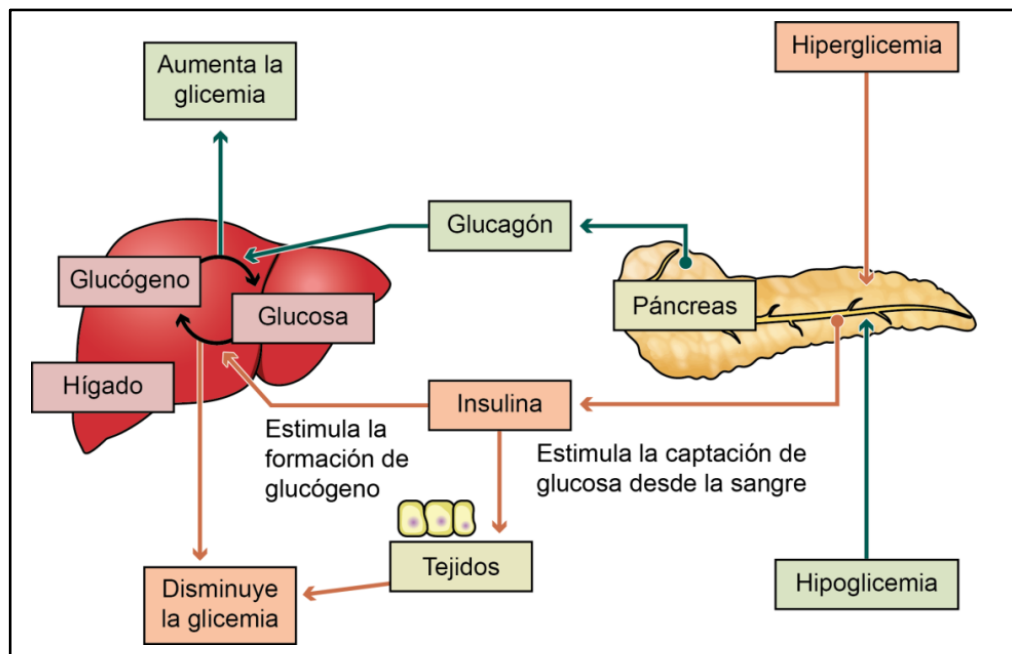
Una persona que desarrolla diabetes tipo 1, ¿cuál(es) de las siguientes características debería presentar?

- I) Incremento de la reabsorción de agua a nivel renal
 - II) Nivel plasmático de glucosa elevado sobre el normal
 - III) Déficit de los niveles plasmáticos de insulina
- A) Solo II
B) Solo III
C) Solo I y II
D) Solo I y III
E) Solo II y III

RESOLUCIÓN

Para responder correctamente este ítem el postulante debe conocer los mecanismos generales de regulación hormonal de la glicemia y utilizar este conocimiento para comprender los efectos que provoca en el organismo la diabetes tipo 1.

Cuando ocurre la absorción de glucosa en el intestino delgado en una persona sana, esta molécula pasa al torrente sanguíneo, produciéndose un aumento en su concentración plasmática (hiperglicemia). Diversos mecanismos detectan este incremento y la respuesta inmediata es el aumento en la secreción de insulina, hormona de acción hipoglicemiante. Tras una compleja cascada de procesos bioquímicos, la glucosa entra a las células y su concentración en la sangre disminuye hasta retornar a niveles basales. El proceso de regulación hormonal de la glicemia se muestra de forma general en el siguiente esquema:



Proceso de regulación de la glicemia.

La diabetes tipo 1 es una enfermedad generada por el daño o la destrucción autoinmune de las células β pancreáticas, productoras de insulina, ubicadas en los islotes de Langerhans. Lo anterior ocasiona que una persona con diabetes tipo 1 presente, persistentemente, un nivel plasmático de glucosa elevado sobre el rango normal (hiperglicemia) generado por una concentración plasmática deficitaria o nula de insulina. Además, la persona que desarrolla diabetes tipo 1 presenta otros síntomas, como por ejemplo: el aumento en la eliminación de orina (poliuria), el aumento patológico de la sensación de hambre (polifagia) y sed (polidipsia), y la pérdida de peso sin razón aparente. Según lo fundamentado anteriormente, la respuesta correcta corresponde a la opción E).

FICHA DE REFERENCIA CURRICULAR

Eje Temático / Área Temática: Estructura y función de los seres vivos / Biología humana y salud

Nivel: II Medio

Objetivo Fundamental: Analizar el papel biológico de las hormonas en la regulación y coordinación del funcionamiento de todos los sistemas del organismo, entre ellos el sistema reproductor humano, y cómo sus alteraciones afectan significativamente el estado de salud.

Contenido Mínimo Obligatorio: Descripción de la regulación hormonal de la glicemia, explicando prácticas médicas relacionadas con la alteración de este parámetro en el caso de la diabetes.

Habilidad Cognitiva: Comprensión

Clave: E

PREGUNTA 10 (Módulo Común)

¿Cuáles de los siguientes genotipos tendrían los padres de una niña que presenta una enfermedad recesiva ligada al cromosoma X?

	Padre	Madre
A)	X^oY	XX
B)	XY	X^oX
C)	XY	X^oX^o
D)	X^oY	X^oX
E)	XY	XX

RESOLUCIÓN

Para responder correctamente este ítem el postulante debe aplicar los conocimientos de genética para dilucidar cuál es el genotipo de los padres de una niña dada una condición señalada.

En el enunciado se menciona que la niña en cuestión presenta una enfermedad recesiva ligada al cromosoma X, por lo tanto, el genotipo de la niña corresponde a X^oX^o . Para el caso del padre, que solo presenta una copia del cromosoma X, la única posibilidad que existe de tener una hija con una condición recesiva ligada al cromosoma X es que él también presente en X el alelo recesivo. En consecuencia, su genotipo será X^oY . Finalmente, para que un padre de genotipo X^oY tenga una hija de genotipo X^oX^o , la madre debe, sin excepción, presentar también el alelo recesivo en a lo menos uno de sus dos cromosomas X. Por lo tanto, la única combinación que hace posible que se produzca esta descendencia es padre de genotipo X^oY y madre de genotipo X^oX . De acuerdo a esto, la respuesta correcta corresponde a la opción D).

FICHA DE REFERENCIA CURRICULAR

Eje Temático / Área Temática: Organismo, ambiente y sus interacciones / Herencia y evolución

Nivel: II Medio

Objetivo Fundamental: Comprender que cada individuo presenta los caracteres comunes de la especie con variaciones individuales que son únicas y que éstos son el resultado de la expresión de su programa genético y de la influencia de las condiciones de vida.

Contenido Mínimo Obligatorio: Aplicación de principios básicos de genética mendeliana en ejercicios de transmisión de caracteres por cruzamientos dirigidos y de herencia ligada al sexo.

Habilidad Cognitiva: Aplicación

Clave: D

PREGUNTA 11 (Módulo Común)

Una persona ha intentado durante años cruzar dos tipos de flores (Fa y Fb) para obtener un híbrido (Fc) como el que obtiene su vecino, pero sin resultados. Cuando finalmente le pregunta a su vecino cómo logró obtener dicho híbrido, este le muestra la siguiente tabla:

Cruzamiento	Estación del año	pH del suelo	Obtención del híbrido Fc
Fa x Fb	Verano	Ácido	No
Fa x Fb	Primavera	Ácido	Sí
Fa x Fb	Invierno	Ácido	No
Fa x Fb	Verano	Básico	Sí
Fa x Fb	Primavera	Básico	No
Fa x Fb	Invierno	Básico	No

Según estos antecedentes, ¿qué variable(s) habría pasado por alto esta persona?

- I) El tipo de cruzamiento
 - II) La estación del año
 - III) El pH del suelo
-
- A) Solo I
 - B) Solo II
 - C) Solo III
 - D) Solo II y III
 - E) I, II y III

RESOLUCIÓN

Para responder correctamente este ítem el postulante debe analizar una tabla que presenta el cruzamiento de dos tipos de plantas bajo diferentes condiciones ambientales, para determinar cuáles fueron las variables utilizadas en este experimento.

En los organismos, las características de cada individuo están determinadas por la combinación de dos factores. El primer factor corresponde a los genes que presenta el individuo, los que contienen el código de síntesis de todas las proteínas del organismo. El segundo factor que determina las características de un individuo, corresponde a las condiciones ambientales, las que pueden ser temperatura ambiental, pH, humedad relativa, alimentos disponibles, entre otros. Estos factores interactúan de tal manera que el ambiente modifica la expresión de ciertos genes, modificando las características del individuo. Esta relación se refleja en la ecuación fundamental de la genética donde fenotipo = genotipo + ambiente.

En el enunciado, se muestra que el genotipo está representado por el cruzamiento de los individuos parentales ($F_a \times F_b$) y la obtención del híbrido deseado (F_c), mientras que las condiciones ambientales están representadas por la estación del año y el pH del suelo. En la tabla ofrecida por el vecino se observa que el cruzamiento de parentales es una constante dentro de las pruebas, sin embargo, la estación del año y el pH del suelo varían, dando resultados positivos cuando en primavera se cultiva a un pH ácido y cuando en verano se cultiva a un pH básico, por ende, las variables de este experimento que el agricultor no consideró fueron la estación del año y el pH del suelo. De acuerdo a lo anterior, la respuesta correcta corresponde a la opción D).

FICHA DE REFERENCIA CURRICULAR

Eje Temático / Área Temática: Habilidades de pensamiento científico / Herencia y evolución

Nivel: II Medio

Objetivo Fundamental: Organizar e interpretar datos, y formular explicaciones, apoyándose en las teorías y conceptos científicos en estudio.

Habilidad de Pensamiento Científico: Procesamiento e interpretación de datos y formulación de explicaciones, apoyándose en los conceptos y modelos teóricos del nivel.

Clave: D

PREGUNTA 12 (Módulo Común)

En cualquier pirámide ecológica, el nivel trófico de los consumidores primarios corresponde a los

- A) vegetales, por ser el primer eslabón.
- B) herbívoros, por consumir plantas.
- C) carnívoros, por consumir algunos herbívoros.
- D) depredadores tope, por ser carnívoros especialistas.
- E) protozoos, por ser los primeros descomponedores.

RESOLUCIÓN

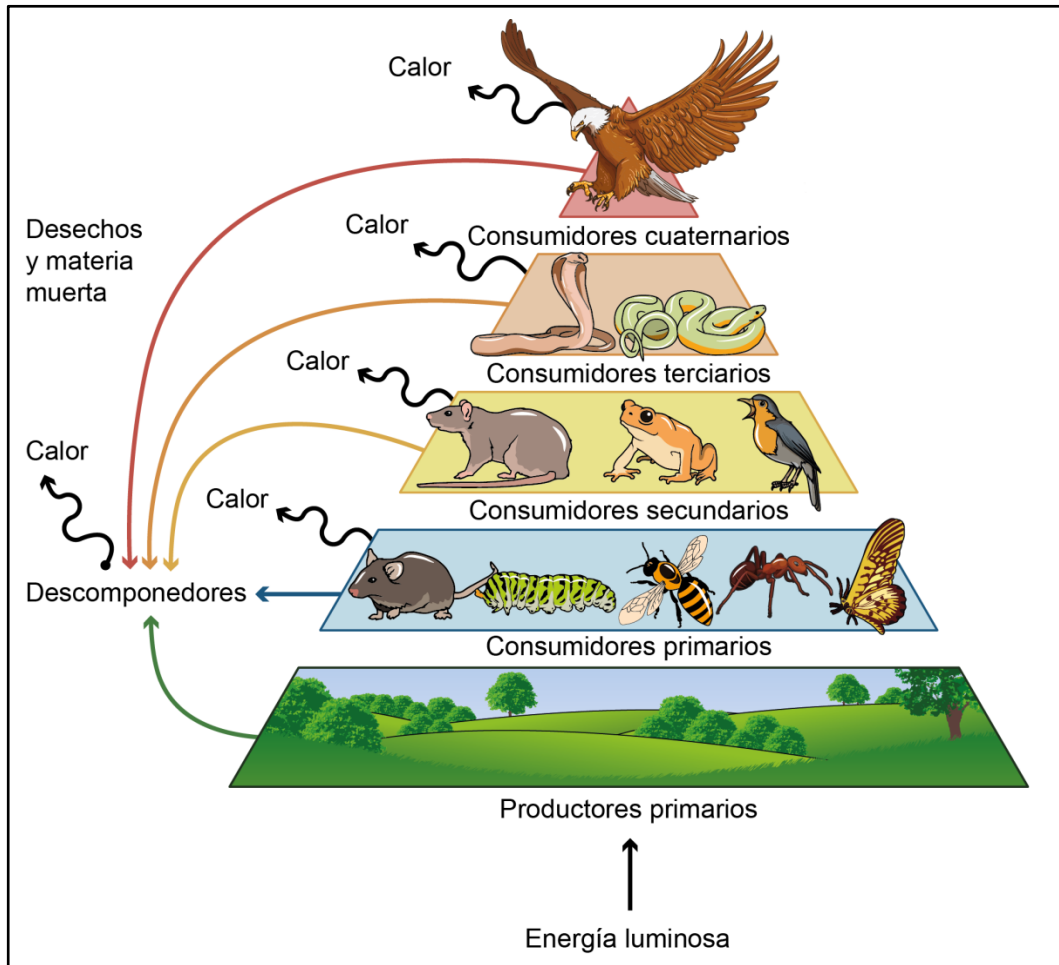
Para responder correctamente este ítem el postulante debe conocer las formas de representación gráfica de los niveles tróficos de un determinado ecosistema.

En una cadena o trama trófica se produce pérdida de energía utilizable en cada transferencia entre niveles. Esta relación entre los distintos niveles tróficos se puede representar gráficamente en forma de una pirámide ecológica (ver figura). En esta representación, el primer nivel siempre corresponde a los productores, quienes incorporan la radiación emitida por el Sol (energía lumínica) y la transforman en energía química. Ellos forman la base de la pirámide y sustentan los niveles tróficos superiores.

En una pirámide ecológica, seguido de los productores siempre se encuentran los consumidores primarios, los cuales son herbívoros.

A medida que se sube en la pirámide, desde los consumidores secundarios en adelante, se encuentran organismos carnívoros u omnívoros.

Dado el fundamento anterior, la respuesta correcta corresponde a la opción B).



Representación de una pirámide ecológica hipotética.
 Ref: Fundamentos de Ecología. Sutton, 4ta Edición.

FICHA DE REFERENCIA CURRICULAR

Eje Temático / Área Temática: Organismo, ambiente y sus interacciones / Organismo y ambiente

Nivel: I Medio

Objetivo Fundamental: Analizar la dependencia entre organismos respecto a los flujos de materia y energía en un ecosistema, en especial, la función de los organismos autótrofos y la relación entre los eslabones de las tramas y cadenas tróficas con la energía y las sustancias químicas nocivas.

Contenido Mínimo Obligatorio: Descripción cuantitativa de cadenas y tramas tróficas de acuerdo a la transferencia de energía y materia y las consecuencias de la bioacumulación de sustancias químicas como plaguicidas y toxinas, entre otras.

Habilidad Cognitiva: Reconocimiento

Clave: B

PREGUNTA 13 (Módulo Común)

¿Cuál de los siguientes procesos de la fotosíntesis depende directamente de la enzima rubisco?

- A) La fotólisis del agua
- B) La fijación del dióxido de carbono
- C) La excitación de las moléculas de clorofila
- D) El almacenamiento de energía en el ATP
- E) La liberación de oxígeno

RESOLUCIÓN

Para responder correctamente este ítem el postulante debe conocer los aspectos generales de la fotosíntesis.

La ribulosa-1,5-bisfosfato carboxilasa/oxigenasa (a menudo llamada rubisco o RuBisCO) cataliza el primer paso en la asimilación fotosintética de carbono a través del ciclo de Calvin, que es la principal vía de fijación del CO₂ de la atmósfera en la biosfera. Esta enzima cataliza la reacción de conversión de una molécula de ribulosa 1,5-bisfosfato (RuBP) y una de dióxido de carbono (CO₂) en dos moléculas de 3-fosfoglicerato. Por otro lado, la rubisco utiliza O₂ como sustrato alternativo al CO₂, iniciando el proceso de la fotorrespiración.

La rubisco se distribuye entre casi todos los organismos fotosintéticos incluyendo plantas superiores, algas, cianobacterias y otras bacterias fotosintetizadoras, encontrándose también en bacterias quimioautótrofas.

En los organismos eucariotas, la rubisco se localiza en el estroma del cloroplasto y en procariontes, en el citoplasma.

De acuerdo a lo fundamentado anteriormente la respuesta correcta corresponde a la opción B).

FICHA DE REFERENCIA CURRICULAR

Eje Temático / Área Temática: Organismo, ambiente y sus interacciones / Organismo y ambiente

Nivel: I Medio

Objetivo Fundamental: Analizar la dependencia entre organismos respecto a los flujos de materia y energía en un ecosistema, en especial, la función de los organismos autótrofos y la relación entre los eslabones de las tramas y cadenas tróficas con la energía y las sustancias químicas nocivas.

Contenido Mínimo Obligatorio: Comparación de los mecanismos de incorporación de materia y energía en organismos heterótrofos (microorganismos y animales) y autótrofos.

Habilidad Cognitiva: Reconocimiento

Clave: B

PREGUNTA 14 (Módulo Común)

Al estudiar una población de un roedor herbívoro endémico de Chile, se identificaron tres situaciones que la afectaron directa y significativamente. ¿Cuál(es) de estas situaciones es (son) clasificada(s) como factor(es) densodependiente(s)?

- I) El desarrollo de minería en zonas cercanas
 - II) La disminución de los arbustos disponibles
 - III) El aumento del número de sus depredadores
-
- A) Solo I
 - B) Solo II
 - C) Solo III
 - D) Solo II y III
 - E) I, II y III

RESOLUCIÓN

Para responder correctamente este ítem el postulante debe conocer las propiedades de las poblaciones naturales y comprender cuáles son los factores que pueden modificarlas.

Una población biológica está constituida por un conjunto de organismos que pertenecen a una misma especie e interactúan entre sí en un área geográfica y en un tiempo determinado. Entre las principales propiedades que emergen de las poblaciones están las siguientes: el tamaño poblacional, la densidad poblacional, la tasa de natalidad, la tasa de mortalidad, la tasa de emigración y la tasa de inmigración. En la naturaleza, estas propiedades poblacionales están limitadas por variados factores, algunos de estos son independientes de la densidad poblacional, mientras que otros son dependientes de ella.

Los factores limitantes independientes de la densidad (densoindependientes) se definen como aquellos que afectan la tasa de crecimiento de una población sin importar qué tan densa sea esta, pudiendo conducir a cambios erráticos y abruptos en el tamaño poblacional. En general, un clima muy severo, la contaminación ambiental y los desastres naturales se consideran ejemplos de factores limitantes densoindependientes.

Por otra parte, los factores limitantes dependientes de la densidad (densodependientes) se definen como aquellos que afectan la tasa de crecimiento de una población de manera diferente según la densidad de la población. La mayoría de este tipo de factores hacen que la tasa de crecimiento disminuya cuando la población aumenta. Algunos ejemplos comunes de factores limitantes densodependientes son, entre otros, la competencia por algún recurso limitado dentro de una comunidad, la depredación y la presencia de parásitos o enfermedades. Por lo tanto, según lo fundamentado, la respuesta correcta corresponde a la opción D).

FICHA DE REFERENCIA CURRICULAR

Eje Temático / Área Temática: Organismo, ambiente y sus interacciones / Organismo y ambiente

Nivel: II Medio

Objetivo Fundamental: Reconocer la interdependencia organismos-ambiente como un factor determinante de las propiedades de poblaciones y comunidades biológicas.

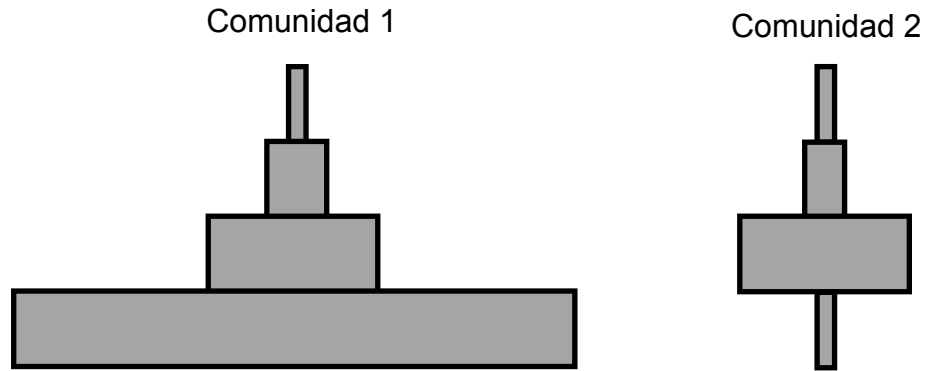
Contenido Mínimo Obligatorio: Descripción de los atributos básicos de las poblaciones y las comunidades, determinando los factores que condicionan su distribución, tamaño y crecimiento, por ejemplo: depredación, competencia, características geográficas, dominancia, diversidad.

Habilidad Cognitiva: Comprensión

Clave: D

PREGUNTA 15 (Módulo Común)

El esquema corresponde a las pirámides numéricas de dos comunidades distintas (1 y 2), a una misma escala.



A partir de la información entregada, es correcto afirmar que

- A) la comunidad 2 tiene la mayor densidad de productores.
- B) la comunidad 2 se sustenta con un menor número de productores que la 1.
- C) ambas comunidades tienen el mismo número de productores.
- D) la comunidad 1 tiene una pirámide de tipo invertida.
- E) la comunidad 1 presenta el mayor número de niveles tróficos.

RESOLUCIÓN

Para responder correctamente este ítem el postulante debe comprender la información que entrega una pirámide numérica en el estudio de una comunidad. Una pirámide de número es una representación de cuántos organismos habitan en una determinada comunidad por nivel trófico. En el esquema del ítem se aprecia que en la pirámide de número de la comunidad 1, los organismos productores representan la mayor cantidad de individuos en comparación a los niveles tróficos superiores, en los cuales la cantidad va disminuyendo a medida que se sube de nivel trófico. Un ejemplo de este tipo de pirámide puede ser una comunidad que habite en un prado, donde la base de la pirámide puede corresponder a pasto, siendo muchos los individuos, los cuales alimentarán a una cantidad menor de herbívoros y estos, a su vez, alimentarán a una cantidad menor de consumidores secundarios.

En la pirámide de la comunidad 2, se observa que una pequeña cantidad de organismos productores sustenta una cantidad mayor de organismos consumidores primarios, secundarios y terciarios. Este tipo de pirámide de número se da cuando el organismo productor es de gran tamaño en comparación al tamaño de los organismos del nivel siguiente. Un ejemplo de este tipo de pirámide numérica puede ser una comunidad de organismos que

habita en un árbol, el cual sustentará a muchos individuos que se alimenten de él, y estos herbívoros a su vez, sustentarán a los demás niveles tróficos. De acuerdo a los esquemas expuestos en el enunciado, es correcto afirmar que la comunidad 2 se sustenta en un menor número de productores que la comunidad 1. Por lo tanto, la respuesta correcta corresponde a la opción B).

FICHA DE REFERENCIA CURRICULAR

Eje Temático / Área Temática: Organismo, ambiente y sus interacciones / Organismo y ambiente

Nivel: I Medio

Objetivo Fundamental: Analizar la dependencia entre organismos respecto a los flujos de materia y energía en un ecosistema, en especial, la función de los organismos autótrofos y la relación entre los eslabones de las tramas y cadenas tróficas con la energía y las sustancias químicas nocivas.

Contenido Mínimo Obligatorio: Descripción cuantitativa de cadenas y tramas tróficas de acuerdo a la transferencia de energía y materia y las consecuencias de la bioacumulación de sustancias químicas como plaguicidas y toxinas, entre otras.

Habilidad Cognitiva: Comprensión

Clave: B

PREGUNTA 16 (Módulo Común)

Para que una población de mamíferos tenga una tasa de crecimiento positiva, se debe cumplir que

- A) el porcentaje de la población en edad reproductiva sea el más alto.
- B) la tasa de emigración sea mayor que la tasa de inmigración.
- C) la proporción de machos sea igual a la de hembras.
- D) la cantidad de individuos que nace sea igual a la cantidad de individuos que muere.
- E) el porcentaje de la población prerreproductiva sea mayor que el de la reproductiva.

RESOLUCIÓN

Para responder correctamente este ítem el postulante debe comprender el concepto de crecimiento poblacional y como los factores que regulan este crecimiento pueden afectarlo de manera positiva.

En ecología, la tasa de crecimiento poblacional indica la razón de crecimiento de una población durante a lo menos dos periodos. Esta tasa puede ser negativa, si la población final es menor a la población inicial, nula, si la población final es exactamente igual a la población inicial o positiva si la población final es mayor a la población inicial. Los factores que impactan positivamente en la tasa de crecimiento poblacional son la natalidad y la inmigración, mientras que los factores que impactan negativamente la tasa de crecimiento poblacional son la mortalidad y la emigración.

La opción E) señala que la tasa de crecimiento será positiva cuando “el porcentaje de la población prerreproductiva sea mayor que el de la reproductiva”. Esta situación es un indicador de que los individuos en edad reproductiva han dejado una descendencia superior en porcentaje, por lo tanto, el tamaño poblacional final será mayor que el inicial, por ende, la tasa de crecimiento será positiva. De acuerdo con lo fundamentado, la respuesta correcta corresponde a la opción E).

FICHA DE REFERENCIA CURRICULAR

Eje Temático / Área Temática: Organismo, ambiente y sus interacciones / Organismo y ambiente

Nivel: II Medio

Objetivo Fundamental: Reconocer la interdependencia organismos-ambiente como un factor determinante de las propiedades de poblaciones y comunidades biológicas.

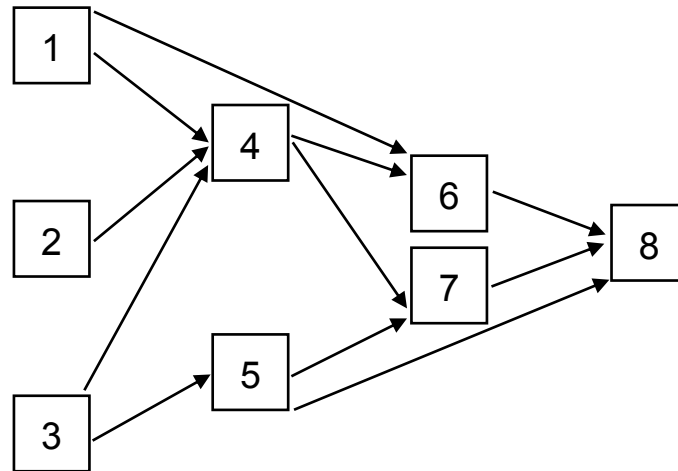
Contenido Mínimo Obligatorio: Descripción de los atributos básicos de las poblaciones y las comunidades, determinando los factores que condicionan su distribución, tamaño y crecimiento, por ejemplo: depredación, competencia, características geográficas, dominancia, diversidad.

Habilidad Cognitiva: Comprensión

Clave: E

PREGUNTA 17 (Módulo Común)

El siguiente diagrama representa una trama trófica.



De acuerdo a la información proporcionada, ¿qué organismos son especialistas y omnívoros, respectivamente?

- A) 4 y 6
- B) 5 y 6
- C) 4 y 7
- D) 5 y 8
- E) 7 y 8

RESOLUCIÓN

Para responder correctamente este ítem el postulante debe comprender cuáles son los diferentes tipos de organismos que pueden formar parte de una trama trófica y aplicar este conocimiento al ejemplo dado.

En los ecosistemas, se establecen relaciones alimentarias (tróficas) entre las distintas poblaciones que conforman la comunidad. Algunas de estas relaciones pueden representarse gráficamente de manera simplificada mediante esquemas de cadenas y/o tramas. Así, en términos generales, una cadena trófica es una secuencia lineal de organismos, a través de la cual transitan la energía y los nutrientes desde un organismo al siguiente mediante el consumo; por lo tanto, en las cadenas cada tipo de organismo ocupa un eslabón o nivel trófico diferente. Por otra parte, una trama o red trófica corresponde a una representación de las interconexiones que pueden establecerse en un momento determinado entre los organismos de dos o más cadenas tróficas de un ecosistema.

Las cadenas y tramas tróficas están constituidas por dos tipos principales de organismos: los productores o autótrofos, que son capaces de sintetizar moléculas orgánicas a partir de una fuente de energía y de moléculas

inorgánicas simples, constituyendo siempre el primer nivel trófico; y, los consumidores o heterótrofos, que obtienen energía para su metabolismo a partir de la degradación de moléculas orgánicas que consiguen al alimentarse de otros organismos.

Los consumidores que se alimentan solo de productores se denominan herbívoros y ocupan siempre el segundo nivel trófico en cadenas y tramas; aquellos que se alimentan solo de otros consumidores se denominan carnívoros y pueden ocupar diferentes niveles tróficos en una misma trama, dependiendo de cuántas transferencias de energía y nutrientes (cuántos pasos de consumo) los separan del primer nivel. Así, tanto los herbívoros como los carnívoros estrictos pueden considerarse organismos especialistas en cuanto a su alimentación. Finalmente, aquellos consumidores que pueden alimentarse de productores y de otros consumidores, se denominan omnívoros y se consideran generalistas en cuanto a su alimentación.

Según lo fundamentado anteriormente y siguiendo el esquema del enunciado, 5 corresponde a un organismo especialista, puesto que se alimenta exclusivamente de un productor; mientras que 6 corresponde a un organismo omnívoro, puesto que se alimenta de un productor y de un consumidor primario, por lo tanto, la respuesta correcta corresponde a la opción B).

FICHA DE REFERENCIA CURRICULAR

Eje Temático / Área Temática: Organismo, ambiente y sus interacciones / Organismo y ambiente

Nivel: I Medio

Objetivo Fundamental: Analizar la dependencia entre organismos respecto a los flujos de materia y energía en un ecosistema, en especial, la función de los organismos autótrofos y la relación entre los eslabones de las tramas y cadenas tróficas con la energía y las sustancias químicas nocivas.

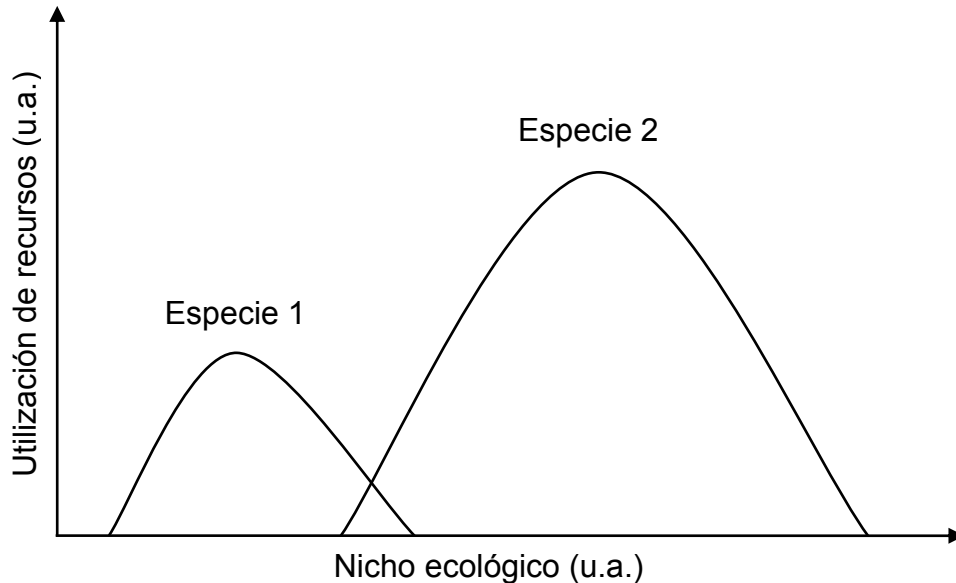
Contenido Mínimo Obligatorio: Descripción cuantitativa de cadenas y tramas tróficas de acuerdo a la transferencia de energía y materia y las consecuencias de la bioacumulación de sustancias químicas como plaguicidas y toxinas, entre otras.

Habilidad Cognitiva: Aplicación

Clave: B

PREGUNTA 18 (Módulo Común)

El gráfico muestra la utilización de recursos por dos especies distintas, en función de su nicho ecológico.



Al respecto, es correcto concluir que

- A) la especie 1 hace una mejor utilización de los recursos.
- B) la especie 2 utiliza todos los recursos que utiliza la especie 1.
- C) ambas especies utilizan la mayor parte de los recursos de forma exclusiva.
- D) el nicho ecológico de la especie 1 es más amplio que el de la especie 2.
- E) los nichos ecológicos de las especie 1 y 2 no se superponen en ningún punto.

RESOLUCIÓN

Para responder correctamente este ítem el postulante debe analizar el gráfico para dilucidar cuál de las opciones presentadas es una conclusión válida en relación a los datos presentados.

En el enunciado, el gráfico muestra la utilización de recursos de dos especies en función de su nicho ecológico. Según estos resultados, cada especie utiliza un rango distinto de recursos, lo que se representa por el área bajo las curvas y donde se observa, en ambos casos, un punto de máxima utilización (punto óptimo) y un descenso de esta utilización a medida que avanzamos hacia ambos extremos. Este uso de recursos por parte de ambas especies es compartida en el área donde ambas curvas se superponen. Al analizar el área formada en la superposición de ambas curvas, se aprecia cualitativamente que esta es significativamente inferior a las áreas formadas por cada curva de manera

independiente, por consiguiente, ambas especies utilizan la mayor parte de los recursos de forma exclusiva.

De acuerdo a lo fundamentado, la respuesta correcta corresponde a la opción C).

FICHA DE REFERENCIA CURRICULAR

Eje Temático / Área Temática: Organismo, ambiente y sus interacciones / Organismo y ambiente

Nivel: I Medio

Objetivo Fundamental: Organizar e interpretar datos, y formular explicaciones, apoyándose en las teorías y conceptos científicos en estudio.

Habilidad de Pensamiento Científico: Procesamiento e interpretación de datos y formulación de explicaciones, apoyándose en los conceptos y modelos teóricos del nivel.

Clave: C

PREGUNTA 19 (Módulo Técnico Profesional)

¿Cuál de las siguientes opciones corresponde a una función de los lípidos en el organismo humano?

- A) Constituir la principal reserva energética.
- B) Transportar moléculas hidrofílicas.
- C) Catalizar reacciones químicas.
- D) Constituir el citoesqueleto.
- E) Reconocer partículas extrañas.

RESOLUCIÓN

Para responder correctamente este ítem el postulante debe comprender las funciones que desarrollan las biomoléculas en el organismo.

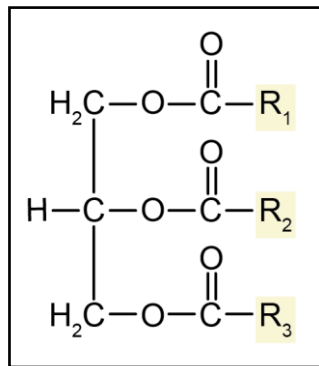
Los lípidos son un conjunto de biomoléculas orgánicas hidrófobas (insolubles en agua) constituidas principalmente por carbono e hidrógeno. Estas biomoléculas presentan una gran diversidad de estructuras y constituyen una categoría heterogénea de componentes celulares.

En términos fisiológicos, los lípidos desempeñan principalmente tres funciones en las células: reserva energética, conformar la estructura de membranas y presentar funciones biológicas específicas, como la transmisión de señales químicas en el interior y en el entorno celular.

En términos de estructura química, se distinguen seis tipos principales de lípidos, los cuales son: los ácidos grasos, los triacilglicerol, los fosfolípidos, los glucolípidos, los esteroides y los terpenos.

Los triacilglicerol (ver figura), también llamados triglicéridos, son la principal reserva energética en mamíferos. Estos lípidos están formados por una molécula de glicerol unida a tres ácidos grasos.

Según lo expuesto anteriormente, la respuesta correcta corresponde a la opción A).



Estructura general de un triacilglicerol, donde R_1 , R_2 y R_3 , son cadenas hidrocarbonadas.

FICHA DE REFERENCIA CURRICULAR

Eje Temático / Área Temática: Estructura y función de los seres vivos / Organización, estructura y actividad celular

Nivel: I Medio

Objetivo Fundamental: Comprender que la célula está constituida por diferentes moléculas biológicas que cumplen funciones específicas en el metabolismo celular.

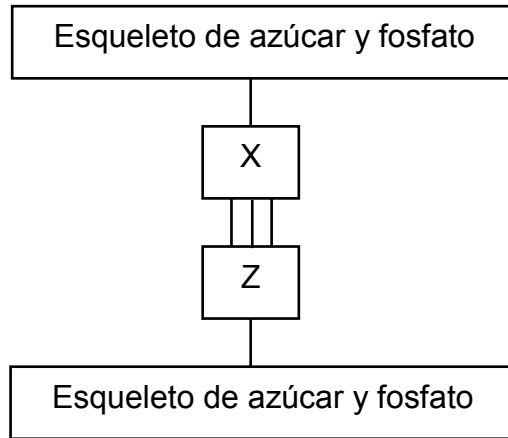
Contenido Mínimo Obligatorio: Identificación de las principales moléculas orgánicas que componen la célula y de sus propiedades estructurales y energéticas en el metabolismo celular.

Habilidad Cognitiva: Comprensión

Clave: A

PREGUNTA 20 (Módulo Técnico Profesional)

En el esquema se representa un par de bases nitrogenadas (X y Z) apareadas por interacciones de tipo puente de hidrógeno.



Con respecto al esquema, ¿cuál de las afirmaciones es correcta?

- A) Si X es citosina, entonces Z es guanina.
- B) Si Z es timina, entonces el azúcar es la ribosa.
- C) Si X es timina, entonces necesariamente Z es uracilo.
- D) Si Z es uracilo, entonces el azúcar es la desoxirribosa.
- E) Si X es uracilo, entonces el esquema corresponde a una molécula de ADN.

RESOLUCIÓN

Para responder correctamente este ítem el postulante debe comprender la estructura molecular del ADN e identificar la relación correcta entre sus constituyentes moleculares.

Lo ácidos nucleicos, ADN y ARN, son macromoléculas conformadas por la unión covalente de nucleótidos, que son los monómeros constitutivos de los ácidos nucleicos. Estos nucleótidos a su vez, están formados por una pentosa, una base nitrogenada y un grupo fosfato (ver figura 1). De acuerdo con el esquema del ítem, la molécula representada corresponde a dos nucleótidos de una molécula de ADN, ya que presenta una estructura de doble hebra unida por interacciones tipo puente de hidrógeno entre sus bases nitrogenadas, las cuales podrían ser adenina (A), guanina (G), citosina (C) o timina (T).

Otro elemento de juicio a considerar, es que entre las bases nitrogenadas X y Z se establecen tres interacciones tipo puente de hidrógeno, por lo tanto, las bases nitrogenadas que interactúan entre sí corresponden a citosina y guanina (ver figura 2), ya que, el modelo de complementariedad de bases establece que citosina se une a guanina mediante tres interacciones tipo puentes de hidrógeno (C≡G) y adenina se une a timina mediante dos interacciones de este tipo (A=T).

En consecuencia, la afirmación correcta corresponde a la opción A).

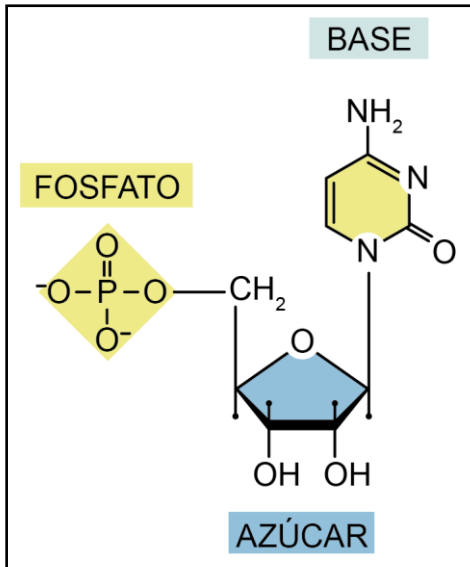


Figura 1: Nucleótido compuesto por una base nitrogenada, un azúcar de 5 carbonos y un grupo fosfato.
Ref: Alberts - Molecular Biology of the Cell 3th Edition.

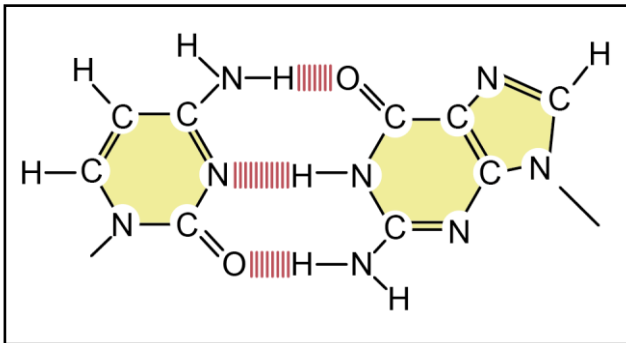


Figura 2: Citosina y Guanina unidas por tres interacciones tipo puente de hidrógeno en el ADN.
Ref: Alberts - Molecular Biology of the Cell 3th Edition.

FICHA DE REFERENCIA CURRICULAR

Eje Temático / Área Temática: Estructura y función de los seres vivos / Organización, estructura y actividad celular

Nivel: I Medio

Objetivo Fundamental: Comprender que la célula está constituida por diferentes moléculas biológicas que cumplen funciones específicas en el metabolismo celular.

Contenido Mínimo Obligatorio: Identificación de las principales moléculas orgánicas que componen la célula y de sus propiedades estructurales y energéticas en el metabolismo celular.

Habilidad Cognitiva: Comprensión

Clave: A

PREGUNTA 21 (Módulo Técnico Profesional)

La glucosa es transportada al interior de una célula por una macromolécula de membrana cuya acción depende solo del gradiente de concentración de glucosa. ¿A cuál de los siguientes tipos de transporte corresponde el mecanismo descrito?

- A) Bomba de iones
- B) Difusión facilitada
- C) Fagocitosis
- D) Difusión simple
- E) Pinocitosis

RESOLUCIÓN

Para responder correctamente este ítem el postulante debe comprender los mecanismos generales de transporte a través de la membrana plasmática.

La mayoría de las sustancias en las células son demasiado grandes o demasiado polares para atravesar las membranas por difusión simple a tasas de transporte compatible con la mantención del metabolismo. Estos solutos entran y salen de las células y de los organelos de forma eficaz mediante proteínas transportadoras, que intervienen en su movimiento a través de la membrana. Este mecanismo de transporte pasivo se denomina difusión facilitada, puesto que difunde a favor del gradiente de concentración (en moléculas sin carga) o del gradiente electroquímico (en iones). La función específica de estas proteínas es transportar, a favor de un determinado gradiente, sustancias polares o con carga que, de otra manera, no podrían traspasar la membrana.

Un ejemplo de difusión facilitada es el paso de glucosa a través de la membrana plasmática por la acción de proteínas transportadoras específicas para esta molécula.

Según lo fundamentado anteriormente, la respuesta correcta corresponde a la opción B).

FICHA DE REFERENCIA CURRICULAR

Eje Temático / Área Temática: Estructura y función de los seres vivos / Organización, estructura y actividad celular

Nivel: I Medio

Objetivo Fundamental: Comprender que la célula está constituida por diferentes moléculas biológicas que cumplen funciones específicas en el metabolismo celular.

Contenido Mínimo Obligatorio: Explicación de fenómenos fisiológicos sobre la base de la descripción de mecanismos de intercambio entre la célula y su ambiente (transporte activo, pasivo y osmosis) y extrapolación de esta información a situaciones como, por ejemplo, la acumulación o pérdida de agua en tejidos animales y vegetales.

Habilidad Cognitiva: Comprensión

Clave: B

PREGUNTA 22 (Módulo Técnico Profesional)

La aplicación endovenosa de una hormona X produce una disminución de los niveles circulantes de FSH, sin modificar los niveles de GnRH. Estos resultados se explican correctamente si la hormona X actúa primero sobre

- A) las gónadas.
- B) las suprarrenales.
- C) la adenohipófisis.
- D) la neurohipófisis.
- E) el hipotálamo.

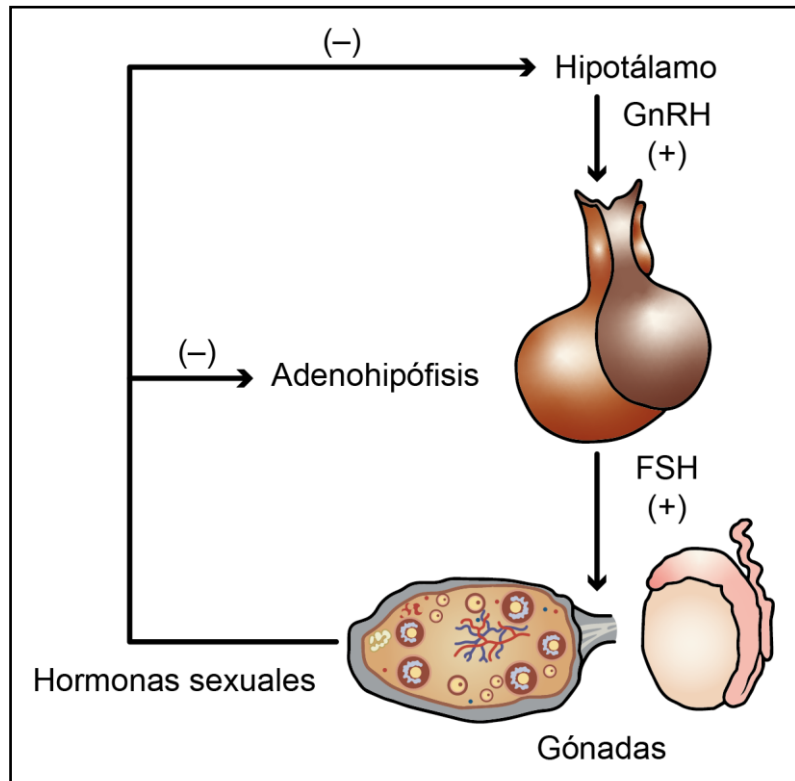
RESOLUCIÓN

Para responder correctamente este ítem el postulante debe conocer la relación morfológica y funcional entre las glándulas y hormonas asociadas con el eje hipotálamo–hipófisis, así como los mecanismos regulatorios involucrados, para luego, aplicar este conocimiento a una situación particular.

El hipotálamo es una estructura del sistema nervioso central (SNC) ubicada en la zona anterior del diencefalo. Se encuentra profusamente innervado por el sistema nervioso e irrigado por el sistema vascular, lo que facilita el transporte de neurotransmisores y de secreciones neuroendocrinas hacia otras regiones del cuerpo. Por otra parte, la glándula hipófisis o pituitaria es una glándula de pequeño tamaño, que se encuentra alojada en una estructura ósea denominada silla turca y, al igual que el hipotálamo, forma parte del diencefalo.

La glándula hipófisis presenta dos lóbulos bien diferenciados: uno anterior (adenohipófisis) y otro posterior (neurohipófisis). La neurohipófisis contiene los terminales axónicos de neuronas de núcleos hipotalámicos específicos que contienen neurohormonas hipotalámicas (oxitocina y vasopresina). Por otra parte, la adenohipófisis conecta con el hipotálamo mediante el sistema sanguíneo, por el cual circulan, entre otras, las hormonas liberadoras de gonadotrofinas (GnRH), que son secretadas por el hipotálamo y regulan la secreción de las hormonas luteinizante (LH) y folículoestimulante (FSH) desde la hipófisis.

La regulación de la secreción de gonadotrofinas ocurre mediante retroalimentación (*feedback*), tanto positiva como negativa. Así, por ejemplo, la liberación pulsátil de GnRH desde el hipotálamo estimula (+) la liberación de FSH desde la adenohipófisis. Los efectos de la FSH incluyen, entre otros, la estimulación de la secreción de hormonas sexuales (estrógenos y testosterona) en las gónadas. En ambos sexos, el incremento de los niveles plasmáticos de hormonas sexuales ejerce una inhibición (–) sobre la liberación de GnRH por parte del hipotálamo y de hormonas gonadotróficas por parte de la hipófisis, como se muestra de manera simplificada en el siguiente esquema:



Esquema de regulación del eje hipotalámico-hipofisiario sobre la secreción de hormonas sexuales.

Como se menciona en el enunciado, la hormona X disminuye los niveles plasmáticos de FSH sin alterar los niveles de GnRH, por lo tanto, se deduce que la acción de la hormona X es directa sobre la adenohipófisis.

De acuerdo a la información anterior, la respuesta correcta corresponde a la opción C).

FICHA DE REFERENCIA CURRICULAR

Eje Temático / Área Temática: Estructura y función de los seres vivos / Procesos y funciones vitales

Nivel: II Medio

Objetivo Fundamental: Analizar el papel biológico de las hormonas en la regulación y coordinación del funcionamiento de todos los sistemas del organismo, entre ellos el sistema reproductor humano, y cómo sus alteraciones afectan significativamente el estado de salud.

Contenido Mínimo Obligatorio: Descripción del mecanismo general de acción hormonal en el funcionamiento de los sistemas del organismo y análisis del caso particular de la regulación hormonal del ciclo sexual femenino.

Habilidad Cognitiva: Aplicación

Clave: C

PREGUNTA 23 (Módulo Técnico Profesional)

Una mujer de 22 años desea postergar su maternidad y para ello quiere usar un método anticonceptivo que sea eficaz y dure al menos tres años. ¿Cuál es el método anticonceptivo más adecuado para esta mujer?

- A) El parche hormonal
- B) Los anticonceptivos orales
- C) El anticonceptivo de implante
- D) El anillo vaginal
- E) Los anticonceptivos inyectables

RESOLUCIÓN

Para responder correctamente este ítem el postulante debe conocer características particulares de los métodos anticonceptivos y aplicar este conocimiento a una situación específica.

En el mercado existen variadas alternativas para el control de la natalidad, las cuales difieren en su forma de uso y mecanismo de acción, por lo que cada uno presentará ventajas y desventajas, sin embargo, todos evitarán el embarazo con distinto grado de efectividad. La siguiente tabla muestra la eficacia de algunos métodos anticonceptivos medidos en la tasa de embarazos producidos por 100 mujeres en los primeros 12 meses de uso.

Método anticonceptivo	Uso correcto y consiente (%)	Uso típico (%)
Sin método	85	85
Implantes de progestágeno solo	0.05	0.05
Inyectables combinados	0.1	3
Inyectables de progestágeno solo (AMPD)	0.3	3
Esterilización femenina	0.5	0.5
Dispositivo intrauterino liberador de levonorgestrel	0.2	0.2
Dispositivo intrauterino TCu 380A	0.6	0.8
Anticonceptivos orales de progestágeno solo (en la lactancia)	0.5	1
Anticonceptivos combinados orales	0.1	6-8
Anillo vaginal combinado y parche transdérmico combinado	0.5	6-8
Anticonceptivos orales de progestágeno (sin lactancia)	0.5	6-8
0-1 Muy efectivo	2-9 Efectivo	10-30 Menos efectivo

Normas nacionales sobre regulación de la fertilidad, MINSAL.

En el ítem se menciona a una mujer que busca un método anticonceptivo eficaz y que dure al menos tres años. Según la tabla del Ministerio de Salud (MINSAL), todos los métodos anticonceptivos hormonales presentan una alta eficacia, por lo que la decisión del producto más adecuado será en función de la duración deseada, que para este caso particular son tres años.

En las opciones de respuesta, todos los métodos anticonceptivos presentados cuentan con una duración de uno a tres meses, salvo el implante hormonal, el cual tiene una duración aproximada de tres años, por lo tanto, dado que el implante cumple con ambas características deseadas por la mujer, la respuesta correcta corresponde a la opción C).

FICHA DE REFERENCIA CURRICULAR

Eje Temático / Área Temática: Estructura y función de los seres vivos / Biología humana y salud

Nivel: II Medio

Objetivo Fundamental: Comprender que la sexualidad y la reproducción constituyen una de las dimensiones más relevantes de la vida humana.

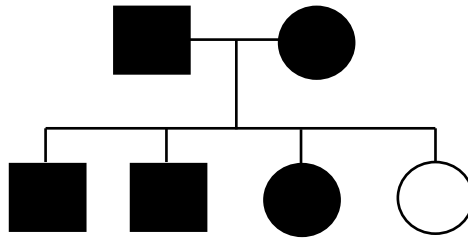
Contenido Mínimo Obligatorio: Reconocimiento de que la sexualidad humana y la reproducción son aspectos fundamentales de la vida.

Habilidad Cognitiva: Aplicación

Clave: C

PREGUNTA 24 (Módulo Técnico Profesional)

En el esquema se representa el pedigrí generado por el cruce de ratones de pelaje negro, siendo el color del pelaje un carácter monogénico en este caso.



De acuerdo al esquema, ¿cuál es la explicación más probable para la presencia de un ejemplar blanco?

- A) Ocurrió una mutación cromosómica.
- B) El progenitor es homocigoto recesivo.
- C) Ambos progenitores son heterocigotos.
- D) La progenitora es homocigota recesiva.
- E) El carácter recesivo está ligado al sexo.

RESOLUCIÓN

Para responder correctamente este ítem el postulante debe conocer las propiedades de los diferentes tipos de herencia para luego analizar un pedigrí. Las características que presentan los organismos están determinadas por los genes y su interacción con el ambiente. La mayoría de las características de un individuo están determinadas por la expresión de varios genes, sin embargo, existen algunas características que solo dependen de la expresión de un gen, lo que se denomina carácter monogénico. En este tipo de herencia, el fenotipo será producto de la interacción de dos alelos, uno de origen materno y otro paterno. Cuando en el fenotipo se expresan las características de uno de los progenitores, enmascarando las del otro, se habla de herencia completa, y en este caso la característica que se expresa se denomina dominante (simbolizándose con letra mayúscula), y la que no se expresa se denomina recesiva (simbolizándose con letra minúscula). Como la mayoría de los organismos presenta dos alelos del mismo gen, estos tienen tres combinaciones posibles de alelos, las cuales pueden ser:

Genotipo	Símbolo	Fenotipo
Homocigoto dominante	MM	Rasgo dominante
Homocigoto recesivo	mm	Rasgo recesivo
Heterocigoto	Mm	Rasgo dominante

De acuerdo con el ítem, la característica color del pelaje tiene solamente los fenotipos negro o blanco. Cuando se analiza el pedigrí del enunciado, se observa que los individuos parentales son de color negro y su descendencia corresponde a tres individuos negros y uno de color blanco. Esta situación indica que la característica pelaje negro es dominante sobre pelaje blanco, por lo tanto, el individuo blanco debe haber heredado necesariamente un alelo recesivo del padre y otro alelo recesivo de la madre, por lo que se puede establecer que ambos progenitores son heterocigotos y presentan un alelo dominante y un alelo recesivo. En consecuencia, la respuesta correcta corresponde a la opción C).

FICHA DE REFERENCIA CURRICULAR

Eje Temático / Área Temática: Organismo, ambiente y sus interacciones / Herencia y evolución

Nivel: II Medio

Objetivo Fundamental: Comprender que cada individuo presenta los caracteres comunes de la especie con variaciones individuales que son únicas y que éstos son el resultado de la expresión de su programa genético y de la influencia de las condiciones de vida.

Contenido Mínimo Obligatorio: Aplicación de principios básicos de genética mendeliana en ejercicios de transmisión de caracteres por cruzamientos dirigidos y de herencia ligada al sexo.

Habilidad Cognitiva: Análisis, Síntesis y Evaluación

Clave: C

PREGUNTA 25 (Módulo Técnico Profesional)

En un cultivo, las aves de corral (como las gallinas) ejecutan un control de plagas al comer larvas de insectos que afectan a las plantas. ¿Qué relación se establece entre las aves y las larvas?

- A) Depredación
- B) Mutualismo
- C) Parasitismo
- D) Competencia
- E) Amensalismo

RESOLUCIÓN

Para responder correctamente este ítem el postulante debe comprender las interacciones que se establecen entre los organismos que conforman una comunidad particular.

De acuerdo al enunciado, los organismos presentes en esta comunidad son las aves de corral, las larvas de insectos y las plantas. A su vez, se menciona que las aves de corral se alimentan de las larvas de insectos, cumpliendo así una función de control de plaga, por lo que la interacción que se establece entre estos dos grupos de organismos será de depredación. En este tipo de interacción, las aves de corral (depredador) se ven beneficiadas (+) por la presencia de larvas, mientras que las larvas (presas) se ven perjudicadas (-) por la presencia de aves de corral, por lo tanto, esta relación se puede representar con la simbología +/-.

De acuerdo a lo fundamentado anteriormente, la respuesta correcta corresponde a la opción A).

FICHA DE REFERENCIA CURRICULAR

Eje Temático / Área Temática: Organismo, ambiente y sus interacciones / Organismo y ambiente

Nivel: II Medio

Objetivo Fundamental: Reconocer la interdependencia organismos-ambiente como un factor determinante de las propiedades de poblaciones y comunidades biológicas.

Contenido Mínimo Obligatorio: Descripción de los atributos básicos de las poblaciones y las comunidades, determinando los factores que condicionan su distribución, tamaño y crecimiento, por ejemplo: depredación, competencia, características geográficas, dominancia, diversidad.

Habilidad Cognitiva: Comprensión

Clave: A

PREGUNTA 26 (Módulo Técnico Profesional)

De los siguientes organismos, ¿cuál(es) es (son) heterótrofo(s) estrictos?

- I) Hongos
 - II) Helechos
 - III) Protozoos
-
- A) Solo I
 - B) Solo II
 - C) Solo III
 - D) Solo I y III
 - E) Solo II y III

RESOLUCIÓN

Para responder correctamente este ítem el postulante debe conocer la clasificación de ciertos organismos de acuerdo a su tipo de nutrición.

La nutrición autótrofa es aquella que presentan organismos capaces de sintetizar sus propias moléculas orgánicas a partir de elementos inorgánicos y una fuente de energía externa. Entre los organismos con nutrición autótrofa se encuentran las plantas, como por ejemplo los helechos, algunos protista, como las algas e incluso algunas bacterias capaces de desarrollar procesos fotosintéticos o quimiosintéticos.

La nutrición heterótrofa, en cambio, es aquella que presentan organismos incapaces de sintetizar por sí mismos las moléculas orgánicas necesarias para su metabolismo celular, por ende, las obtienen a través de fuentes exógenas. Entre los organismos con nutrición heterótrofa se encuentran los hongos, los animales y algunos protista, como los protozoos.

De acuerdo a lo fundamentado anteriormente los organismos de la lista que presentan nutrición heterótrofa son los hongos y los protozoos, por lo tanto, la respuesta correcta corresponde a la opción D).

FICHA DE REFERENCIA CURRICULAR

Eje Temático / Área Temática: Organismo, ambiente y sus interacciones / Organismo y ambiente

Nivel: I Medio

Objetivo Fundamental: Analizar la dependencia entre organismos respecto a los flujos de materia y energía en un ecosistema, en especial, la función de los organismos autótrofos y la relación entre los eslabones de las tramas y cadenas tróficas con la energía y las sustancias químicas nocivas.

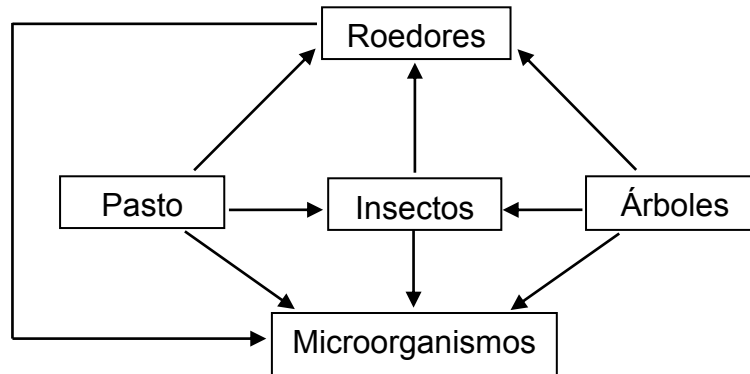
Contenido Mínimo Obligatorio: Comparación de los mecanismos de incorporación de materia y energía en organismos heterótrofos (microorganismos y animales) y autótrofos.

Habilidad Cognitiva: Reconocimiento

Clave: D

PREGUNTA 27 (Módulo Técnico Profesional)

El siguiente esquema muestra una trama trófica.



Con respecto al esquema, es correcto señalar que corresponde a

- A) un modelo sin limitaciones de relaciones tróficas.
- B) un modelo válido para cualquier ecosistema.
- C) un modelo de un ecosistema terrestre particular.
- D) una teoría general de comunidades.
- E) una teoría de ecosistemas.

RESOLUCIÓN

Para responder correctamente este ítem el postulante debe conocer las características de la utilización de modelos científicos, contextualizado en un ejemplo de Ecología.

En Ciencias, los modelos son considerados como representaciones (que pueden ser concretas, mentales, gráficas o matemáticas) para describir o explicar fenómenos observables o no observables del entorno, los sistemas y sus relaciones. Los modelos pueden ser fórmulas, dibujos, diagramas, esquemas y maquetas, entre otros (MINEDUC, 2013)*. Además, los modelos se pueden utilizar para simplificar fenómenos complejos; ayudar en la visualización de entidades abstractas; servir de apoyo en la interpretación de resultados experimentales y servir también de ayuda en la elaboración de explicaciones (Justí, 2006)**.

En el esquema del enunciado, se muestra un modelo que representa simplícidamente las interacciones tróficas que se establecen entre los organismos mencionados, limitando la validez de esta representación a un ecosistema terrestre particular y en un tiempo determinado. Por lo tanto, según lo fundamentado anteriormente, la respuesta correcta corresponde a la opción C).

*MINEDUC, 2013. Bases Curriculares de 7mo a 2do Medio.

**Justí, 2006. La enseñanza de ciencias basada en la elaboración de modelos.

FICHA DE REFERENCIA CURRICULAR

Eje Temático / Área Temática: Habilidades de pensamiento científico / Organismo y ambiente

Nivel: I Medio

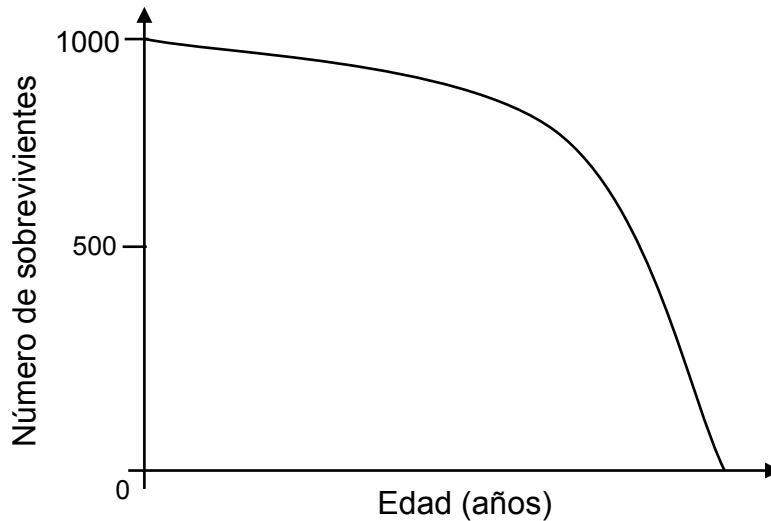
Objetivo Fundamental: Reconocer las limitaciones y la utilidad de modelos y teorías como representaciones científicas de la realidad que permiten dar respuesta a diversos fenómenos o situaciones problemas.

Habilidad de Pensamiento Científico: Explicación de la importancia de teorías y modelos para comprender la realidad, considerando su carácter sistémico, sintético y holístico, y dar respuesta a diversos fenómenos o situaciones problemas.

Clave: C

PREGUNTA 28 (Módulo Técnico Profesional)

El gráfico muestra la curva de sobrevivencia característica de un tipo de organismo.



¿Cuál de las siguientes inferencias sería correcta con respecto a una población animal que presenta esta curva de sobrevivencia?

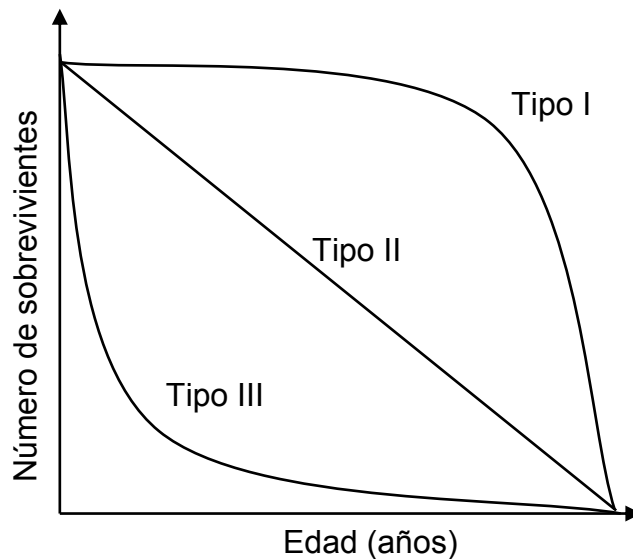
- A) La población tiene más individuos enfermos que sanos.
- B) Los individuos tienen un tamaño corporal pequeño.
- C) La mayoría de los individuos muere a una edad temprana.
- D) Los individuos de mayor edad son los más depredados.
- E) Las crías de la población reciben cuidado parental.

RESOLUCIÓN

Para responder correctamente este ítem el postulante debe analizar el gráfico de sobrevivencia de un tipo de organismo en particular para luego inferir las características que podrían presentar los individuos de la población.

El tamaño de una población varía irremediabilmente en el tiempo, debido a que aumenta producto de la natalidad y/o la inmigración o disminuye producto de la mortalidad y/o la emigración.

Para estudiar la supervivencia de los individuos de una población, los ecólogos, cuentan con diferentes herramientas, entre las que se encuentran las tablas de vida, las que consisten en una representación de la mortalidad específica para cada edad a partir de una cohorte determinada. Una manera de graficar estas tablas de vida es a través de las curvas de sobrevivencia, las que reflejan cómo varía la mortalidad de la cohorte a lo largo del tiempo. Al graficar estas tablas de vida se obtienen por lo general tres tipos de tendencias, con las que se originaron tres modelos de sobrevivencia, los que son presentados en el siguiente gráfico:



Las especies que presentan curvas de supervivencia tipo I se caracterizan por exhibir una baja mortalidad infantil, por lo cual la mayoría de los individuos mueren en edades avanzadas. Las especies que presenta curvas de supervivencia tipo II se caracterizan por exhibir una tasa de mortalidad constante a lo largo la vida de los individuos. Finalmente, los individuos que exhiben una curva de supervivencia tipo III presentan altas tasas de mortalidad a edades tempranas, llegando pocos a edades avanzadas.

En el gráfico del ítem, la curva mostrada coincide con la curva de supervivencia tipo I, en consecuencia, de las opciones de respuesta, solo es correcto inferir que las crías de esta población reciben cuidados parentales, dado que estos cuidados se asocian a una mayor supervivencia en los individuos de edades tempranas, evitando su depredación u otro factor que pudiese elevar a la tasa de mortalidad infantil. Por lo tanto, de acuerdo a lo fundamentado anteriormente, la respuesta correcta corresponde a la opción E).

FICHA DE REFERENCIA CURRICULAR

Eje Temático / Área Temática: Organismo, ambiente y sus interacciones / Organismo y ambiente

Nivel: II Medio

Objetivo Fundamental: Reconocer la interdependencia organismos-ambiente como un factor determinante de las propiedades de poblaciones y comunidades biológicas.

Contenido Mínimo Obligatorio: Descripción de los atributos básicos de las poblaciones y las comunidades, determinando los factores que condicionan su distribución, tamaño y crecimiento, por ejemplo: depredación, competencia, características geográficas, dominancia, diversidad.

Habilidad Cognitiva: Análisis, Síntesis y Evaluación

Clave: E

PREGUNTA 29 (Módulo Común)

Para obtener imágenes de un feto en gestación durante el embarazo se utiliza una técnica llamada ecografía. Al respecto, es correcto afirmar que la imagen del feto se consigue empleando

- A) rayos X.
- B) ultrasonido.
- C) microondas.
- D) ondas de radio.
- E) pulsos magnéticos.

RESOLUCIÓN

En este ítem el postulante debe reconocer el tipo de ondas que se emplea para realizar ecografías.

La ecografía es una técnica que permite obtener imágenes de estructuras internas que contienen alto porcentaje de agua, tales como: hígado, vesícula biliar, riñones, vejiga, páncreas, bazo, corazón y estructuras vasculares. Dichas imágenes, se obtienen por intermedio de máquinas que generan ondas sonoras y procesan ciertas diferencias en sus respectivas reflexiones.

Las ondas sonoras emitidas por un ecógrafo, permiten obtener un contraste entre estructuras que poseen un alto porcentaje de agua y las que no lo poseen, pudiendo distinguir la presencia de un feto y su correspondiente imagen. Para obtener este contraste, se emplean ondas sonoras cuyas frecuencias son superiores al rango audible del ser humano, es decir, mayores que 20000 Hz, las que se denominan ultrasonidos, siendo la opción B) la respuesta correcta del ítem.

FICHA DE REFERENCIA CURRICULAR

Eje Temático / Área Temática: Materia y sus transformaciones / Ondas

Nivel: I Medio

Objetivo Fundamental: Comprender el funcionamiento y la utilidad de algunos dispositivos tecnológicos que operan en base a ondas sonoras o electromagnéticas, estableciendo comparaciones con los órganos sensoriales.

Contenido Mínimo Obligatorio: Explicación general del funcionamiento y utilidad de dispositivos tecnológicos como el teléfono, el televisor, la radio, el ecógrafo, el sonar, el rayo láser y el radar, en base al concepto de onda.

Habilidad cognitiva: Reconocimiento

Clave: B

PREGUNTA 30 (Módulo Común)

¿Cuál de las siguientes características de un sonido depende de la amplitud de su onda sonora?

- A) El tono
- B) El timbre
- C) La intensidad
- D) La longitud de onda
- E) La rapidez de propagación

RESOLUCIÓN

Para responder correctamente este ítem se debe reconocer qué característica del sonido depende de la amplitud de su respectiva onda sonora.

Una onda sonora corresponde a una perturbación que se propaga a través de cierto medio material. En la dirección de su propagación, las partículas del medio material experimentan desplazamientos en torno a su posición de equilibrio. Al desplazamiento máximo de estas partículas se le denomina amplitud de la onda sonora.

Cuando la amplitud de la onda sonora experimenta un incremento, entonces las partículas que se encuentran a lo largo de la dirección de su propagación aumentan su desplazamiento máximo. Este aumento constituye, a su vez, un aumento en la energía de la onda y también en su intensidad. Por lo tanto, una de las características del sonido que depende de la amplitud de su onda sonora es la intensidad, de manera que la respuesta correcta del ítem es la opción C).

FICHA DE REFERENCIA CURRICULAR

Eje Temático / Área Temática: Materia y sus transformaciones / Ondas

Nivel: I Medio

Objetivo Fundamental: Comprender el origen, la absorción, la reflexión y la transmisión del sonido y la luz sobre la base de conceptos físicos, leyes y relaciones matemáticas elementales.

Contenido Mínimo Obligatorio: Descripción cualitativa del origen y propagación del sonido, de su interacción con diferentes medios (absorción, reflexión, transmisión), de sus características básicas (altura, intensidad, timbre) y de algunos fenómenos como el Efecto Doppler.

Habilidad cognitiva: Reconocimiento

Clave: C

PREGUNTA 31 (Módulo Común)

¿Cuál de las siguientes opciones es correcta respecto de una onda sonora que viaja por el aire e incide sobre una pared sólida de hormigón?

- A) La onda que se transmite por la pared tiene menor longitud de onda que la onda incidente.
- B) La onda que se transmite por la pared tiene mayor período que la onda incidente.
- C) La onda reflejada tiene menor frecuencia que la onda que se transmite por la pared.
- D) La onda incidente tiene menor intensidad que la onda que se transmite por la pared.
- E) La onda reflejada tiene menor rapidez que la onda que se transmite por la pared.

RESOLUCIÓN

Para responder correctamente este ítem, el postulante debe analizar lo que ocurre con una onda sonora, cuando esta se propaga por el aire e incide sobre una pared de hormigón.

Como la frecuencia de una onda sonora, y por ende su período, depende de la fuente que la emite y no del medio por el que se propaga, entonces tanto la frecuencia como el período permanecen constantes, de manera que las opciones B) y C) son incorrectas.

En el enunciado del ítem, se explicita que la onda sonora inicialmente se propaga por el aire. Durante su recorrido hacia la pared, la onda tiene asociada una cierta intensidad y, por lo tanto, una cierta cantidad de energía, de modo que al incidir sobre el hormigón, parte de la onda se transmite y parte se refleja con una menor intensidad, cambiando de sentido de propagación, por lo que la opción D) es incorrecta. En este proceso, la otra parte de la onda incidente que se transmite por la pared, tiene una intensidad también menor, que en complemento con la intensidad de la onda reflejada equivale a la intensidad de la onda sonora incidente, debido a la conservación de la energía.

Por otra parte, debido a que las moléculas del hormigón están más ligadas entre sí que las del aire, ellas vuelven más rápidamente a sus posiciones de equilibrio en presencia de una perturbación, lo que se traduce en que la rapidez de propagación de una onda sonora es mayor en el hormigón que en el aire, por lo que la opción E) es la respuesta correcta del ítem.

FICHA DE REFERENCIA CURRICULAR

Eje Temático / Área Temática: Materia y sus transformaciones / Ondas

Nivel: I Medio

Objetivo Fundamental: Comprender el origen, la absorción, la reflexión y la transmisión del sonido y la luz, sobre la base de conceptos físicos, leyes y relaciones matemáticas elementales.

Contenido Mínimo Obligatorio: Descripción cualitativa del origen y propagación del sonido, de su interacción con diferentes medios (absorción, reflexión, transmisión), de sus características básicas (altura, intensidad, timbre) y de algunos fenómenos como el efecto Doppler.

Habilidad cognitiva: Análisis, Síntesis y Evaluación

Clave: E

PREGUNTA 32 (Módulo Común)

Una bailarina se encuentra girando frente a un espejo plano dispuesto verticalmente. Al respecto, ¿cómo es el tamaño de la imagen y el sentido de giro que observa de sí misma la bailarina?

- A) Es de igual tamaño que ella y gira en su mismo sentido.
- B) Es de igual tamaño que ella y gira en el sentido opuesto.
- C) Es de mayor tamaño que ella y gira en su mismo sentido.
- D) Es de menor tamaño que ella y gira en su mismo sentido.
- E) Es de menor tamaño que ella y gira en el sentido opuesto.

RESOLUCIÓN

Para responder correctamente este ítem, se debe analizar cómo es la imagen que una bailarina observa de sí misma al encontrarse girando frente a un espejo plano.

Cuando una persona observa su imagen en un espejo plano, percibe que experimenta una inversión lateral, es decir, su lado izquierdo será el derecho en la imagen y viceversa. De acuerdo con lo anterior, si se considera que la bailarina gira en cierto sentido, esta percibe que su imagen lo hace en sentido opuesto a ella, lo que permite desestimar las opciones A), C) y D) como respuestas correctas del ítem.

Lo que observa de sí misma la bailarina en el espejo, corresponde a una imagen virtual, que se encuentra detrás de este, como se representa en la siguiente figura, en donde el rayo de color rojo incide perpendicularmente al espejo plano, reflejándose en su misma dirección y el rayo de color azul incide en el espejo con un ángulo β con respecto a la normal, reflejándose con un ángulo de igual medida.

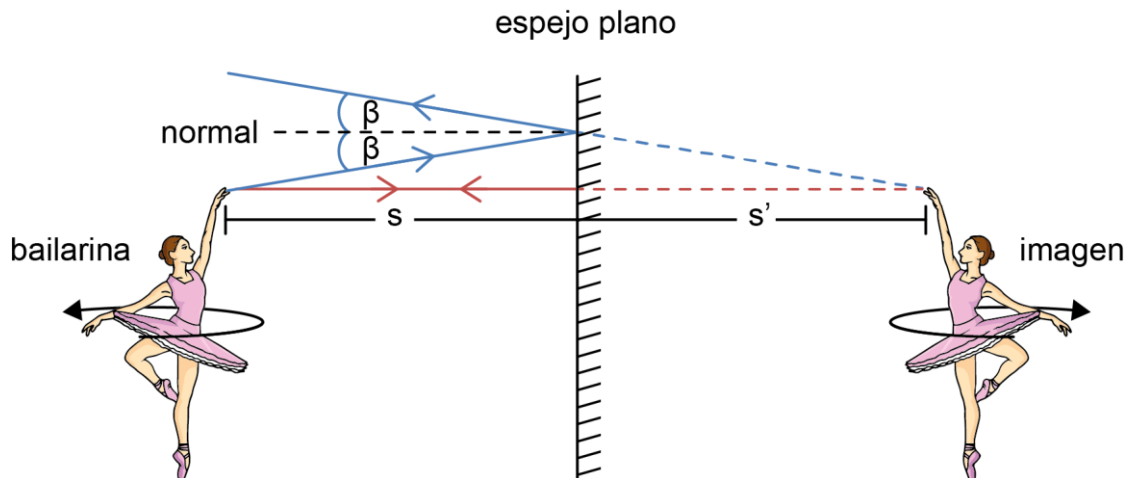


Figura: formación de la imagen de una bailarina que gira frente a un espejo plano, donde su mano izquierda pareciera corresponder a la mano derecha de su imagen.

Por lo tanto, dado que la distancia, s , entre la bailarina y el espejo es igual a la distancia, s' , a la que se encuentra su imagen del espejo, se tiene que la bailarina observa su imagen de igual tamaño al que ella posee y que además gira en sentido opuesto al que ella lo hace, de manera que la opción de respuesta correcta del ítem es B).

FICHA DE REFERENCIA CURRICULAR

Eje Temático / Área Temática: Materia y sus transformaciones / Ondas

Nivel: I Medio

Objetivo Fundamental: Comprender el origen, la absorción, la reflexión y la transmisión del sonido y la luz, sobre la base de conceptos físicos, leyes y relaciones matemáticas elementales.

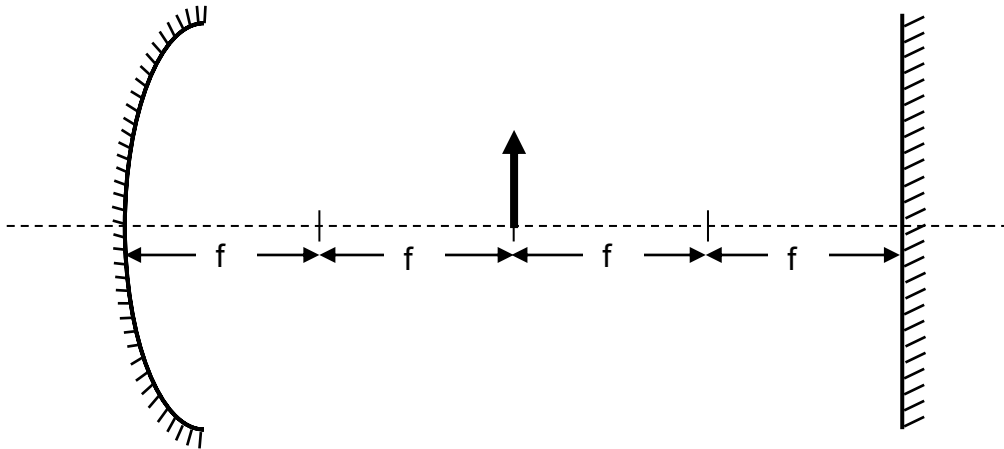
Contenido Mínimo Obligatorio: Análisis comparativo de la reflexión de la luz en espejos planos y parabólicos para explicar el funcionamiento del telescopio de reflexión, el espejo de pared, los reflectores solares en sistemas de calefacción, entre otros.

Habilidad cognitiva: Análisis, Síntesis y Evaluación

Clave: B

PREGUNTA 33 (Módulo Común)

El esquema representa un espejo cóncavo de distancia focal f y un espejo plano que se encuentra a una distancia $4f$ del espejo cóncavo.



Si un objeto se ubica a una distancia $2f$ del espejo cóncavo, ¿qué distancia separa las primeras imágenes formadas por cada espejo?

- A) 0
- B) $2f$
- C) $4f$
- D) $6f$
- E) $8f$

RESOLUCIÓN

Para responder correctamente este ítem, se requiere analizar una situación en la que un objeto se encuentra situado entre un espejo cóncavo y uno plano, con el fin de determinar la distancia entre las primeras imágenes que se forman debido a dichos espejos.

Para realizar este análisis, se comenzará por describir la primera imagen del objeto que forma el espejo cóncavo, empleando para ello dos rayos provenientes desde la punta de este, tal como se representa en la figura 1.

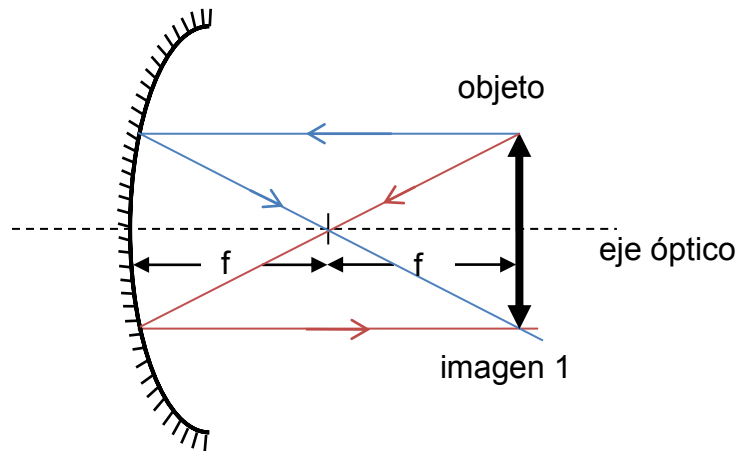


Figura 1: el rayo de color azul es paralelo al eje óptico y se refleja pasando por el foco. A su vez, el rayo de color rojo pasa por el foco del espejo y se refleja paralelamente al eje óptico.

En consecuencia, la imagen 1 se genera por la intersección de los rayos reflejados, siendo una imagen real y, como consta en la figura 1, invertida con respecto al objeto, observándose además que la distancia del objeto al espejo cóncavo es igual a la distancia entre la imagen 1 y este espejo.

Por otra parte, a continuación se abordará la formación de la primera imagen del objeto debido al espejo plano mediante la figura 2.

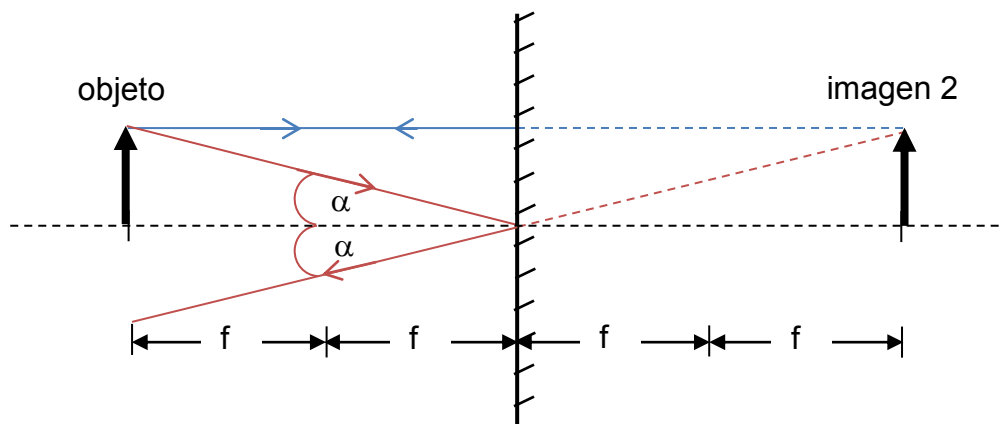


Figura 2: el rayo de color azul se propaga paralelamente al eje óptico cambiando únicamente su sentido al reflejarse, mientras que el rayo de color rojo incide en el vértice formado por el eje óptico y el espejo, con un ángulo α igual al que se forma entre el eje óptico y el rayo reflejado, pues la normal coincide con el eje óptico.

Luego se obtiene que la imagen 2 del objeto se encuentra a una distancia $2f$ detrás de la superficie reflectora del espejo plano, siendo virtual debido a que se forma a

partir de la intersección de las prolongaciones de los rayos reflejados, además de ser derecha y de igual tamaño que el objeto.

Del resultado de los análisis anteriores, se elabora la figura 3 para establecer la distancia entre la imagen 1 y la imagen 2.

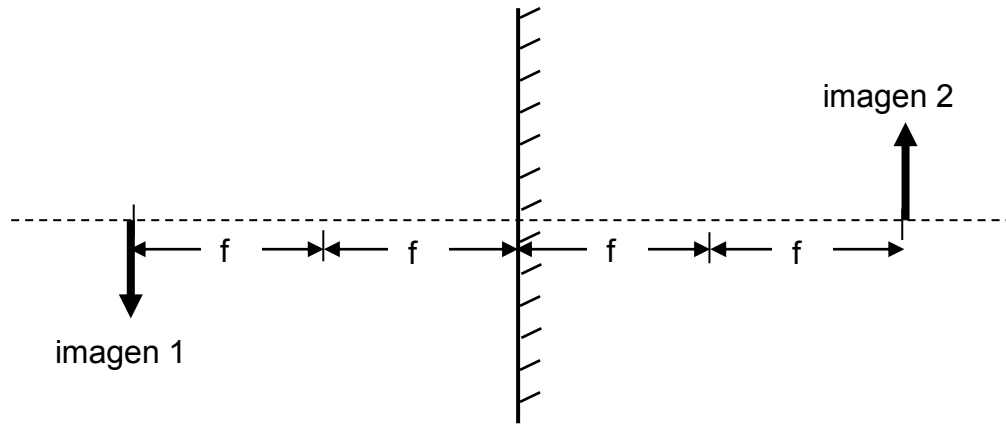


Figura 3: distancia entre la imagen 1 y la imagen 2 del objeto.

Por lo tanto, la distancia que separa las primeras imágenes que se producen en la situación propuesta es $4f$, siendo la opción C) la respuesta correcta del ítem.

FICHA DE REFERENCIA CURRICULAR

Eje Temático / Área Temática: Materia y sus transformaciones / Ondas

Nivel: I Medio

Objetivo Fundamental: Comprender el origen, la absorción, la reflexión y la transmisión del sonido y la luz, sobre la base de conceptos físicos, leyes y relaciones matemáticas elementales.

Contenido Mínimo Obligatorio: Análisis comparativo de la reflexión de la luz en espejos planos y parabólicos para explicar el funcionamiento del telescopio de reflexión, el espejo de pared, los reflectores solares en sistemas de calefacción, entre otros.

Habilidad cognitiva: Análisis, Síntesis y Evaluación

Clave: C

PREGUNTA 34 (Módulo Común)

¿En cuál de las siguientes situaciones se puede asegurar que un objeto describe un movimiento rectilíneo uniformemente acelerado?

- A) Cuando cambia uniformemente su sentido de movimiento.
- B) Cuando se acerca al origen de un sistema de referencia.
- C) Cuando se aleja constantemente de su posición inicial.
- D) Cuando cambia su posición manteniendo su rapidez.
- E) Cuando cambia uniformemente su velocidad.

RESOLUCIÓN

Para responder correctamente este ítem, se deben reconocer ciertas características de un movimiento rectilíneo uniformemente acelerado.

Cuando un objeto se mueve rectilíneamente entre dos puntos cualesquiera, para dos instantes de tiempo t_i y t_f , con respectivas velocidades \vec{v}_i y \vec{v}_f , la aceleración \vec{a} del objeto corresponde al cociente entre la variación de velocidad y el intervalo de tiempo en que ello ocurre, lo que se relaciona mediante la expresión $\vec{a} = \frac{\vec{v}_f - \vec{v}_i}{t_f - t_i}$, que representa la razón de cambio de la velocidad en dicho intervalo de tiempo.

Si un objeto describe un movimiento rectilíneo uniformemente acelerado, entonces su razón de cambio de la velocidad en el tiempo debe ser constante y distinta de cero, es decir, dicho objeto experimenta una aceleración \vec{a} constante y no nula, independientemente del sentido de la velocidad. Por lo tanto, es suficiente que el cambio de velocidad sea uniforme para asegurar que un objeto se mueve rectilíneamente con aceleración constante, de manera que la respuesta correcta del ítem es la opción E).

FICHA DE REFERENCIA CURRICULAR

Eje Temático / Área Temática: Fuerza y movimiento / Mecánica

Nivel: II Medio

Objetivo Fundamental: Analizar el movimiento de los cuerpos a partir de las leyes de la mecánica y de las relaciones matemáticas elementales que los describen.

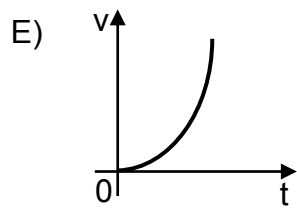
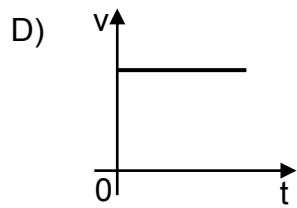
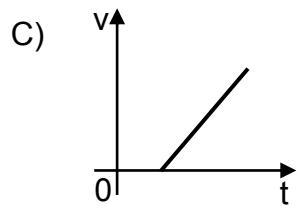
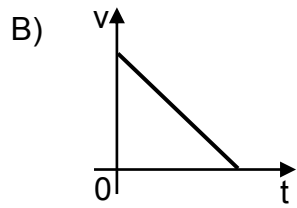
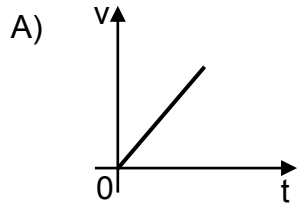
Contenido Mínimo Obligatorio: Descripción de movimientos rectilíneos uniformes y acelerados tanto en su formulación analítica como en su representación gráfica.

Habilidad cognitiva: Reconocimiento

Clave: E

PREGUNTA 35 (Módulo Común)

¿Cuál de los siguientes gráficos de velocidad v en función del tiempo t representa mejor un movimiento rectilíneo uniforme?



RESOLUCIÓN

Para responder correctamente este ítem, el postulante debe comprender el comportamiento que debe tener la curva de un gráfico de velocidad en función del tiempo para describir un movimiento rectilíneo uniforme.

Para que un objeto describa un movimiento rectilíneo uniforme, debe realizar desplazamientos iguales en intervalos de tiempos iguales. Esto implica, que la magnitud, dirección y sentido de la velocidad son constantes, pues corresponde al cociente entre el desplazamiento y el intervalo de tiempo en que este ocurre.

La representación gráfica de un movimiento rectilíneo uniforme en un gráfico de velocidad en función del tiempo, corresponde a un valor fijo de velocidad. Esta condición la cumple una recta paralela al eje del tiempo, debido a que la razón de cambio de la velocidad en el intervalo de tiempo descrito es cero, o sea la aceleración es nula.

En base a lo anterior, el gráfico que mejor representa un movimiento rectilíneo uniforme corresponde al de la opción D), siendo esta la respuesta correcta del ítem.

FICHA DE REFERENCIA CURRICULAR

Eje Temático / Área Temática: Fuerza y movimiento / Mecánica

Nivel: II Medio

Objetivo Fundamental: Analizar el movimiento de los cuerpos a partir de las leyes de la mecánica y de las relaciones matemáticas elementales que los describen.

Contenido Mínimo Obligatorio: Descripción de movimientos rectilíneos uniformes y acelerados tanto en su formulación analítica como en su representación gráfica.

Habilidad cognitiva: Comprensión

Clave: D

PREGUNTA 36 (Módulo Común)

Un capitán navega en su barco cerca de la costa siendo observado por una persona parada en ella y por el piloto de una avioneta que sobrevuela el lugar. ¿Cuál(es) de las siguientes afirmaciones es (son) correcta(s) respecto de la descripción del movimiento entre estas personas?

- I) La persona en la costa y el piloto de la avioneta tienen una velocidad relativa distinta de cero entre sí.
 - II) La persona en la costa y el capitán del barco usan el mismo marco de referencia al observar el movimiento de la avioneta.
 - III) El capitán del barco y el piloto de la avioneta se están alejando de la persona en la costa.
- A) Solo I
 - B) Solo III
 - C) Solo I y II
 - D) Solo I y III
 - E) Solo II y III

RESOLUCIÓN

Para responder correctamente este ítem, se debe comprender una situación de movimiento entre tres personas para determinar ciertas características asociadas a la descripción de sus movimientos.

Se puede establecer que la persona en la costa y el piloto que está sobrevolando el lugar se encuentran en movimiento entre sí, aumentando su distancia entre ellos o disminuyéndola, por lo que la afirmación I) que alude a que la velocidad relativa entre sí es distinta de cero es válida.

Un marco de referencia sirve para describir la ubicación de un objeto y las características de su movimiento. Generalmente, el marco de referencia queda determinado por la ubicación del observador, sin embargo, no se puede afirmar que II) es válida, pues si bien la persona parada en la costa se encuentra en reposo con respecto al suelo, mientras que el piloto de la avioneta se encuentra en movimiento con respecto a dicha referencia, ambos pueden emplear o no un mismo marco de referencia para describir el movimiento de un tercero, pudiendo emplear para ello, por ejemplo, el primero a una roca que se encuentra en la costa y el otro a una lancha en movimiento con respecto al agua como marco de referencia.

A raíz de la información proporcionada, las descripciones de la navegación para la persona parada en la costa en relación al barco y al piloto de la avioneta pueden ser iguales o diferentes en relación a su movimiento con respecto a la costa, debido a que uno de ellos o ambos pueden estar acercándose a la costa, por lo que la afirmación III) es inválida.

Por lo tanto, de los párrafos anteriores se puede inferir que la respuesta correcta del ítem es la opción A).

FICHA DE REFERENCIA CURRICULAR

Eje Temático / Área Temática: Fuerza y movimiento / Mecánica

Nivel: I Medio

Objetivo Fundamental: Comprender que la descripción de los movimientos resulta diferente al efectuarla desde distintos marcos de referencia.

Contenido Mínimo Obligatorio: Aplicación de la fórmula de adición de velocidades en situaciones unidimensionales para comprobar la relatividad del movimiento en contextos cotidianos.

Habilidad cognitiva: Comprensión

Clave: A

PREGUNTA 37 (Módulo Común)

En un experimento se deja deslizar libremente un bloque por un plano inclinado, continuando por un plano horizontal hasta que se detiene. Un primer estudiante escribe en su cuaderno que, dado que el bloque se detiene, entonces existe una fuerza de roce entre las superficies en contacto, mientras que un segundo estudiante anota en su cuaderno que si la superficie de alguno de los planos fuese más áspera, el bloque se detendría antes. Entre las siguientes opciones, ¿qué podrían representar las anotaciones de estos dos estudiantes?

- A) Una conclusión y una inferencia, respectivamente
- B) Una teoría y una conclusión, respectivamente
- C) Una inferencia y una teoría, respectivamente
- D) Una conclusión y una ley, respectivamente
- E) Una ley y una inferencia, respectivamente

RESOLUCIÓN

En este ítem, se requiere comprender ciertas características de un trabajo investigativo, para establecer a qué corresponden las propuestas de dos estudiantes que se encuentran realizando un experimento.

En la situación presentada, se narra un procedimiento experimental del que dos estudiantes están realizando registros relacionados con la detención de un bloque que se mueve por un plano inclinado hasta llegar a un plano horizontal. En particular, se alude a que ambos estudiantes anotan, en principio, ideas acerca de lo que repercute en la detención del bloque, distinguiéndose ambos registros en que el primero de los estudiantes lo asocia concretamente a la situación observada, mientras que el segundo a eventuales condiciones que podrían provocar un comportamiento distinto en la detención del bloque en un nuevo montaje.

El primero de los estudiantes, propone una explicación acerca de lo que ocurre con el bloque en la situación observada, anotando directamente lo que podría haber sucedido en este movimiento en específico, por lo que su propuesta se puede identificar como una conclusión. A su vez, el segundo estudiante plantea una variación en las condiciones en que se mueve el bloque, apuntando a un cambio en la rugosidad de uno de los dos planos, lo que constituye una inferencia, pues corresponde a una extrapolación de lo que efectivamente fue observado, llevando dicho evento a una nueva situación, explicando además lo que ocurriría bajo estas nuevas condiciones experimentales.

Por lo tanto, en base a lo expuesto y a las opciones presentadas, la respuesta correcta del ítem corresponde a la opción A).

FICHA DE REFERENCIA CURRICULAR

Eje Temático / Área Temática: Habilidades de pensamiento científico / Mecánica

Nivel: II Medio

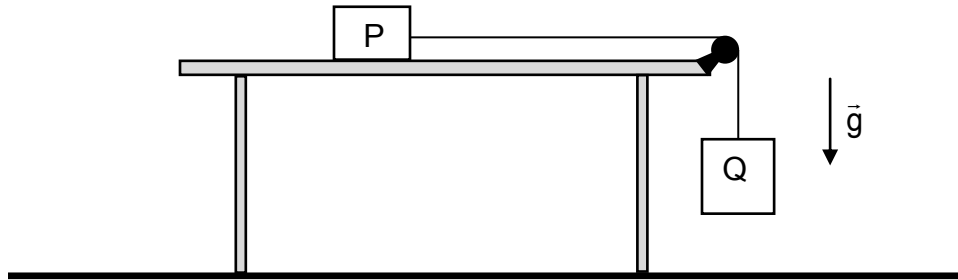
Objetivo Fundamental: Describir investigaciones científicas clásicas o contemporáneas relacionadas con los conocimientos del nivel, reconociendo el papel de las teorías y el conocimiento en el desarrollo de una investigación científica.

Habilidad del Pensamiento Científico: Identificación de teorías y marcos conceptuales, problemas, hipótesis, procedimientos experimentales, inferencias y conclusiones en investigaciones clásicas o contemporáneas relacionadas con los temas del nivel.

Clave: A

PREGUNTA 38 (Módulo Común)

En el sistema de la figura, entre el bloque P de 10 kg y la mesa existe un roce cinético de coeficiente igual a 0,4. Considere que la polea no experimenta roce, que el hilo es inextensible y que la magnitud de la aceleración de gravedad es $10 \frac{\text{m}}{\text{s}^2}$.



Si el bloque P desliza con rapidez constante, ¿cuál es la masa del bloque Q?

- A) 4,0 kg
- B) 10,0 kg
- C) 10,4 kg
- D) 25,0 kg
- E) 40,0 kg

RESOLUCIÓN

Para responder correctamente este ítem, el postulante debe aplicar las leyes de Newton a un sistema constituido por dos bloques que están unidos por un hilo inextensible.

En el enunciado del ítem, se afirma que el bloque P desliza con rapidez constante, por lo que ambos bloques se mueven con rapidez constante. Entonces, de acuerdo a la primera ley de Newton, la suma de las fuerzas externas que actúan sobre cada uno de ellos es cero.

El bloque Q está sometido a dos fuerzas externas: su peso de magnitud $m_Q g$ y la tensión de magnitud T que ejerce el hilo sobre dicho bloque, actuando cada una de ellas en sentidos opuestos entre sí, pudiendo relacionar estas fuerzas mediante la primera ley de Newton como se expresa a continuación

$$m_Q g - T = 0 \quad (1)$$

Sobre el bloque P, que se encuentra sobre la mesa, actúan dos fuerzas en la dirección vertical y en sentidos opuestos entre sí: su peso de magnitud $m_P g$ y la fuerza normal de magnitud N , por lo que al aplicar la primera ley de Newton resulta

$$m_p g - N = 0 \quad (2)$$

A su vez, el bloque P está sometido también a dos fuerzas opuestas entre sí que se ejercen en la dirección horizontal: la tensión de magnitud T que ejerce el hilo sobre dicho bloque y la fuerza de roce de magnitud F_r que experimenta, relacionándolas mediante la siguiente expresión

$$T - F_r = 0 \quad (3)$$

Como la magnitud de la fuerza que ejerce el hilo sobre cada bloque es T, entonces combinando las ecuaciones (1) y (3) se obtiene

$$F_r = m_Q g \quad (4)$$

Por otra parte, la magnitud de la fuerza de roce se relaciona con la magnitud de la fuerza normal a través del coeficiente de roce cinético μ_k , mediante la expresión $F_r = \mu_k N$, que al sustituirla en la ecuación (4) permite escribirla como

$$\mu_k N = m_Q g \quad (5)$$

Reordenando la ecuación (2) como $N = m_p g$, y sustituyéndola en (5) se tiene que

$$\mu_k m_p g = m_Q g$$

$$m_Q = \mu_k m_p$$

Por lo tanto, al reemplazar los valores de $\mu_k = 0,4$ y de $m_p = 10$ kg en la expresión anterior, resulta que $m_Q = 4$ kg, siendo la opción A) la respuesta correcta del ítem.

FICHA DE REFERENCIA CURRICULAR

Eje Temático / Área Temática: Fuerza y movimiento / Mecánica

Nivel: II Medio

Objetivo Fundamental: Analizar el movimiento de los cuerpos a partir de las leyes de la mecánica y de las relaciones matemáticas elementales que los describen.

Contenido Mínimo Obligatorio: Aplicación de los principios de Newton para explicar la acción de diversas fuerzas que suelen operar sobre un objeto en situaciones de la vida cotidiana.

Habilidad cognitiva: Aplicación

Clave: A

PREGUNTA 39 (Módulo Común)

Sobre un cuerpo P de 2 kg actúa una fuerza neta de 4 N durante 10 s y sobre un cuerpo Q de 3 kg actúa una fuerza neta de 2 N durante 20 s. Los cuerpos P y Q se mueven en el mismo sentido. Para los tiempos informados, es correcto afirmar que

- A) P y Q tienen la misma rapidez final.
- B) P y Q tienen el mismo cambio de rapidez.
- C) P y Q tienen el mismo cambio de momentum lineal.
- D) el momentum lineal de P es mayor que el momentum lineal de Q.
- E) el impulso de la fuerza sobre P es mayor que el impulso de la fuerza sobre Q.

RESOLUCIÓN

Para responder correctamente este ítem, el postulante debe analizar una situación en que dos cuerpos se mueven en el mismo sentido, conociendo la masa de cada uno de ellos, la fuerza neta a la que están sometidos y el tiempo durante el que esta actúa.

La segunda ley de Newton establece que la fuerza neta \vec{F} que actúa sobre un cuerpo de masa m es proporcional a la aceleración \vec{a} que adquiere, de la forma $\vec{F} = m\vec{a}$.

Por otra parte, la aceleración \vec{a} de un cuerpo corresponde a la razón de cambio entre su variación de velocidad $\Delta\vec{v}$ y el intervalo de tiempo Δt transcurrido en que ello ocurre, por lo que la ecuación anterior se puede reescribir como $m\Delta\vec{v} = \vec{F}\Delta t$, donde $m\Delta\vec{v}$ equivale al cambio de momentum lineal que experimenta el cuerpo y $\vec{F}\Delta t$ al impulso debido a la fuerza neta. En consecuencia, el cambio de momentum lineal que experimenta el cuerpo P es igual al impulso que actúa sobre él, es decir

$$m_P\Delta\vec{v}_P = \vec{F}_P\Delta t_P, \quad (1)$$

siendo esto también válido para el cuerpo Q mediante la expresión

$$m_Q\Delta\vec{v}_Q = \vec{F}_Q\Delta t_Q, \quad (2)$$

haciendo referencia a los respectivos cuerpos con cada uno de los subíndices.

El cambio de velocidad de los cuerpos P y Q coincide con el cambio de rapidez que cada uno experimenta, debido a que se mueven en una única dirección. Luego, al reemplazar los datos de fuerza neta e intervalo de tiempo proporcionados por el

ítem en la ecuación (1), se tiene que la magnitud del cambio de momentum lineal que experimenta el cuerpo P y la magnitud del impulso que actúa sobre él es

$$m_P \cdot \Delta v_P = 40 \text{ [Ns]} \quad (3)$$

del mismo modo, al sustituir los datos en la ecuación (2) para el cuerpo Q se tiene que

$$m_Q \cdot \Delta v_Q = 40 \text{ [Ns]} \quad (4)$$

De las expresiones (3) y (4), se tiene que sobre cada cuerpo actúa un impulso neto de magnitud 40 Ns, por lo que la magnitud del cambio de momentum lineal es igual para ambos cuerpos y, como se mueven en el mismo sentido, el vector cambio de momentum lineal es el mismo, de manera que la opción correcta del ítem es C).

FICHA DE REFERENCIA CURRICULAR

Eje Temático / Área Temática: Fuerza y movimiento / Mecánica

Nivel: II Medio

Objetivo Fundamental: Analizar el movimiento de los cuerpos a partir de las leyes de la mecánica y de las relaciones matemáticas elementales que los describen.

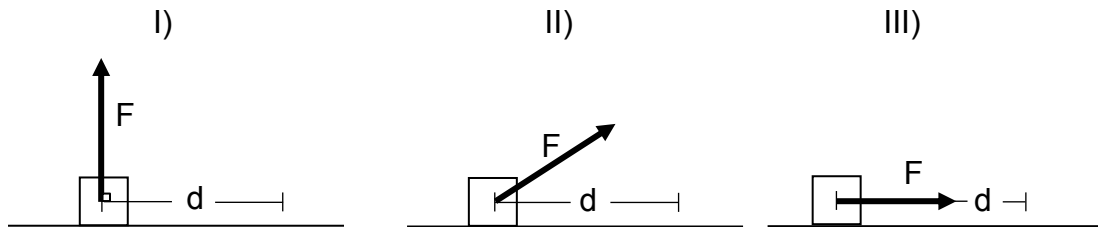
Contenido Mínimo Obligatorio: Aplicación de la ley de conservación del momentum lineal para explicar diversos fenómenos y aplicaciones prácticas, por ejemplo, la propulsión de cohetes y jets, etc.

Habilidad cognitiva: Análisis, Síntesis y Evaluación

Clave: C

PREGUNTA 40 (Módulo Común)

Las siguientes tres figuras representan un objeto de masa m que se desplaza horizontalmente una distancia d , actuando sobre él una fuerza de magnitud F .



¿En cuál(es) de los casos representados la magnitud del trabajo realizado por la fuerza de magnitud F es igual a $F d$?

- A) Solo I
- B) Solo II
- C) Solo III
- D) Solo I y III
- E) Solo II y III

RESOLUCIÓN

Para responder correctamente este ítem, se requiere comprender en cuál de los casos presentados la magnitud del trabajo realizado por la fuerza de magnitud F sobre un objeto es igual a $F d$, considerando que esta fuerza actúa en diferentes direcciones, para un mismo desplazamiento d .

Para que la magnitud del trabajo realizado por la fuerza F sea igual a $F d$, debe cumplirse que la dirección de esta fuerza coincida con la dirección del desplazamiento d del objeto, lo que constituye un caso particular de la definición de trabajo.

En los casos I) y II), las direcciones de la fuerza aplicada al objeto no coincide con la dirección de su desplazamiento, por lo que la magnitud del trabajo realizado por F no cumple con la condición antes descrita, pudiéndose desestimar las opciones A), B), D) y E).

En el caso III), la dirección y sentido de F es igual a la del desplazamiento d del objeto, cumpliendo por consiguiente con la relación $F d$, por lo que la respuesta correcta a este ítem corresponde a la opción C).

FICHA DE REFERENCIA CURRICULAR

Eje Temático / Área Temática: Fuerza y movimiento / Energía

Nivel: II Medio

Objetivo Fundamental: Analizar el movimiento de los cuerpos a partir de las leyes de la mecánica y de las relaciones matemáticas elementales que los describen.

Contenido Mínimo Obligatorio: Aplicación de las nociones cuantitativas de trabajo, energía y potencia mecánica para describir actividades de la vida cotidiana.

Habilidad cognitiva: Comprensión

Clave: C

PREGUNTA 41 (Módulo Común)

Si cierto material se contrae al aumentar su temperatura, ¿puede ser usado para fabricar un termómetro?

- A) Sí, aunque no tendría sentido el cero absoluto.
- B) Sí, pero las temperaturas serían negativas al utilizar dicho material.
- C) Sí, pues basta que el material experimente variaciones en su volumen al cambiar de temperatura.
- D) No, pues solo son adecuados los materiales que se expanden al aumentar la temperatura.
- E) No, pues no se podría convertir la escala de este sistema a otras como la celsius.

RESOLUCIÓN

Para responder correctamente este ítem, el postulante debe comprender que para fabricar un termómetro es necesario contar con un material que cumpla con cierta propiedad que se relacione con la temperatura.

Un termómetro es un instrumento de medición que se utiliza para determinar el estado térmico o temperatura de un objeto. Esta medición se obtiene cuando el termómetro y el objeto se encuentran en equilibrio térmico entre sí, después de que se ha producido un intercambio de energía entre ellos.

El material con que puede construirse un termómetro debiera tener alguna propiedad con la que se pueda detectar un cambio en la temperatura, por ejemplo, cambios de color, en la resistencia eléctrica, de longitud, etc, que se pueden asociar a una escala termométrica.

Por lo tanto, si se cuenta con un material que cambie sus dimensiones, o sea que experimente variaciones en su volumen al cambiar su temperatura, pudiendo expandirse o contraerse, entonces podrá emplearse como material para poder construir un termómetro. De manera que la opción correcta del ítem es C).

FICHA DE REFERENCIA CURRICULAR

Eje Temático / Área Temática: Materia y sus transformaciones / Energía

Nivel: II Medio

Objetivo Fundamental: Explicar diversos fenómenos en que participa el calor, su relación con la temperatura, su medición y su interpretación cualitativa, en términos del modelo cinético de la materia.

Contenido Mínimo Obligatorio: Análisis comparativo del funcionamiento de los distintos termómetros que operan sobre la base de la dilatación térmica y de las escalas Kelvin y Celsius de temperatura.

Habilidad cognitiva: Comprensión

Clave: C

PREGUNTA 42 (Módulo Común)

En una habitación de 2,5 m de altura, se encuentra un mueble de 1,5 m de altura y sobre él, horizontalmente, una lámina metálica delgada de 0,5 kg. Suponiendo que la energía potencial gravitatoria en el techo de la habitación es 0 J y que la magnitud de la aceleración de gravedad es $10 \frac{\text{m}}{\text{s}^2}$, ¿cuál es la energía potencial gravitatoria de la lámina con respecto al techo de la habitación?

- A) -1,5 J
- B) -5,0 J
- C) -7,5 J
- D) -12,5 J
- E) -20,0 J

RESOLUCIÓN

Para responder este ítem se requiere aplicar la relación que da cuenta de la energía potencial gravitatoria, a una lámina que se encuentra a cierta altura con respecto al techo de una habitación.

La energía potencial gravitatoria E_p de la lámina corresponde al producto entre su masa m , la magnitud de aceleración de gravedad g y la altura h de la lámina con respecto al nivel del techo, como consta en la siguiente expresión

$$E_p = m \cdot g \cdot h \quad (1)$$

Considerando que la lámina delgada se encuentra horizontalmente sobre un mueble de 1,5 m de altura, y este se encuentra al interior de una habitación de 2,5 m de altura, entonces la diferencia de altura entre ellos permite obtener la altura h de la lámina con respecto al techo, es decir,

$$h = 2,5 \text{ m} - 1,5 \text{ m} = 1,0 \text{ m}$$

Como en el ítem se define que la energía potencial gravitatoria en el techo es 0 J, entonces cualquier objeto al interior de la habitación tiene una energía potencial gravitatoria menor que cero, lo que significa que la lámina tiene un valor de energía potencial gravitatoria negativo, tal como se desarrolla a continuación mediante la expresión (1)

$$E_p = -0,5 \text{ kg} \cdot 10 \frac{\text{m}}{\text{s}^2} \cdot 1,0 \text{ m}$$

$$E_p = -0,5 \cdot 10 \left[\frac{\text{kg m}}{\text{s}^2} \text{ m} \right]$$

$$E_p = -0,5 \cdot 10 \text{ [Nm]}$$

$$E_p = -5,0 \text{ J}$$

Finalmente, la respuesta correcta a este ítem es la opción B).

FICHA DE REFERENCIA CURRICULAR

Eje Temático / Área Temática: Fuerza y movimiento / Energía

Nivel: II Medio

Objetivo Fundamental: Analizar el movimiento de los cuerpos a partir de las leyes de la mecánica y de las relaciones matemáticas elementales que los describen.

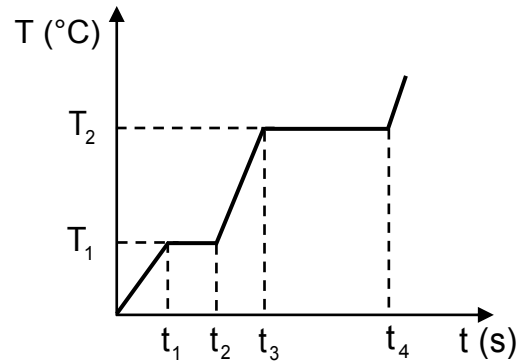
Contenido Mínimo Obligatorio: Aplicación de las nociones cuantitativas de trabajo, energía y potencia mecánica para describir actividades de la vida cotidiana.

Habilidad cognitiva: Aplicación

Clave: B

PREGUNTA 43 (Módulo Común)

Una sustancia metálica, que se encuentra en fase sólida, absorbe energía en forma constante. El siguiente gráfico representa la temperatura T de la sustancia en función del tiempo t .



Si entre t_1 y t_2 la temperatura permanece constante y lo mismo ocurre entre t_3 y t_4 , a partir del gráfico se puede afirmar correctamente que

- A) a la temperatura T_1 la sustancia cede más calor que a T_2 .
- B) la sustancia disminuye su calor específico al alcanzar las temperaturas T_1 y T_2 .
- C) T_1 corresponde a la temperatura de fusión de la sustancia y T_2 a la de ebullición.
- D) la energía absorbida entre t_1 y t_2 equivale al calor latente de vaporización.
- E) en t_2 toda la sustancia se encuentra en fase gaseosa.

RESOLUCIÓN

Para responder correctamente este ítem, el postulante debe analizar un gráfico de temperatura de una sustancia en función del tiempo, cuando absorbe energía en forma constante desde su fase sólida.

En dicho gráfico se observa que la temperatura aumenta linealmente con el tiempo hasta que alcanza una temperatura T_1 en t_1 , manteniéndose constante hasta t_2 . Un cambio de fase se caracteriza porque se mantiene constante la temperatura de la sustancia mientras dura el proceso. Esto implica que la sustancia metálica experimenta un cambio de fase entre t_1 y t_2 , es decir, dicha sustancia pasa desde su fase sólida a su fase líquida, por lo que T_1 corresponde a la temperatura de fusión de dicha sustancia.

Como la sustancia queda completamente en fase líquida en t_2 y el gráfico muestra que la temperatura en dicha fase aumenta linealmente hasta alcanzar una temperatura T_2 en t_3 , la que se mantiene constante hasta un tiempo t_4 , se puede concluir que la sustancia experimenta un nuevo cambio de fase, pasando esta vez desde su fase líquida a su fase gaseosa. La temperatura T_2 de este proceso corresponde a la temperatura de ebullición de la sustancia.

Por lo tanto, a partir de lo descrito previamente, se puede afirmar correctamente que T_1 corresponde a la temperatura de fusión de la sustancia y T_2 a la de ebullición, siendo C) la opción que responde correctamente el ítem.

FICHA DE REFERENCIA CURRICULAR

Eje Temático / Área Temática: Materia y sus transformaciones / Energía

Nivel: II Medio

Objetivo Fundamental: Explicar diversos fenómenos en que participa el calor, su relación con la temperatura, su medición y su interpretación cualitativa, en términos del modelo cinético de la materia.

Contenido Mínimo Obligatorio: Interpretación cualitativa de la relación entre temperatura y calor en términos del modelo cinético de la materia.

Habilidad cognitiva: Análisis, Síntesis y Evaluación

Clave: C

PREGUNTA 44 (Módulo Común)

¿Cuál de las siguientes afirmaciones relacionadas con la litosfera es **INCORRECTA**?

- A) Se destruye en la subducción de placas tectónicas.
- B) Es la capa rígida más externa de la Tierra.
- C) Está dividida en placas tectónicas.
- D) Es la capa que experimenta la mayor presión.
- E) Su parte oceánica se crea en las dorsales oceánicas.

RESOLUCIÓN

Para responder correctamente este ítem, el postulante debe comprender que la litosfera tiene algunas características particulares.

La litosfera está conformada por la corteza y parte sólida del manto, cuyo espesor fluctúa desde los 50 km hasta los 200 km y posee una extensión superficial variable, distinguiendo dos tipos de litosfera: la oceánica y la continental, correspondiendo a la capa más externa de la parte sólida de la Tierra. A su vez, esta se encuentra dividida en un conjunto de fragmentos rígidos denominados placas tectónicas. Por ende, las opciones B) y C) corresponden a afirmaciones que se relacionan adecuadamente con la litosfera, por lo que no pueden responder correctamente el ítem, ya que se pregunta por lo incorrecto.

Las placas tectónicas se mueven como unidades relativamente coherentes entre sí e interactúan a lo largo de sus bordes, distinguiendo entre ellos, bordes de placas divergentes, donde las placas se separan y se localizan mayoritariamente a lo largo de dorsales oceánicas, en las que se genera nueva corteza, por lo que lo afirmado en la opción E) se relaciona con la litosfera, no siendo una opción que responde correctamente el ítem.

Por otra parte, en los bordes convergentes las placas colisionan entre sí, produciéndose en estos la subducción de la litosfera oceánica dentro del manto, generalmente a lo largo de una fosa submarina, de manera que lo afirmado en la opción A) no responde correctamente el ítem, puesto que también se encuentra relacionada adecuadamente con la litosfera.

Por último, dado que desde la superficie de la Tierra hacia su interior aumenta cada vez más la presión en cada una de sus capas, se ha de considerar que tanto el manto como el núcleo terrestre experimentan mayor presión que la litosfera, pues esta última corresponde a la parte sólida más externa de la Tierra. Por lo tanto, la opción D) no se relaciona con la litosfera, respondiendo correctamente este ítem.

FICHA DE REFERENCIA CURRICULAR

Eje Temático / Área Temática: Tierra y Universo / Macrocosmos y microcosmos

Nivel: I Medio

Objetivo Fundamental: Comprender el origen, la dinámica y los efectos de sismos y erupciones volcánicas en términos del movimiento de placas tectónicas y de la propagación de energía.

Contenido Mínimo Obligatorio: Caracterización básica del origen, la dinámica y los efectos de la actividad sísmica y volcánica en términos de la tectónica de placas y de la propagación de energía.

Habilidad cognitiva: Comprensión

Clave: D

PREGUNTA 45 (Módulo Común)

El movimiento de los astros ha sido un tema de estudio desde la Antigüedad. Aristóteles describió un sistema geocéntrico, y esta teoría perduró varios siglos hasta que Copérnico formuló una teoría heliocéntrica. La obra de Copérnico sirvió de base para que Kepler formulara sus leyes a partir de observaciones hechas por Tycho Brahe, pero los recursos científicos de su época y el desacuerdo que los datos de Brahe tenían con el modelo copernicano no le permitieron probar sus afirmaciones. Fue Newton quien lo hizo después de haber desarrollado un modelo matemático y de proponer la Teoría de Gravitación Universal, ofreciendo así una explicación coherente con las leyes de Kepler. ¿Cuál fue el impacto del modelo propuesto por Kepler?

- A) Reafirmó el modelo de gravitación de Newton.
- B) Reafirmó como correcto el pensamiento de Aristóteles.
- C) Sirvió como apoyo a la ley de gravitación universal de Newton.
- D) Sirvió para invalidar los datos recopilados por Tycho Brahe.
- E) Sirvió para validar las ideas de Tycho Brahe.

RESOLUCIÓN

La respuesta correcta de este ítem requiere de una comprensión de la información presentada en relación al desarrollo de modelos asociados al movimiento de los astros.

No está demás mencionar que fueron múltiples filósofos y/o científicos los que se deslumbraron con los movimientos y distintos eventos relacionados con los cuerpos celestes. Tal como se relata en el ítem, hubo una gran progresión en los aportes realizados para comprender y predecir el movimiento de los astros, persistiendo la necesidad de explicar y fundamentar las causas de sus respectivas trayectorias.

A partir de la obra de Copérnico, un científico llamado Johannes Kepler fue inducido a realizar su trabajo científico que derivó en las leyes que llevan su apellido, llegando a conclusiones que no eran coherentes con el modelo copernicano, pero sí con el trabajo desarrollado posteriormente por un científico que nació cerca de 13 años después de su muerte, llamado Isaac Newton, el que abordó exitosamente estos temas mediante modelos matemáticos y su Teoría de la Gravitación Universal, lo que le permitió explicar los movimientos de los astros, mediante conceptualizaciones coherentes con el modelo propuesto por Kepler en sus leyes.

Por lo tanto, en base a lo descrito, es correcto afirmar que el modelo propuesto por Kepler sirvió como apoyo a la ley de gravitación universal de Newton, dada su coherencia con ella, siendo C) la opción que da respuesta correcta al ítem.

FICHA DE REFERENCIA CURRICULAR

Eje Temático / Área Temática: Habilidades de pensamiento científico / Macrocosmos y microcosmos

Nivel: II Medio

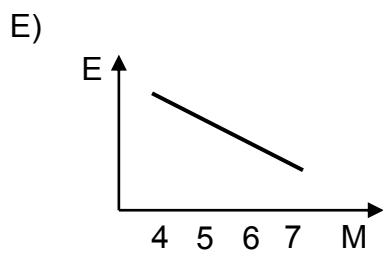
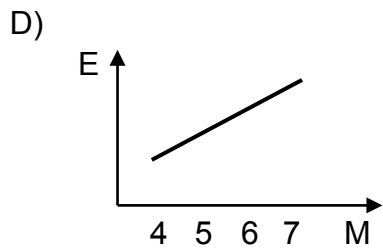
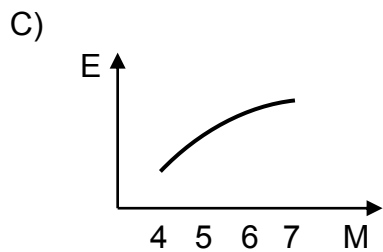
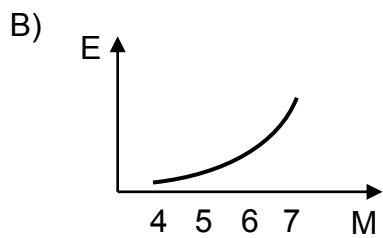
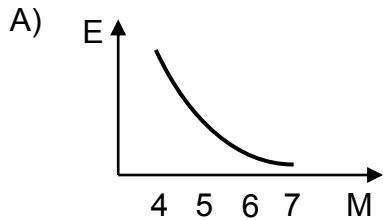
Objetivo Fundamental: Valorar el conocimiento del origen y el desarrollo histórico de conceptos y teorías, reconociendo su utilidad para comprender el quehacer científico y la construcción de conceptos nuevos más complejos.

Habilidad del Pensamiento Científico: Análisis del desarrollo de alguna teoría o concepto relacionado con los temas del nivel, con énfasis en la construcción de teorías y conceptos complejos.

Clave: C

PREGUNTA 46 (Módulo Común)

En una zona se han registrado sismos cuyas magnitudes M se encuentran entre 4 y 7 en la escala de Richter. Considerando que los ejes de los gráficos tienen una graduación lineal, ¿cuál de ellos representa mejor la energía liberada E en función de M ?



RESOLUCIÓN

Para resolver correctamente este ítem, el postulante debe analizar un gráfico para determinar cómo varía la energía liberada a medida que aumenta la magnitud sísmica en la escala de Richter.

La escala de Richter se basa en la mayor amplitud de la onda sísmica P, S u onda superficial que registra un sismógrafo, debido a que estas disminuyen su amplitud mientras se propagan.

Los sismos de mayor magnitud liberan mucho más energía que los de menor magnitud, encontrándose que por cada incremento de magnitud Richter la energía liberada aumenta 32 veces. Esto quiere decir que, por ejemplo, para un sismo de magnitud 4, que libera una energía E_0 , un sismo de magnitud 5 liberará una energía equivalente a $32E_0$, mientras que uno de magnitud 6 liberará una energía $32 \cdot 32E_0$, siendo aproximadamente 1000 veces superior y así sucesivamente, por lo que la energía liberada aumenta exponencialmente por cada aumento de magnitud en la escala Richter.

Teniendo en cuenta lo anterior y considerando que los ejes de los gráficos presentados en las opciones del ítem tienen una graduación lineal, entonces la mejor representación de cómo varía la energía liberada en función de la magnitud Richter entre las opciones presentadas corresponde a la de la opción B), siendo esta la respuesta correcta del ítem.

FICHA DE REFERENCIA CURRICULAR

Eje Temático / Área Temática: Tierra y Universo / Macrocosmos y microcosmos

Nivel: I Medio

Objetivo Fundamental: Reconocer los parámetros que se usan para determinar la actividad sísmica y las medidas que se deben tomar ante este tipo de manifestaciones geológicas.

Contenido Mínimo Obligatorio: Conocimiento de los parámetros que describen la actividad sísmica (magnitud, intensidad, epicentro, hipocentro) y de las medidas que se deben adoptar ante un movimiento telúrico.

Habilidad cognitiva: Análisis, Síntesis y Evaluación

Clave: B

PREGUNTA 47 (Módulo Técnico Profesional)

Una persona observa que una copa con agua vibra al tocar una flauta cerca de ella. A partir de esto, le comenta a una amiga “si aumenta la intensidad del sonido de la flauta, entonces aumenta la vibración de la copa”. ¿A qué corresponde el comentario entre comillas?

- A) A una hipótesis
- B) A un modelo
- C) A una ley
- D) A una teoría
- E) A un procedimiento experimental

RESOLUCIÓN

Para responder correctamente este ítem, se deben comprender a qué corresponde cierta afirmación en un determinado contexto.

Una persona observa que mientras toca una flauta cerca de una copa con agua, esta vibra. Lo anterior, permite que esta persona le plantee a una amiga una nueva condición de vibración de la copa a causa de un posible aumento de intensidad del sonido de la flauta, proponiendo una respuesta tentativa acerca del cambio que experimentaría la vibración de la copa al afirmar que esta aumentaría. Esta persona propone una relación entre dos variables medibles, que se podría comprobar mediante un experimento, pudiéndose afirmar correctamente que el comentario entre comillas en el enunciado del ítem constituye una hipótesis susceptible de ser abordada científicamente, de manera que la opción A) es correcta.

FICHA DE REFERENCIA CURRICULAR

Eje Temático / Área Temática: Habilidades de pensamiento científico / Ondas

Nivel: I Medio

Objetivo Fundamental: Describir investigaciones científicas clásicas o contemporáneas relacionadas con los conocimientos del nivel, reconociendo el papel de las teorías y el conocimiento en el desarrollo de una investigación científica.

Habilidad del Pensamiento Científico: Identificación de teorías y marcos conceptuales, problemas, hipótesis, procedimientos experimentales, inferencias y conclusiones, en investigaciones científicas clásicas o contemporáneas, en relación con los contenidos del nivel y del subsector.

Clave: A

PREGUNTA 48 (Módulo Técnico Profesional)

Dos ondas sonoras de igual frecuencia se propagan, una por un medio P a $340 \frac{\text{m}}{\text{s}}$ y la otra por un medio Q a $5000 \frac{\text{m}}{\text{s}}$. Respecto de estas ondas, es correcto afirmar que

- A) ambas tienen la misma amplitud.
- B) ambas tienen la misma intensidad.
- C) ambas tienen la misma longitud de onda.
- D) la que se propaga en Q tiene mayor intensidad.
- E) la que se propaga en Q tiene mayor longitud de onda.

RESOLUCIÓN

Este ítem requiere aplicar la expresión que permite relacionar la rapidez, frecuencia y longitud de onda, para comparar ciertas características de dos ondas sonoras que se propagan por medios distintos.

Para establecer una diferencia o igualdad entre la amplitud e intensidad de dos ondas sonoras, se requeriría conocer el valor de la amplitud o el perfil espacial y temporal de cada una de ellas, por lo que no se pueden considerar como correctas las opciones A), B) y D).

La rapidez de propagación v de una onda puede ser determinada a partir de su longitud de onda λ y su frecuencia f empleando la siguiente ecuación

$$v = \lambda f$$

Considerando que la frecuencia de ambas ondas son iguales y que a partir de esta expresión se infiere que la longitud de onda λ es directamente proporcional a la rapidez de propagación v , entonces se puede establecer que la onda sonora que se propaga en el medio Q con una rapidez de $5000 \frac{\text{m}}{\text{s}}$, tiene mayor longitud de onda

que la que tiene la onda sonora que se propaga en el medio P con $340 \frac{\text{m}}{\text{s}}$, de manera que la respuesta correcta es la opción E).

FICHA DE REFERENCIA CURRICULAR

Eje Temático / Área Temática: Materia y sus transformaciones / Ondas

Nivel: I Medio

Objetivo Fundamental: Comprender el origen, la absorción, la reflexión y la transmisión del sonido y la luz, sobre la base de conceptos físicos, leyes y relaciones matemáticas elementales.

Contenido Mínimo Obligatorio: Aplicación de la relación entre longitud de onda, frecuencia y velocidad de propagación de una onda.

Habilidad cognitiva: Aplicación

Clave: E

PREGUNTA 49 (Módulo Técnico Profesional)

Mediante la ley de Hooke es posible relacionar la fuerza elástica F ejercida por un resorte con la deformación X que experimenta. ¿Cuál de las siguientes relaciones es correcta entre ambas variables?

- A) F está en relación directa con $-\frac{1}{X^2}$.
- B) F está en relación directa con $\frac{1}{X}$.
- C) F está en relación inversa con $-X$.
- D) F está en relación directa con $-X$.
- E) F está en relación inversa con X^2 .

RESOLUCIÓN

Este ítem se responde correctamente reconociendo la relación entre las variables involucradas en la ley de Hooke.

Cuando se ejerce una fuerza sobre el extremo de un material elástico, este se deforma variando su longitud, ya sea estirándose o comprimiéndose, dependiendo del sentido de la fuerza aplicada. Este comportamiento puede describirse a través de la ley de Hooke, que relaciona la fuerza ejercida, de magnitud F_0 , con la deformación X que experimenta, mediante la siguiente ecuación

$$F_0 = k X,$$

donde k es la constante de proporcionalidad, denominada constante de elasticidad del material. De la ecuación anterior se puede interpretar que la fuerza F_0 es directamente proporcional a la deformación X del material.

Por otra parte, cuando se ejerce una fuerza F_0 sobre un resorte, este reacciona naturalmente con una fuerza elástica de restitución $F = -F_0$ que siempre es opuesta a la deformación que experimenta al variar su longitud, es decir, se dirige hacia su posición de equilibrio. Como el resorte es un material elástico, entonces se puede relacionar su fuerza elástica F con la deformación X que experimenta mediante la ley de Hooke, con lo que se cumpliría que F tiene una relación directa con $-X$, considerando que el signo negativo alude a la oposición de la fuerza elástica con respecto al desplazamiento en la deformación, siendo D) la respuesta correcta del ítem.

FICHA DE REFERENCIA CURRICULAR

Eje Temático / Área Temática: Fuerza y movimiento / Mecánica

Nivel: I Medio

Objetivo Fundamental: Comprender algunos mecanismos y leyes físicas que permiten medir fuerzas empleando las propiedades elásticas de determinados materiales.

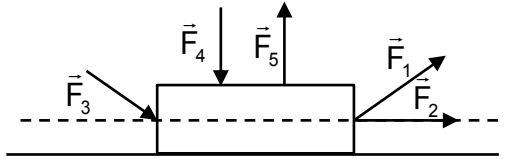
Contenido Mínimo Obligatorio: Aplicación de la ley de Hooke para explicar los fundamentos y rangos de uso del dinamómetro, e identificación de algunas de sus aplicaciones corrientes.

Habilidad cognitiva: Reconocimiento

Clave: D

PREGUNTA 50 (Módulo Técnico Profesional)

A un mismo objeto se le aplica en diferentes situaciones una fuerza de magnitud fija, la que se representa en la siguiente figura por las respectivas fuerzas \vec{F}_1 , \vec{F}_2 , \vec{F}_3 , \vec{F}_4 y \vec{F}_5 .



Si la línea segmentada es paralela a la superficie horizontal, ¿cuál fuerza, actuando por sí sola, permite que la magnitud de la fuerza normal sea igual a la magnitud del peso?

- A) \vec{F}_1
- B) \vec{F}_2
- C) \vec{F}_3
- D) \vec{F}_4
- E) \vec{F}_5

RESOLUCIÓN

Para resolver correctamente este ítem, el postulante debe comprender que la fuerza normal, que impide que el objeto penetre la superficie que lo sustenta, puede experimentar cambios en su magnitud, al aplicar al objeto una fuerza de magnitud F en una cierta dirección y sentido.

Si un objeto está apoyado sobre una superficie horizontal, en la dirección vertical actúan la fuerza peso, que corresponde a la fuerza que ejerce la Tierra sobre el objeto y la fuerza que ejerce la superficie sobre el objeto, es decir, la fuerza normal. Como en esta dirección el objeto se encuentra en reposo, la suma de las fuerzas que actúan en dicha dirección es cero.

Cuando una fuerza actúa sobre un objeto, esta puede descomponerse en la suma de dos fuerzas que son perpendiculares entre sí y que actúan a lo largo de dichas direcciones, de modo que se cumple que $\vec{F} = \vec{F}_h + \vec{F}_v$, donde \vec{F}_h corresponde a la componente horizontal de la fuerza de magnitud F y \vec{F}_v a la componente vertical de la fuerza de magnitud F , situación que se representa en el siguiente diagrama:

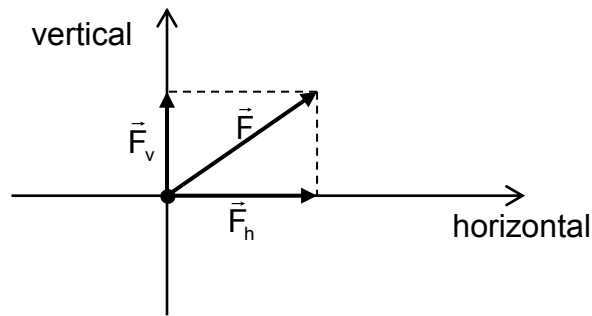


Diagrama: descomposición del vector fuerza \vec{F} en su componente vertical \vec{F}_v y horizontal \vec{F}_h .

En el ítem se observa que sobre el objeto existe una única fuerza que no tiene una componente vertical, la que corresponde a \vec{F}_2 . Por lo tanto, como bajo la acción de dicha fuerza actúa solo la fuerza normal y el peso del objeto en la dirección vertical, las magnitudes de ambas fuerzas son iguales entre sí, siendo la opción B) la respuesta correcta del ítem.

FICHA DE REFERENCIA CURRICULAR

Eje Temático / Área Temática: Fuerza y movimiento / Mecánica

Nivel: II Medio

Objetivo Fundamental: Analizar el movimiento de los cuerpos a partir de las leyes de la mecánica y de las relaciones matemáticas elementales que los describen.

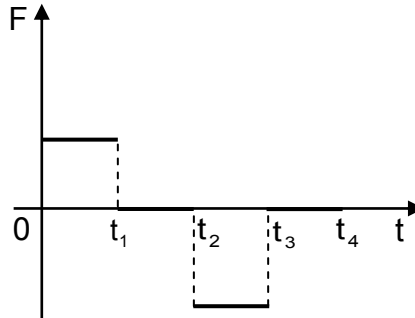
Contenido Mínimo Obligatorio: Aplicación de los principios de Newton para explicar la acción de diversas fuerzas que suelen operar sobre un objeto en situaciones de la vida cotidiana.

Habilidad cognitiva: Comprensión

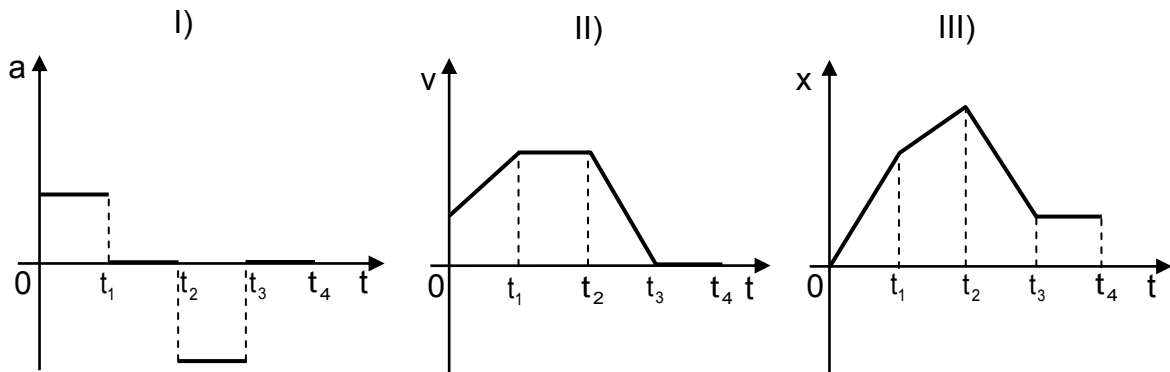
Clave: B

PREGUNTA 51 (Módulo Técnico Profesional)

A un grupo de estudiantes se le presenta el siguiente gráfico de la fuerza neta F sobre un cuerpo que describe una trayectoria rectilínea, en función del tiempo t .



A partir del gráfico anterior, el grupo de estudiantes construye los siguientes tres gráficos, de aceleración a , rapidez v y posición x del cuerpo, todos en función del tiempo t . ¿Cuál(es) de estos gráficos es (son) consistente(s) con el gráfico de la fuerza neta F en función del tiempo t ?



- A) Solo II
- B) Solo III
- C) Solo I y II
- D) Solo I y III
- E) Solo II y III

RESOLUCIÓN

Para resolver correctamente este ítem, se debe analizar la consistencia que existe entre un gráfico de la fuerza neta F en función del tiempo t con tres gráficos distintos de aceleración a , rapidez v , y posición x , todos en función del tiempo t , para un cuerpo que describe una trayectoria rectilínea.

La segunda ley de Newton establece que la fuerza neta que actúa sobre un cuerpo es directamente proporcional a la aceleración que adquiere. Esto significa que tanto la fuerza neta como la aceleración deben tener la misma dirección y sentido, distinguiéndose sus magnitudes solo por el factor de proporcionalidad correspondiente a la masa del cuerpo. Entonces, dado que la fuerza neta es constante y distinta de cero entre 0 y t_1 y entre t_2 y t_3 , la aceleración también lo es para estos intervalos, siendo ambas negativas entre t_2 y t_3 . A su vez, la fuerza neta es nula entre t_1 y t_2 y entre t_3 y t_4 , por lo que su aceleración también es nula en estos intervalos. En consecuencia, el gráfico de aceleración en función del tiempo que se presenta en I) es totalmente consistente con el gráfico de la fuerza neta en función del tiempo propuesto en el ítem.

El gráfico de rapidez en función del tiempo presentado en II), muestra que entre 0 y t_1 la rapidez del cuerpo aumenta uniformemente en el tiempo, es decir, se mueve con aceleración constante mayor que cero, por lo que en este intervalo de tiempo actúa una fuerza neta constante mayor que cero. Entre t_1 y t_2 , la rapidez del cuerpo es constante, siendo nula la fuerza neta que actúa sobre él. A su vez, entre t_2 y t_3 , la rapidez disminuye uniformemente en el tiempo, es decir, se mueve con aceleración constante y negativa, por lo que la fuerza neta también lo es. Finalmente, entre t_3 y t_4 , la rapidez del cuerpo es cero, de modo que su aceleración y la fuerza neta que actúa sobre el cuerpo deben ser nulas en dicho intervalo de tiempo. De todo lo anterior, se concluye que el gráfico propuesto en II) es consistente con el correspondiente al de la fuerza neta en función del tiempo.

El gráfico propuesto en III), para los intervalos de tiempo antes descritos, muestra rectas con distintas pendientes, que serían consistentes con un gráfico de rapidez en función del tiempo en el que las pendientes fuesen nulas, o sea rectas paralelas con el eje del tiempo, lo que se cumple solo entre t_1 y t_2 y entre t_3 y t_4 , siendo solamente estos intervalos consistentes con el gráfico de la fuerza neta en función del tiempo.

A raíz de todo explicado anteriormente, entonces solo los gráficos presentados en I) y II) son consistentes con el de la fuerza neta en función del tiempo, de manera que la respuesta correcta del ítem corresponde a la opción C).

FICHA DE REFERENCIA CURRICULAR

Eje Temático / Área Temática: Fuerza y movimiento / Mecánica

Nivel: II Medio

Objetivo Fundamental: Analizar el movimiento de los cuerpos a partir de las leyes de la mecánica y de las relaciones matemáticas elementales que los describen.

Contenido Mínimo Obligatorio: Aplicación de los principios de Newton para explicar la acción de diversas fuerzas que suelen operar sobre un objeto en situaciones de la vida cotidiana.

Habilidad cognitiva: Análisis, Síntesis y Evaluación

Clave: C

PREGUNTA 52 (Módulo Técnico Profesional)

Es común que al dejar una botella cerrada con agua en un lugar donde reciba luz solar, se observe, transcurrido un día o dos, la formación de pequeñas gotitas de agua en la parte desocupada de la botella. Esto se debe

- A) a la ebullición del agua en el interior de la botella.
- B) a la sublimación del agua en las paredes de la botella.
- C) al paso de gotitas de agua líquida desde el ambiente hacia el interior de la botella.
- D) al paso de agua en forma de gas desde el exterior a través de los poros de la botella.
- E) a la evaporación y posterior condensación de parte del agua que contiene la botella.

RESOLUCIÓN

En este ítem se requiere comprender ciertos cambios de fase que ocurren en una situación dada.

Cuando un vaso con agua se deja expuesto durante un tiempo en un ambiente en condiciones normales, por ejemplo un día o más, se puede observar que la cantidad de agua contenida en el vaso disminuye debido a que parte del agua en su superficie experimenta un cambio de fase desde la fase líquida a la gaseosa, proceso que se conoce como evaporación. Esto también ocurre con el agua que se encuentra contenida en el interior de una botella cerrada.

Al evaporarse el agua dentro de la botella cerrada, el vapor de agua se distribuye en la parte desocupada de la botella, chocando con sus paredes internas que se encuentran a menor temperatura. Esto causa la formación de pequeñas gotitas de agua en dicha zona, ya que el vapor de agua se condensa en sus paredes internas, pasando desde su fase gaseosa a su fase líquida.

Por lo tanto, la respuesta correcta del ítem corresponde a la opción E).

FICHA DE REFERENCIA CURRICULAR

Eje Temático / Área Temática: Materia y sus transformaciones / Energía

Nivel: II Medio

Objetivo Fundamental: Explicar diversos fenómenos en que participa el calor, su relación con la temperatura, su medición y su interpretación cualitativa, en términos del modelo cinético de la materia.

Contenido Mínimo Obligatorio: Interpretación cualitativa de la relación entre temperatura y calor en términos del modelo cinético de la materia.

Habilidad cognitiva: Comprensión

Clave: E

PREGUNTA 53 (Módulo Técnico Profesional)

Un objeto esférico es trasladado en un ambiente cerrado, en cinco ocasiones, desde el punto M al punto S, con la misma rapidez constante y bajo la acción de la aceleración de gravedad \vec{g} .



Si se considera que las condiciones en las cinco ocasiones son las mismas y que en ellas existe roce entre el objeto y el aire, ¿en cuál de las siguientes trayectorias se disipa una menor cantidad de energía?

- A)

A dashed curved path starting at point M and ending at point S, curving upwards. A downward arrow labeled \vec{g} is to the right.
- B)

A dashed curved path starting at point M and ending at point S, curving downwards. A downward arrow labeled \vec{g} is to the right.
- C)

A straight dashed line connecting point M and point S. A downward arrow labeled \vec{g} is to the right.
- D)

A dashed path starting at point M, moving vertically upwards, then horizontally to the right to point S. A downward arrow labeled \vec{g} is to the right.
- E)

A dashed path starting at point M, moving horizontally to the right, then vertically up, then horizontally to the right, then vertically up, and finally horizontally to the right to point S. A downward arrow labeled \vec{g} is to the right.

RESOLUCIÓN

Para responder correctamente este ítem, se requiere analizar distintas trayectorias recorridas por un objeto esférico entre dos puntos, para determinar en cuál de ellas se disipa una menor cantidad de energía.

Cuando un cuerpo se traslada desde una posición a otra estando sometido a fuerzas no conservativas, el trabajo asociado a estas fuerzas es negativo, ya que actúan en sentido opuesto al desplazamiento del objeto en cada instante durante su recorrido. Este trabajo se disipa en forma de calor y/u ondas sonoras, entre otras formas de disipación dada su interacción con el medio circundante.

El enunciado del ítem presenta un objeto esférico que se traslada con rapidez constante desde un punto M al punto S en cinco oportunidades, recorriendo diferentes trayectorias. El trabajo realizado por la fuerza de roce con el aire depende de la distancia recorrida en cada trayectoria, de modo tal que dicho trabajo es mayor mientras mayor es la distancia recorrida por el objeto, y por ende, mayor también la energía disipada. Por consiguiente, se puede concluir que la energía disipada es menor en la trayectoria que implica una menor distancia recorrida.

Para los cinco casos planteados, se ha de tener presente que el trabajo realizado por la fuerza de atracción gravitatoria que experimenta el objeto es el mismo debido a que el desplazamiento vertical de este es igual en cada traslado. Además, esta fuerza es conservativa y no implica disipación de energía.

Por lo tanto, como en los cinco casos el desplazamiento del objeto esférico es el mismo entre los puntos M y S, independientemente de la forma que posea la trayectoria del objeto, entonces se disipa una menor cantidad de energía en aquella que tenga la menor longitud entre ellas, siendo el caso presentado en la opción C) la respuesta correcta del ítem.

FICHA DE REFERENCIA CURRICULAR

Eje Temático / Área Temática: Fuerza y movimiento / Energía

Nivel: II Medio

Objetivo Fundamental: Analizar el movimiento de los cuerpos a partir de las leyes de la mecánica y de las relaciones matemáticas elementales que los describen.

Contenido Mínimo Obligatorio: Aplicación de las nociones cuantitativas de trabajo, energía y potencia mecánica para describir actividades de la vida cotidiana.

Habilidad cognitiva: Análisis, Síntesis y Evaluación

Clave: C

PREGUNTA 54 (Módulo Técnico Profesional)

En el modelo estático, las capas que conforman la Tierra desde la superficie al centro son: corteza, manto y núcleo. Al respecto, es correcto afirmar que las capas, de acuerdo al orden mencionado, están ordenadas

- A) de mayor a menor temperatura.
- B) de mayor a menor espesor.
- C) de mayor a menor masa.
- D) de menor a mayor densidad.
- E) de menor a mayor rigidez.

RESOLUCIÓN

En este ítem se deben reconocer ciertas características de la Tierra según el modelo estático.

La Tierra tiene diferentes composiciones conforme varía su profundidad, de modo que para facilitar su estudio se puede distribuir en capas, las que tienen características propias que las diferencian entre sí.

En este sentido, el modelo estático estudia las capas de la Tierra en función de su composición química, estableciendo tres capas denominadas corteza, manto y núcleo. Los materiales más densos, como el hierro y níquel, se concentran en mayor proporción en el centro de la Tierra, mientras que los menos densos se distribuyen en la corteza del planeta.

Por lo tanto, la opción D) corresponde a la respuesta correcta del ítem, pues la densidad aumenta desde la corteza hacia el núcleo terrestre.

FICHA DE REFERENCIA CURRICULAR

Eje Temático / Área Temática: Tierra y Universo / Macrocosmos y microcosmos

Nivel: I Medio

Objetivo Fundamental: Comprender el origen, la dinámica y los efectos de sismos y erupciones volcánicas en términos del movimiento de placas tectónicas y de la propagación de energía.

Contenido Mínimo Obligatorio: Caracterización básica del origen, la dinámica y los efectos de la actividad sísmica y volcánica en términos de la tectónica de placas y de la propagación de energía.

Habilidad cognitiva: Reconocimiento

Clave: D

PREGUNTA 55 (Módulo Común)

En la configuración electrónica $1s^2 2s^2 2p^6 3s^2 3p_x^1 3p_y^1 3p_z^0$ se cumple(n) el (los) principio(s) de

- I) mínima energía.
- II) exclusión de Pauli.
- III) máxima multiplicidad de Hund.

Es (son) correcta(s)

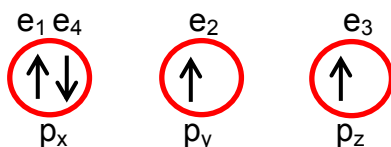
- A) solo I.
- B) solo II.
- C) solo III.
- D) solo I y III.
- E) I, II y III.

RESOLUCIÓN

Para responder este ítem correctamente el postulante debe recordar y comprender el principio de Aufbau o principio de construcción, el cual presenta las reglas en que se basa la distribución de los electrones en los diferentes orbitales en un átomo.

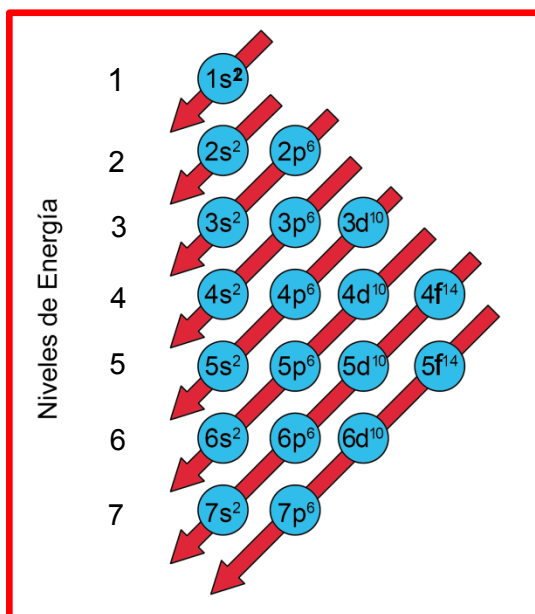
Las reglas o principios de llenado de orbitales son tres:

1. Principio de exclusión de Pauli: establece que dos electrones de un mismo átomo no pueden tener el mismo conjunto de números cuánticos.
2. Principio de máxima multiplicidad de Hund: cuando los electrones ingresan a un mismo orbital, estos se ubican desapareados hasta completar todas las orientaciones espaciales del orbital, para luego formar parejas de acuerdo al principio de exclusión. Por ejemplo, los orbitales p son tres (p_x , p_y , p_z) al ingresar 4 electrones (e_1 , e_2 , e_3 y e_4), su distribución correcta será:



3. Principio de mínima energía: los electrones van ocupando primero los orbitales de más baja energía y progresivamente van completando los de mayor energía, siguiendo los principios de exclusión y de máxima multiplicidad. El siguiente diagrama ordena los orbitales en los distintos niveles de energía y es útil para escribir la configuración electrónica.

Orden de ubicación de los orbitales (Regla de Madelung)



El uso correcto de este diagrama implica que, cada vez que una flecha termina se debe partir con la siguiente, llenando con electrones los orbitales de acuerdo a los principios anteriores. Además, se muestra en el diagrama, el superíndice el que corresponde al máximo de electrones por orbital.

Recordando que el número máximo de electrones por orbital es 2, de acuerdo al principio de exclusión, en la siguiente tabla se resume el tipo de orbital con su respectivo número de orientaciones espaciales y el número de electrones asociado a este:

Orbital	Número de orientaciones espaciales	Número de electrones por orbital
s	1	2
p	3	6
d	5	10
f	7	14

En resumen:

Nivel	Tipo(s) de orbital(es)	Máximo de electrones
1	s	2
2	s, p	2 + 6 = 8
3	s, p, d	2 + 6 + 10 = 18
4	s, p, d, f	2 + 6 + 10 + 14 = 32
5	s, p, d, f	2 + 6 + 10 + 14 = 32

En el caso de la configuración presentada en el enunciado, es posible determinar que el total de electrones es 14, por lo que, al utilizar el diagrama y los principios de llenado de orbitales, se obtendrá la configuración: $1s^2 2s^2 2p^6 3s^2 3p_x^1 3p_y^1 3p_z^0$, igual a la presentada en el enunciado, esto significa que en su escritura se cumple con los tres principios, por lo que la respuesta correcta es E).

FICHA DE REFERENCIA CURRICULAR

Eje Temático / Área Temática: Materia y sus transformaciones / Estructura atómica

Nivel: I Medio

Objetivo Fundamental: Comprender el comportamiento de los electrones en el átomo sobre la base de principios (nociones) del modelo mecano-cuántico.

Contenido Mínimo Obligatorio: Descripción básica de la cuantización de la energía, organización y comportamiento de los electrones del átomo, utilizando los cuatro números cuánticos (principal, secundario, magnético y spin).

Habilidad Cognitiva: Compresión

Clave: E

PREGUNTA 56 (Módulo Común)

Un alambre de nicrom limpio se unta en una pequeña muestra de LiCl para someterlo directamente a la llama del mechero por 10 segundos, aproximadamente. Este procedimiento se repite con BaCl₂, NaCl y KCl, obteniéndose las siguientes coloraciones de la llama:

Sal	Coloración de la llama
Cloruro de litio (LiCl)	Carmín
Cloruro de bario (BaCl ₂)	Verde
Cloruro de sodio (NaCl)	Amarillo
Cloruro de potasio (KCl)	Violeta

Respecto a los resultados obtenidos, ¿cuál de las siguientes opciones es una conclusión correcta?

- A) La coloración emitida depende del alambre que se utilice.
- B) La coloración resultante depende del tipo de sal utilizada.
- C) La masa que se utiliza de cada sal es determinante para evidenciar la coloración de la llama.
- D) El tiempo de exposición determina la coloración de la llama.
- E) Una muestra de NaF expuesta a la llama produce una coloración verde.

RESOLUCIÓN

Para responder este ítem, el postulante debe organizar y procesar la información presentada en el enunciado, con el fin de encontrar cuál de las opciones corresponde a una conclusión correcta para el procedimiento experimental planteado. De acuerdo al enunciado, la masa de sal utilizada, el tipo de alambre y el tiempo de exposición no influyen en el color que se origina cuando se expone la sal en el alambre de nicrom, a la llama del mechero, por lo que, lo único que es posible concluir es que el color de la llama está determinado por el tipo de sal utilizado, ya que este es distinto para cada caso. De acuerdo a lo anterior, la opción correcta es B).

FICHA DE REFERENCIA CURRICULAR

Eje Temático / Área Temática: Habilidades del pensamiento científico / Estructura atómica

Nivel: I Medio

Objetivo Fundamental: Organizar e interpretar datos, y formular explicaciones, apoyándose en las teorías y conceptos científicos en estudio.

Habilidad del Pensamiento Científico: Procesamiento e interpretación de datos y formulación de explicaciones, apoyándose en los conceptos y modelos teóricos del nivel.

Clave: B

PREGUNTA 57 (Módulo Común)

Al comparar los valores de algunas propiedades periódicas de litio y flúor se puede afirmar que

- I) el radio atómico del litio es mayor que el radio atómico del flúor.
- II) el radio iónico del litio es menor que el radio iónico del flúor.
- III) la energía de ionización del litio es mayor que la energía de ionización del flúor.

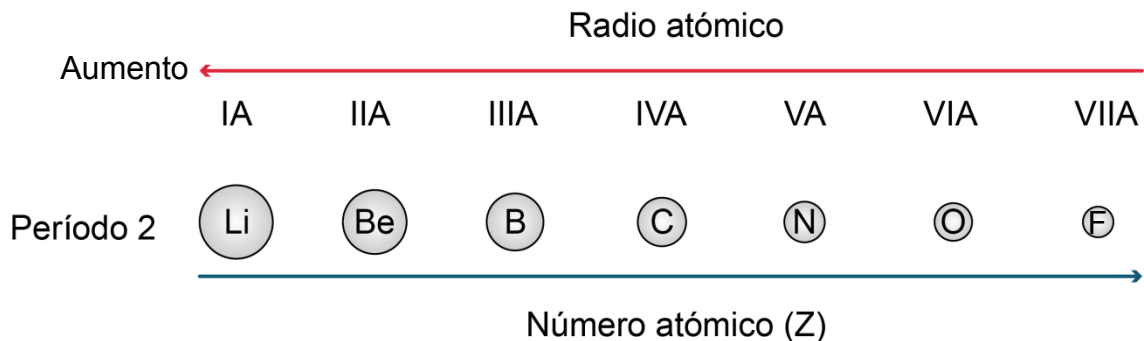
Es (son) correcta(s)

- A) solo I.
- B) solo II.
- C) solo III.
- D) solo I y II.
- E) I, II y III.

RESOLUCIÓN

Para responder este ítem el postulante debe comprender la tendencia del radio atómico, del radio iónico y de la energía de ionización, para relacionarla con los átomos de litio y de flúor.

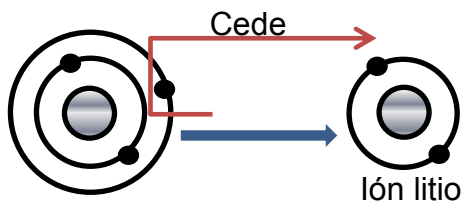
En un período, el radio atómico disminuye con el aumento del número atómico (Z) en el sistema periódico, tal como se muestra a continuación:



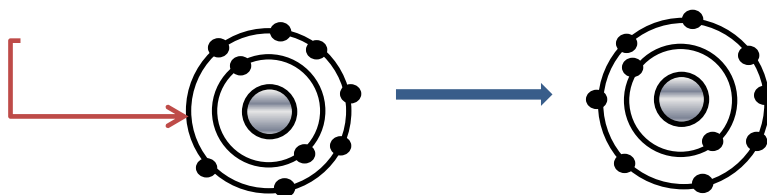
Como se puede inferir, según la tendencia del radio atómico, el litio ($Z = 3$) presenta mayor radio atómico que el flúor ($Z = 9$), siendo la afirmación I) correcta.

Respecto de la afirmación II), si bien existe una tendencia general de radios iónicos que es coincidente con la de radios atómicos, no se puede describir una tendencia general para cationes y aniones simultáneamente, por separado siguen la misma tendencia que el radio atómico, pero entre ellos la tendencia parece ser contraria. En el caso específico del Li y del F, pasa lo siguiente:

El Li tiene $Z = 3$, por lo que en estado neutro tiene 3 electrones y tiende a ceder uno para adquirir la configuración del gas noble más cercano, quedando con dos electrones y un solo nivel de energía, tal como se muestra a continuación:



En el caso del flúor, sus átomos tienden a ganar electrones transformándose en un ion negativo, F^- :



Al comparar esquemáticamente los iones formados, se observa claramente que el F^- tiene mayor tamaño que Li^+ , por lo que la afirmación II) es correcta.

En cuanto a la afirmación III), esta es incorrecta ya que la tendencia de la energía de ionización aumenta conforme aumenta el número atómico (Z), en el sistema periódico, siendo en este caso, mayor para el átomo de flúor que para el átomo de litio.

De acuerdo a lo anterior, la opción correcta es D), solo I y II).

FICHA DE REFERENCIA CURRICULAR

Eje Temático / Área Temática: Materia y sus transformaciones / Estructura atómica

Nivel: I Medio

Objetivo Fundamental: Relacionar la estructura electrónica de los átomos con su ordenamiento en la tabla periódica, sus propiedades físicas y químicas y su capacidad de interacción con otros átomos.

Contenido Mínimo Obligatorio: Descripción de la configuración electrónica de diversos átomos para explicar sus diferentes ubicaciones en la tabla periódica, su radio atómico, su energía de ionización, su electroafinidad y su electronegatividad.

Habilidad Cognitiva: Comprensión

Clave: D

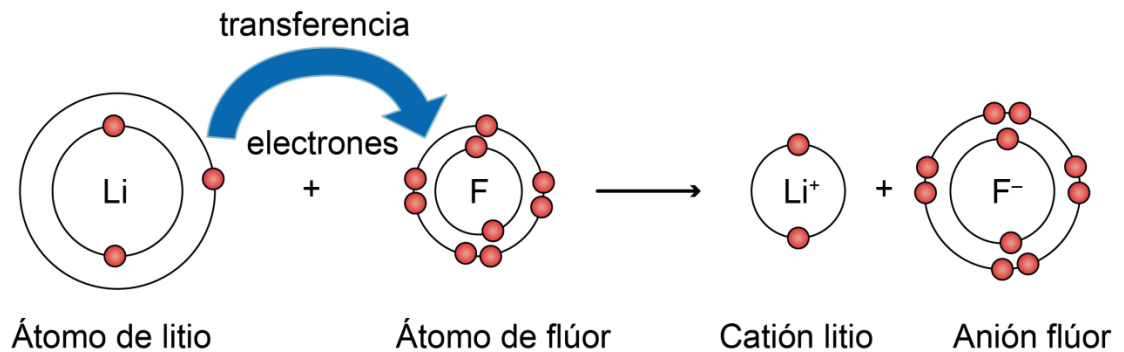
PREGUNTA 58 (Módulo Común)

El enlace formado entre un átomo metálico de baja electronegatividad y un átomo no metálico de alta electronegatividad, en el sistema periódico, se clasifica como

- A) iónico.
- B) metálico.
- C) covalente.
- D) coordinado.
- E) covalente polar.

RESOLUCIÓN

Para responder este ítem el postulante debe recordar la definición de enlace iónico. Un enlace iónico se produce entre átomos metálicos de baja electronegatividad que tienen la capacidad de formar iones positivos, llamados cationes; con átomos no metálicos de alta electronegatividad que tienen la capacidad de formar iones negativos, llamados aniones, tal como se muestra a continuación:



Por lo que, cuando se une un catión con un anión, se producen fuerzas electrostáticas opuestas que mantienen unidos a los átomos.

De acuerdo a lo anterior, la opción correcta es A).

FICHA DE REFERENCIA CURRICULAR

Eje Temático / Área Temática: Materia y sus transformaciones / Estructura atómica

Nivel: I Medio

Objetivo Fundamental: Relacionar la estructura electrónica de los átomos con su ordenamiento en la tabla periódica, sus propiedades físicas y químicas y su capacidad de interacción con otros átomos.

Contenido Mínimo Obligatorio: Explicación del comportamiento de los átomos y moléculas al unirse por enlaces iónicos, covalentes y de coordinación para formar compuestos comunes como los producidos en la industria y en la minería, y los que son importantes en la composición de los seres vivos.

Habilidad Cognitiva: Reconocimiento

Clave: A

PREGUNTA 59 (Módulo Común)

¿Cuál de los siguientes compuestos presenta un mayor número de pares de electrones no compartidos?

- A) HCN
- B) H₂O
- C) NH₃
- D) CO
- E) CO₂

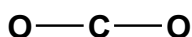
RESOLUCIÓN

Para responder este ítem el postulante debe aplicar las reglas que permiten escribir la estructura de Lewis del CO₂, que corresponde a una notación en la que se representan los electrones del último nivel de energía de un átomo. Estos electrones corresponden a los electrones de valencia y se representan por puntos alrededor del elemento, pudiendo estar apareados o no.

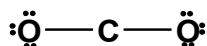
Para determinar la estructura de Lewis del CO₂ se debe considerar que este presenta un total de 16 electrones de valencia, 4 del átomo de carbono y 6 por cada átomo de oxígeno, según el grupo al cual pertenecen:

Grupo 14 (IV A)	Grupo 16 (VI A)	
Electrones de valencia del carbono	Electrones de valencia del oxígeno	Total de electrones valencia en el CO ₂
4 electrones	6 electrones × 2 = 12	16 electrones

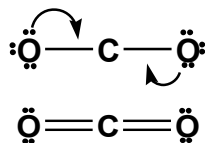
Luego se debe escribir la estructura de Lewis del CO₂ procurando, en este caso, que cada átomo quede rodeado de 8 electrones (regla del octeto) y dejando como átomo central, el átomo menos electronegativo:



Considerando que en la estructura anterior hay 2 enlaces (–), los que corresponden a 4 electrones de valencia, restan 12 electrones para reubicar en el CO₂, los cuales se asignan a los átomos más externos:



Para que el átomo de carbono complete el octeto, se deberán formar enlaces dobles entre el átomo de carbono y el átomo de oxígeno:



De acuerdo a lo establecido anteriormente, el HCN presenta un par de electrones no compartido, el H₂O presenta dos pares de electrones no compartidos, el NH₃ presenta un par de electrones no compartido y el CO presenta dos pares de electrones no compartidos.

Por lo que, el CO₂ es el compuesto que presenta el mayor número de pares de electrones no compartidos (4 pares), siendo E) la opción correcta.

FICHA DE REFERENCIA CURRICULAR

Eje Temático / Área Temática: Materia y sus transformaciones / Estructura atómica

Nivel: I Medio

Objetivo Fundamental: Relacionar la estructura electrónica de los átomos con su ordenamiento en la tabla periódica, sus propiedades físicas y químicas y su capacidad de interacción con otros átomos.

Contenido Mínimo Obligatorio: Explicación del comportamiento de los átomos y moléculas al unirse por enlaces iónicos, covalentes y de coordinación para formar compuestos comunes como los producidos en la industria y en la minería, y los que son importantes en la composición de los seres vivos.

Habilidad Cognitiva: Aplicación

Clave: E

PREGUNTA 60 (Módulo Común)

¿Cuál de las siguientes representaciones de una función orgánica está clasificada **INCORRECTAMENTE**?

A) $R-OH$ alcohol

B) $\begin{array}{c} O \\ || \\ R-C-R \end{array}$ cetona

C) $\begin{array}{c} O \\ || \\ R-C-H \end{array}$ aldehído

D) $R-NH_2$ amina

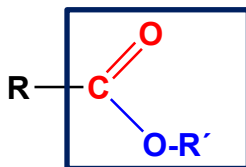
E) $R-O-R$ éster

RESOLUCIÓN

Para responder este ítem el postulante debe comprender cuál de las funciones orgánicas presentadas en las opciones está incorrectamente clasificada, para ello debe recordar y relacionar la función orgánica con su representación, tal como se muestra a continuación:

Función orgánica	Representación
Alcohol	$R-OH$
Cetona	$R-CO-R$
Aldehído	$R-CHO$
Amina	$R-NH_2$
Éster	$R-COO-R$
Éter	$R-O-R$

De acuerdo a lo anterior, la representación que no se encuentra correctamente clasificada, corresponde a la función éster, la cual se representa por:



Siendo en este caso E) la opción que se encuentra incorrectamente clasificada, pues corresponde a un éter: R–O–R.

FICHA DE REFERENCIA CURRICULAR

Eje Temático / Área Temática: Materia y sus transformaciones / Química orgánica
Nivel: II Medio

Objetivo Fundamental: Comprender que la formación de los compuestos orgánicos y de sus grupos funcionales se debe a las propiedades del átomo de carbono para unirse entre sí y con otros átomos, en organismos vivos, en la producción industrial y aplicaciones tecnológicas.

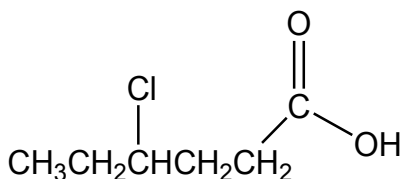
Contenido Mínimo Obligatorio: Descripción de la importancia de los grupos funcionales en las propiedades de algunos compuestos orgánicos que son claves en los seres vivos y relevantes en la elaboración de productos industriales.

Habilidad Cognitiva: Comprensión

Clave: E

PREGUNTA 61 (Módulo Común)

La siguiente estructura representa un compuesto orgánico:



Al respecto, y de acuerdo con la nomenclatura IUPAC, ¿qué nombre recibe esta estructura?

- A) 3-clorohexanal
- B) Ácido 3-clorohexanoico
- C) Ácido 4-clorohexanoico
- D) Ácido 4-cloropentanoico
- E) 3-cloro-1-hidroxipentanona

RESOLUCIÓN

Para responder este ítem el postulante debe recordar y aplicar las reglas de la IUPAC, International Union of Pure and Applied Chemistry (Unión Internacional de Química Pura y Aplicada), comité formado por miembros de las sociedades nacionales de químicos, que se encarga de normar la denominación de los compuestos químicos.

Las reglas generales de nomenclatura IUPAC, para los compuestos orgánicos son:

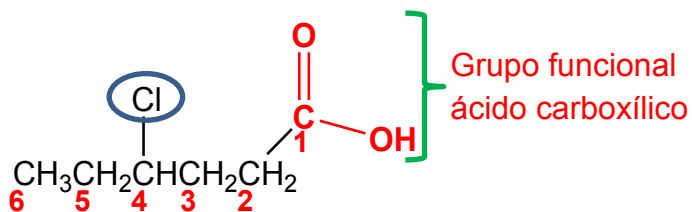
1. Seleccionar la cadena de átomos de carbono sucesivos más larga de la molécula (cadena principal). Si hay dos o más cadenas se debe elegir la que tiene mayor cantidad de sustituyentes y si hay grupos funcionales elegir aquella que los contenga.
2. Numerar la cadena principal de tal forma que los sustituyentes se ubiquen en el menor número. Si existe un grupo funcional el carbono 1 corresponde al carbono de dicho grupo o próximo a él.
3. Anotar el nombre de los sustituyentes colocando el número del átomo de carbono donde se encuentran seguido de un guión y el nombre con terminación **il**. Si hay más de un sustituyente del mismo tipo se debe anteponer el prefijo correspondiente: di, tri, tetra, penta, etc, según la cantidad de estos. Los sustituyentes se deben nombrar según orden alfabético, sin considerar los prefijos anteriores. Los sustituyentes halogenados, se nombran con el nombre del elemento, según orden alfabético.

4. Nombrar la cadena principal de acuerdo al número de átomos de carbono con la terminación que corresponda: **ano** si es un **alcano**, **eno** si es un **alqueno** o **ino** si es un **alquino**. Si existen grupos funcionales se seguirán reglas específicas para nombrarlos.

Algunos prefijos de acuerdo al número de átomos de carbono, se muestran en la siguiente tabla:

N° de átomos de carbono	Prefijo	N° de átomos de carbono	Prefijo	N° de átomos de carbono	Prefijo
1	met	8	oct	15	pentadec
2	et	9	non	16	hexadec
3	prop	10	dec	17	heptadec
4	but	11	undec	18	octadec
5	pent	12	dodec	19	nonadec
6	hex	13	tridec	20	eicos
7	hept	14	tetradec	21	heneicos

En la molécula dada, existe un grupo funcional ácido carboxílico, por lo que este carbono será el 1, desde ahí se numera el resto de los átomos de carbono. Además, existe un único sustituyente que es el cloro (Cl) en el carbono 4.



En el caso de los ácidos carboxílicos la regla dice que primero se nombra la palabra **ácido**, luego el prefijo de la cadena de átomos de carbono más larga de la molécula que incluya al átomo de carbono de la función ácido, para terminar con el sufijo **oico**.

En este caso el nombre del compuesto es: ácido 4-clorohexanoico, siendo la opción correcta C).

FICHA DE REFERENCIA CURRICULAR

Eje Temático / Área Temática: Materia y sus transformaciones / Química orgánica

Nivel: II Medio

Objetivo Fundamental: Comprender que la formación de los compuestos orgánicos y de sus grupos funcionales se debe a las propiedades del átomo de carbono para unirse entre sí y con otros átomos, en organismos vivos, en la producción industrial y aplicaciones tecnológicas.

Contenido Mínimo Obligatorio: Descripción de la importancia de los grupos funcionales en las propiedades de algunos compuestos orgánicos que son claves en los seres vivos y relevantes en la elaboración de productos industriales.

Habilidad Cognitiva: Aplicación

Clave: C

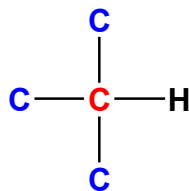
PREGUNTA 62 (Módulo Común)

¿Cuál de las siguientes moléculas presenta un carbono terciario?

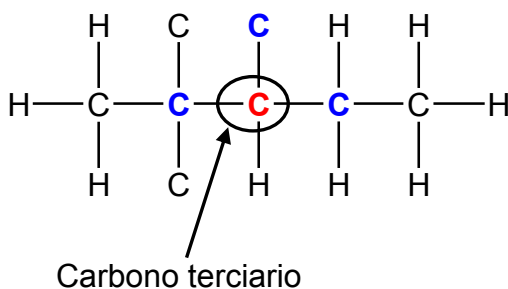
- A) Heptano
- B) Undecano
- C) 3,3-dimetilhexano
- D) 2,2,3-trimetilpentano
- E) 2,2,4,4-tetrametilpentano

RESOLUCIÓN

Para responder este ítem el postulante debe recordar que un carbono terciario, es aquel que está unido a tres átomos de carbono, tal como se muestra a continuación:



Luego, debe desarrollar las estructuras de las moléculas presentadas en las opciones, analizando y evaluando cada una de ellas, con el fin de determinar cuál presenta un carbono terciario en su estructura. Una vez desarrolladas las estructuras se determina que la única estructura que presenta un carbono terciario es el 2,2,3-trimetilpentano, tal como se muestra en la siguiente figura:



De acuerdo a lo anterior, la opción correcta es D).

FICHA DE REFERENCIA CURRICULAR

Eje Temático / Área Temática: Materia y sus transformaciones / Química orgánica

Nivel: II Medio

Objetivo Fundamental: Comprender que la formación de los compuestos orgánicos y de sus grupos funcionales se debe a las propiedades del átomo de carbono para unirse entre sí y con otros átomos, en organismos vivos, en la producción industrial y aplicaciones tecnológicas.

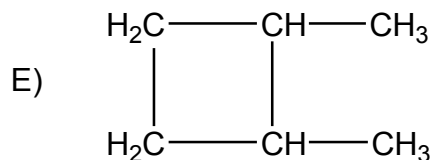
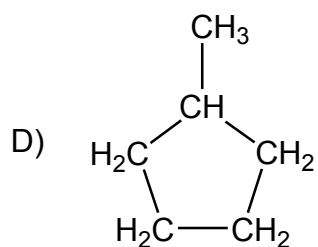
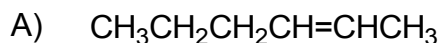
Contenido Mínimo Obligatorio: Descripción de la importancia de los grupos funcionales en las propiedades de algunos compuestos orgánicos que son claves en los seres vivos y relevantes en la elaboración de productos industriales.

Habilidad Cognitiva: Análisis, Síntesis y Evaluación

Clave: D

PREGUNTA 63 (Módulo Común)

¿Cuál de las siguientes moléculas **NO** es isómero del $\text{CH}_3\text{CH}=\text{CHCH}_2\text{CH}_2\text{CH}_3$?



RESOLUCIÓN

Para responder este ítem el postulante debe comprender el concepto de isómero y relacionarlo con las estructuras presentadas en las opciones. Un isómero, hace referencia a la propiedad que tienen algunos compuestos de presentar igual fórmula molecular, pero diferente fórmula estructural. De acuerdo a lo anterior, los compuestos presentados en las opciones tienen 6 átomos de carbono y 12 átomos de hidrógeno, por lo que, todos tienen fórmula molecular C_6H_{12} . Sin embargo, al comparar las fórmulas estructurales de los compuestos presentados en las opciones con la fórmula estructural presentada en el enunciado, el postulante se dará cuenta de que la molécula presentada en A) es la misma que la del enunciado solo queda invertida, por lo que no corresponde a un isómero de esta, siendo A) la respuesta correcta.

FICHA DE REFERENCIA CURRICULAR

Eje Temático / Área Temática: Materia y sus transformaciones / Química orgánica

Nivel: II Medio

Objetivo Fundamental: Comprender que la formación de los compuestos orgánicos y de sus grupos funcionales se debe a las propiedades del átomo de carbono para unirse entre sí y con otros átomos, en organismos vivos, en la producción industrial y aplicaciones tecnológicas.

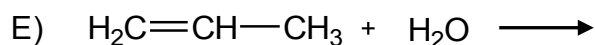
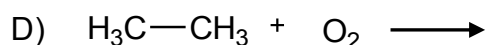
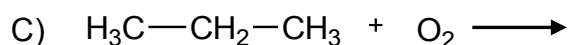
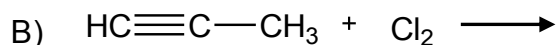
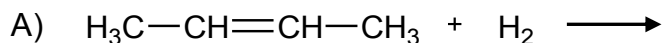
Contenido Mínimo Obligatorio: Representación de diversas moléculas orgánicas con grupos funcionales considerando su estereoquímica e isomería, en los casos que corresponda.

Habilidad Cognitiva: Comprensión

Clave: A

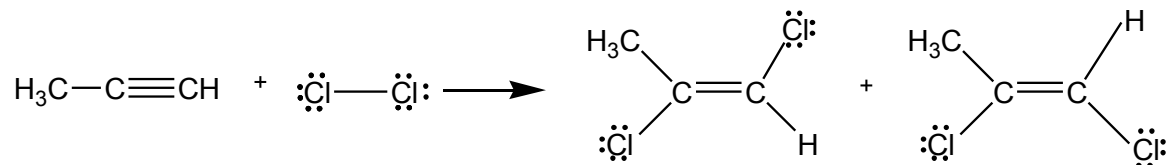
PREGUNTA 64 (Módulo Común)

¿Cuál de las siguientes opciones corresponde a una reacción en la cual el producto es un alqueno?



RESOLUCIÓN

Para responder este ítem el postulante debe comprender que un alqueno es un compuesto que presenta un doble enlace, el cual se puede formar a partir de diferentes compuestos orgánicos. Uno de ellos corresponde a los alquinos, los cuales al reaccionar por adición pueden romper uno de sus enlaces transformándose en un alqueno. En este caso, solo en la reacción presentada en B) se puede formar un alqueno, producto de la adición de 1 mol de cloro gaseoso al triple enlace para formar un 1,2-dicloropropeno, presentándose una mezcla de productos. La reacción se presenta a continuación:



De acuerdo a lo anterior, la respuesta correcta es B).

FICHA DE REFERENCIA CURRICULAR

Eje Temático / Área Temática: Materia y sus transformaciones / Química orgánica

Nivel: II Medio

Objetivo Fundamental: Comprender que la formación de los compuestos orgánicos y de sus grupos funcionales se debe a las propiedades del átomo de carbono para unirse entre sí y con otros átomos, en organismos vivos, en la producción industrial y aplicaciones tecnológicas.

Contenido Mínimo Obligatorio: Representación de diversas moléculas orgánicas con grupos funcionales considerando su estereoquímica e isomería, en los casos que corresponda.

Habilidad Cognitiva: Comprensión

Clave: B

FICHA DE REFERENCIA CURRICULAR

Eje Temático / Área Temática: Materia y sus transformaciones / Reacciones químicas y estequiometría

Nivel: I Medio

Objetivo Fundamental: Aplicar las leyes de la combinación química a reacciones químicas que explican la formación de compuestos comunes relevantes para la nutrición de seres vivos, la industria, la minería, entre otros.


Contenido Mínimo Obligatorio: Descripción cuantitativa, por medio de la aplicación de las leyes ponderales, de la manera en que se combinan dos o más elementos para explicar la formación de compuestos.

Habilidad Cognitiva: Comprensión

Clave: D

PREGUNTA 66 (Módulo Común)

Si 1,0 mol del elemento X reacciona completamente con agua, se producen 1,0 g de H₂ y 31,0 g del óxido X₂O, de acuerdo con la siguiente ecuación:



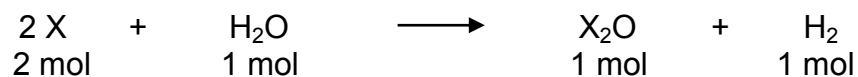
Al respecto, ¿cuál es la masa molar del elemento X?

- A) $7 \frac{\text{g}}{\text{mol}}$
- B) $14 \frac{\text{g}}{\text{mol}}$
- C) $16 \frac{\text{g}}{\text{mol}}$
- D) $23 \frac{\text{g}}{\text{mol}}$
- E) $46 \frac{\text{g}}{\text{mol}}$

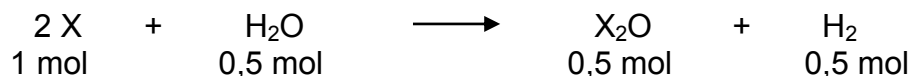
RESOLUCIÓN

Para responder este ítem el postulante debe aplicar sus conocimientos relacionados con la estequiometría y la ley de la conservación de la materia.

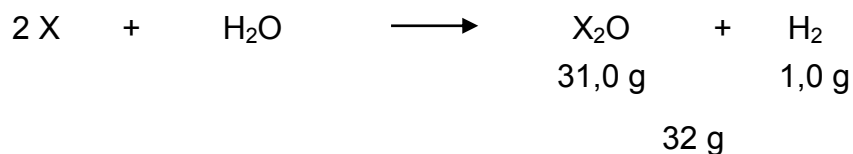
Lo primero que debe hacer es escribir la relación en mol que se desprende de la ecuación estequiométricamente equilibrada:



De acuerdo a lo anterior, entonces por cada mol de X que reacciona completamente, se requieren:



Luego, es necesario traspasar las cantidades (mol) a unidades de masa. Sin embargo, para el caso de las masas de X_2O e H_2 , estas se encuentran mencionadas en el enunciado, obteniéndose:



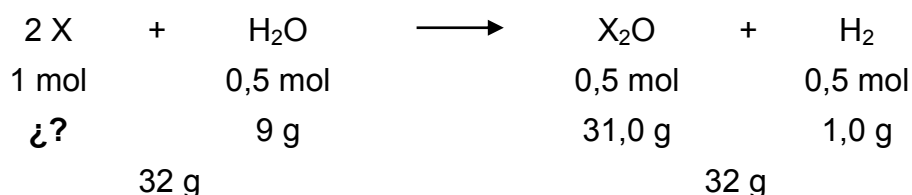
Ahora, para determinar la masa de agua que está contenida en 0,5 mol, se debe aplicar la siguiente relación:

$$\text{masa}_{H_2O} = \text{masa molar}_{H_2O} \times \text{cantidad de sustancia}_{H_2O}$$

$$\text{masa}_{H_2O} = 18 \frac{\text{g}}{\text{mol}} \times 0,5 \text{ mol}$$

$$\text{masa}_{H_2O} = 9 \text{ g}$$

De esta manera, queda:



Para que la reacción cumpla con la ley de la conservación de la materia, debe existir la misma masa de productos que de reactantes, por consiguiente, la masa de X, corresponderá a la diferencia entre la masa de los productos y los 9 g del agua:

$$\text{masa de X} = 32 \text{ g} - 9 \text{ g}$$

$$\text{masa de X} = 23 \text{ g}$$

Considerando que los datos anteriores, son para 1 mol de X en la ecuación, la masa molar del compuesto X corresponde a $23 \frac{\text{g}}{\text{mol}}$, siendo correcta la opción D).

FICHA DE REFERENCIA CURRICULAR

Eje Temático / Área Temática: Materia y sus transformaciones / Reacciones químicas y estequiometría

Nivel: I Medio

Objetivo Fundamental: Establecer relaciones cuantitativas en diversas reacciones químicas presentes en la nutrición de seres vivos, la industria y el ambiente.


Contenido Mínimo Obligatorio: Aplicación de cálculos estequiométricos para explicar las relaciones cuantitativas entre cantidad de sustancia y de masa en reacciones químicas de utilidad industrial y ambiental, por ejemplo, en la formación del agua, la fotosíntesis, la formación de amoníaco para fertilizantes, el funcionamiento del “*airbag*”, en la lluvia ácida.

Habilidad Cognitiva: Aplicación

Clave: D

PREGUNTA 67 (Módulo Común)

La siguiente ecuación representa la reacción entre X e Y:



Cuando reacciona completamente 1 mol de X con 1 mol de Y, ¿cuál de las siguientes opciones es correcta?

- A) Se consume todo el compuesto X y todo el compuesto Y.
- B) Se consume todo el compuesto X y una parte del compuesto Y queda sin reaccionar.
- C) Se forma 1 mol de W.
- D) Se forman 2 mol de Z.
- E) Se consume todo el compuesto Y y una parte del compuesto X queda sin reaccionar.

RESOLUCIÓN

Para responder este ítem el postulante debe aplicar sus conocimientos relativos a los cálculos estequiométricos en las reacciones químicas, para luego analizar la estequiometría de la reacción y determinar cuál de los reactantes se consume y cuál queda en exceso.

A partir de la ecuación presentada en el enunciado, se observa que la relación en mol entre X e Y, es:

$$\frac{n_X}{n_Y} = \frac{4}{7} \quad (1)$$

A partir de la expresión (1) y de las cantidades de X y de Y que reaccionan, existen dos formas de resolver este ítem, una de ellas es calcular la cantidad de Y a partir de la reacción completa con X y la otra es obtener la cantidad de X a partir de la reacción completa con Y:

Si reacciona completamente 1 mol de X, se tiene:

$$n_Y = \frac{1 \text{ mol X} \times 7 \text{ mol Y}}{4 \text{ mol X}} = 1,75 \text{ mol Y}$$

Si reacciona completamente 1 mol de Y:

$$n_X = \frac{1 \text{ mol Y} \times 4 \text{ mol X}}{7 \text{ mol Y}} = 0,57 \text{ mol X}$$

De acuerdo a estos resultados, es posible afirmar correctamente que para que reaccione completamente 1 mol de X se necesitan 1,75 mol de Y, cantidad de la que no se dispone, ya que solo se cuenta con 1 mol de Y, como se señala en el enunciado.

Por otro lado, en la reacción total de 1 mol de Y con X se requieren 0,57 mol de X, cantidad de la que si se dispone, ya que se cuenta con 1 mol de X, quedando en exceso 0,43 mol de este.

De acuerdo a esto, la opción correcta es E).

FICHA DE REFERENCIA CURRICULAR

Eje Temático / Área Temática: Materia y sus transformaciones / Reacciones químicas y estequiometría

Nivel: I Medio

Objetivo Fundamental: Establecer relaciones cuantitativas en diversas reacciones químicas presentes en la nutrición de seres vivos, la industria y el ambiente.

Contenido Mínimo Obligatorio: Aplicación de cálculos estequiométricos para explicar las relaciones cuantitativas entre cantidad de sustancia y de masa en reacciones químicas de utilidad industrial y ambiental, por ejemplo, en la formación del agua, la fotosíntesis, la formación de amoníaco para fertilizantes, el funcionamiento del "airbag", en la lluvia ácida.

Habilidad Cognitiva: Análisis, Síntesis y Evaluación

Clave: E

PREGUNTA 68 (Módulo Común)

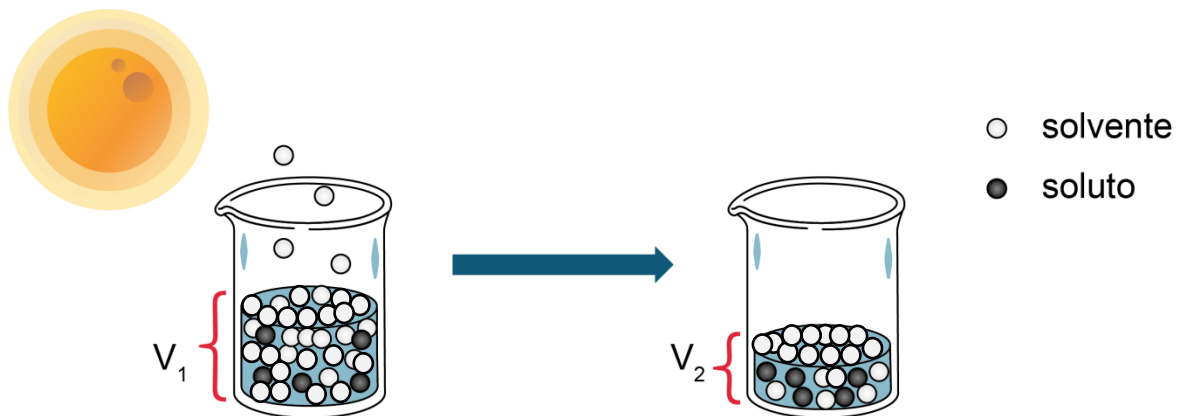
Un recipiente contiene una solución concentrada de sal común disuelta en agua. Si el recipiente se deja abierto y expuesto por varias horas al medio ambiente en un día caluroso, se cumple que

- A) el soluto sublima.
- B) el solvente se condensa.
- C) el soluto disminuye su concentración.
- D) la densidad de la solución disminuye.
- E) aumenta la concentración de la solución.

RESOLUCIÓN

Para resolver este ítem el postulante debe comprender el concepto de solución concentrada como aquella mezcla homogénea que contiene una gran cantidad de soluto disuelto en el solvente.

En el caso expuesto en el enunciado, si una solución concentrada de sal común se expone por varias horas al medio ambiente, en un día caluroso, se produce la evaporación del agua, disminuyendo el volumen de la solución, tal como se representa a nivel molecular en la siguiente figura:



Al ocurrir lo anterior, la proporción de soluto en relación al solvente o al volumen de la solución se hace mayor, por ende la concentración de la solución también aumentará, siendo E) la opción correcta.

FICHA DE REFERENCIA CURRICULAR

Eje Temático / Área Temática: Materia y sus transformaciones / Reacciones químicas y estequiometría

Nivel: II Medio

Objetivo Fundamental: Reconocer diversos tipos de soluciones en estado sólido, líquido y gaseoso, sus propiedades, aplicaciones tecnológicas y las etapas necesarias para la preparación de soluciones a concentraciones conocidas.

Contenido Mínimo Obligatorio: Caracterización de algunas soluciones que se presentan en el entorno (por ejemplo smog, bronce, edulcorante) según sus propiedades generales: estado físico, solubilidad, cantidad de soluto disuelto y conductividad eléctrica.

Habilidad Cognitiva: Comprensión

Clave: E

PREGUNTA 69 (Módulo Común)

¿Qué volumen de agua se debe agregar a 50 mL de una solución 4 % m/v de NaOH (masa molar = $40 \frac{\text{g}}{\text{mol}}$) para obtener una solución $0,5 \frac{\text{mol}}{\text{L}}$?

- A) 200 mL
- B) 100 mL
- C) 50 mL
- D) 25 mL
- E) 10 mL

RESOLUCIÓN

Para responder este ítem el postulante debe aplicar y relacionar las diferentes variables involucradas en la expresión del porcentaje masa/volumen (% m/v):

$$\% \text{ m/v} = \frac{\text{masa soluto (g)}}{100 \text{ mL solución}} \times 100$$

En este caso, 4 % m/v significa que existen 4 g de soluto disueltos en 100 mL de solución. Para saber que masa de soluto hay en 50 mL de solución, se debe hacer la siguiente proporción:

$$\frac{4 \text{ g soluto}}{100 \text{ mL solución}} = \frac{x}{50 \text{ mL solución}}$$

$$x = \frac{4 \text{ g soluto} \times 50 \text{ mL solución}}{100 \text{ mL solución}}$$

$$x = 2 \text{ g de soluto}$$

Luego, se debe obtener la cantidad en mol de soluto (n) que esta contenida en 2 g de NaOH, a través de la siguiente expresión:

$$n = \frac{\text{masa soluto (g)}}{\text{masa molar soluto} \left(\frac{\text{g}}{\text{mol}} \right)}$$

Ahora, al reemplazar los datos en la expresión anterior, se tiene:

$$n = \frac{2 \text{ g}}{40 \frac{\text{g}}{\text{mol}}} = 0,05 \text{ mol de NaOH}$$

Una vez obtenida la cantidad de NaOH se determina la concentración molar de la solución, para ello se debe utilizar la siguiente expresión:

$$C = \frac{n}{V}$$

Donde:

V = Volumen de la solución (L)

Al reemplazar los valores en la expresión anterior, se obtiene que:

$$C = \frac{0,05 \text{ mol}}{0,05 \text{ L}} = 1 \frac{\text{mol}}{\text{L}}$$

Ahora una vez determinada la concentración molar, se procede a determinar el volumen necesario para obtener una solución $0,5 \frac{\text{mol}}{\text{L}}$, a través de la siguiente expresión:

$$C_i \times V_i = C_f \times V_f$$

Donde:

C_i = Concentración inicial de la solución $\left(\frac{\text{mol}}{\text{L}}\right)$

V_i = Volumen inicial de la solución (L)

C_f = Concentración final de la solución $\left(\frac{\text{mol}}{\text{L}}\right)$

V_f = Volumen final de la solución (L)

Al reemplazar los valores anteriores, queda:

$$1 \frac{\text{mol}}{\text{L}} \times 0,05 \text{ L} = 0,5 \frac{\text{mol}}{\text{L}} \times V_f$$
$$V_f = \frac{1 \frac{\text{mol}}{\text{L}} \times 0,05 \text{ L}}{0,5 \frac{\text{mol}}{\text{L}}} = 0,1 \text{ L}$$

Considerando que el volumen final de la solución corresponde a 100 mL, se deben agregar 50 mL de agua a 50 mL de una solución 4 % m/v de NaOH para obtener una solución de concentración $0,5 \frac{\text{mol}}{\text{L}}$. De acuerdo a esto, la respuesta correcta es C).

FICHA DE REFERENCIA CURRICULAR

Eje Temático / Área Temática: Materia y sus transformaciones / Reacciones químicas y estequiometría

Nivel: II Medio

Objetivo Fundamental: Reconocer diversos tipos de soluciones en estado sólido, líquido y gaseoso, sus propiedades, aplicaciones tecnológicas y las etapas necesarias para la preparación de soluciones a concentraciones conocidas.

Contenido Mínimo Obligatorio: Aplicación de las etapas teóricas y empíricas necesarias en la preparación de soluciones a concentraciones conocidas, por ejemplo, el suero fisiológico, la penicilina, la povidona.

Habilidad Cognitiva: Aplicación

Clave: C

PREGUNTA 70 (Módulo Común)

En la siguiente tabla se muestra la masa de glucosa ($C_6H_{12}O_6$) y la masa de agua que componen diferentes soluciones.

Solución	Masa de glucosa (g)	Masa de agua (g)
1	2,0	50
2	12,0	200
3	12,5	1000

Al respecto, ¿cuál de las siguientes opciones presenta las soluciones ordenadas de menor a mayor temperatura de ebullición?

- A) $1 < 2 < 3$
- B) $1 < 3 < 2$
- C) $2 < 3 < 1$
- D) $3 < 1 < 2$
- E) $2 < 1 < 3$

RESOLUCIÓN

Para responder este ítem, el postulante debe comprender y analizar lo que sucede con la temperatura de ebullición de una solución cuando se modifica la masa de soluto y la masa de solvente. Se sabe que:

$$\Delta T_e = T_e - T_e^\circ \quad (1)$$

Donde:

T_e = temperatura de ebullición de la solución

T_e° = temperatura de ebullición del solvente puro

Por otra parte, el aumento de la temperatura de ebullición (ΔT_e) es directamente proporcional a la cantidad de partículas en solución, en base a esto, se establece la siguiente expresión:

$$\Delta T_e = k_e \times m \quad (2)$$

Donde:

$$k_e = \text{constante ebulloscópica} \left(\frac{^{\circ}\text{Ckg}}{\text{mol}} \right)$$

$$m = \text{molalidad} \left(\frac{\text{mol}}{\text{kg de solvente}} \right)$$

Y considerando que la cantidad de soluto (n) se obtiene por:

$$n = \frac{m}{M}$$

Donde:

m = masa de soluto(mol)

$$M = \text{masa molar de soluto} \left(\frac{\text{g}}{\text{mol}} \right)$$

De acuerdo al enunciado, las tres soluciones están formadas por el mismo soluto, por lo que la masa molar (M) es la misma, al igual que k, por lo que, queda:

$$\Delta T_e = k_e \times \frac{m}{M \times m \text{ solvente}} \quad (2)$$

Al reemplazar los datos entregados en el enunciado en (2), resulta:

$$\text{Para la solución 1: } \Delta T_e = k_e \times \frac{2 \text{ g}}{M \times 50 \text{ g de solvente}} = 0,04 \frac{k_e}{M}$$

$$\text{Para la solución 2: } \Delta T_e = k_e \times \frac{12 \text{ g}}{M \times 200 \text{ g de solvente}} = 0,06 \frac{k_e}{M}$$

$$\text{Para la solución 3: } \Delta T_e = k_e \times \frac{12,5 \text{ g}}{M \times 1000 \text{ g de solvente}} = 0,0125 \frac{k_e}{M}$$

Por lo que, el orden de las soluciones respecto de su temperatura de ebullición de menor a mayor es $3 < 1 < 2$, siendo D) la respuesta correcta al ítem.

FICHA DE REFERENCIA CURRICULAR

Eje Temático / Área Temática: Materia y sus transformaciones / Reacciones químicas y estequiometría

Nivel: II Medio

Objetivo Fundamental: Reconocer diversos tipos de soluciones en estado sólido, líquido y gaseoso, sus propiedades, aplicaciones tecnológicas y las etapas necesarias para la preparación de soluciones a concentraciones conocidas.

Contenido Mínimo Obligatorio: Descripción de las propiedades coligativas de las soluciones que permiten explicar, por ejemplo, la inclusión de aditivos al agua de radiadores, la mantención de frutas y mermeladas en conserva, el efecto de la adición de sal en la fusión del hielo.

Habilidad Cognitiva: Análisis, Síntesis y Evaluación

Clave: D

PREGUNTA 71 (Módulo Común)

A 25 °C, dos soluciones acuosas de igual volumen, formadas por diferentes solutos, presentan la misma presión osmótica. Al respecto, es correcto afirmar que ambas soluciones

- I) tienen igual concentración molar.
 - II) presentan diferente cantidad, en mol, de soluto.
 - III) presentan la misma concentración en % m/v.
- A) Solo I
B) Solo II
C) Solo III
D) Solo I y II
E) I, II y III

RESOLUCIÓN

Para responder este ítem el postulante debe analizar y aplicar la fórmula que permite calcular la presión osmótica. La cual corresponde a la presión que se debe aplicar a una solución para impedir que circule el solvente desde una solución más diluida hacia otra más concentrada, a través de una membrana semipermeable.

La expresión de la presión osmótica es:

$$\pi = C \times R \times T \quad (1)$$

Donde:

π = Presión osmótica (atm)

C = Concentración molar $\left(\frac{\text{mol}}{\text{L}}\right)$

R = Constante de los gases, 0,082 $\left(\frac{\text{atmL}}{\text{molK}}\right)$

T = Temperatura (K)

Además, considerando la siguiente expresión para obtener la concentración molar:

$$C = \frac{n}{V} \quad (2)$$

Donde:

n = cantidad de soluto (mol)

V = volumen de solución (L)

Es posible obtener la cantidad de soluto, n:

$$n = \frac{m}{M} \quad (3)$$

En donde:

m = masa de soluto (g)

M = masa molar $\left(\frac{\text{g}}{\text{mol}}\right)$

Ahora respecto a la información entregada en el enunciado, se tienen dos soluciones de igual presión osmótica, es decir:

$$\pi_1 = \pi_2$$

Como π corresponde a $C \times R \times T$, queda:

$$C_1 \times R \times T = C_2 \times R \times T$$

Considerando que R y T son iguales en ambos casos, queda:

$$C_1 = C_2$$

De acuerdo a lo anterior, el postulante puede afirmar correctamente que la afirmación I) es correcta, ya que ambas presentan igual concentración molar. Luego, considerando la expresión (2) y la información del enunciado, se puede establecer que:

$$C_1 = \frac{n_1}{V_1} \quad \text{y} \quad C_2 = \frac{n_2}{V_2}$$

$$\frac{n_1}{V_1} = \frac{n_2}{V_2}$$

De lo anterior, es posible establecer que ambas soluciones presentan igual cantidad en mol de soluto ($n_1 = n_2$), por lo tanto, la afirmación II) es incorrecta. De acuerdo a la expresión (3), se tiene que:

$$n_1 = n_2$$

Del enunciado se extrae que ambas soluciones están formadas por solutos diferentes, lo que implica que su masa molar sea diferente. Por consiguiente:

$$m_1 \neq m_2$$

Estableciendo lo anterior, la afirmación III) es incorrecta, ya que los solutos que conforman las soluciones tienen diferente masa, por lo que, su % m/v también será diferente. Por tanto, la respuesta correcta es A).

FICHA DE REFERENCIA CURRICULAR

Eje Temático / Área Temática: Materia y sus transformaciones / Reacciones químicas y estequiometría

Nivel: II Medio

Objetivo Fundamental: Reconocer diversos tipos de soluciones en estado sólido, líquido y gaseoso, sus propiedades, aplicaciones tecnológicas y las etapas necesarias para la preparación de soluciones a concentraciones conocidas.

Contenido Mínimo Obligatorio: Descripción de las propiedades coligativas de las soluciones que permiten explicar, por ejemplo, la inclusión de aditivos al agua de radiadores, la mantención de frutas y mermeladas conserva, el efecto de la adición de sal en la fusión del hielo.

Habilidad Cognitiva: Análisis, Síntesis y Evaluación

Clave: A

PREGUNTA 72 (Módulo Común)

Se sabe que en países en los cuales se registran períodos prolongados de nevazones, se agrega sal en las carreteras, ¿cuál de las siguientes opciones corresponde a una explicación de esta acción?

- A) La sal favorece la evaporación del agua.
- B) Los sólidos tienen distintos puntos de congelación.
- C) El agua tiene una alta capacidad para congelarse.
- D) El agua tiene una alta capacidad para mezclarse con sales.
- E) La sal derrite el agua congelada.

RESOLUCIÓN

Para responder este ítem el postulante debe interpretar la información entregada en el enunciado, con el fin de formular una explicación pertinente a lo ocurrido. Cuando se añade sal a las carreteras se observa que estas evitan su congelamiento, con el fin de derretirla. Este hecho se justifica porque la sal disminuye la temperatura de congelación del agua. De acuerdo a lo anterior, la respuesta correcta es E).

FICHA DE REFERENCIA CURRICULAR

Eje Temático / Área Temática: Habilidades del pensamiento científico / Reacciones químicas y estequiometría

Nivel: II Medio

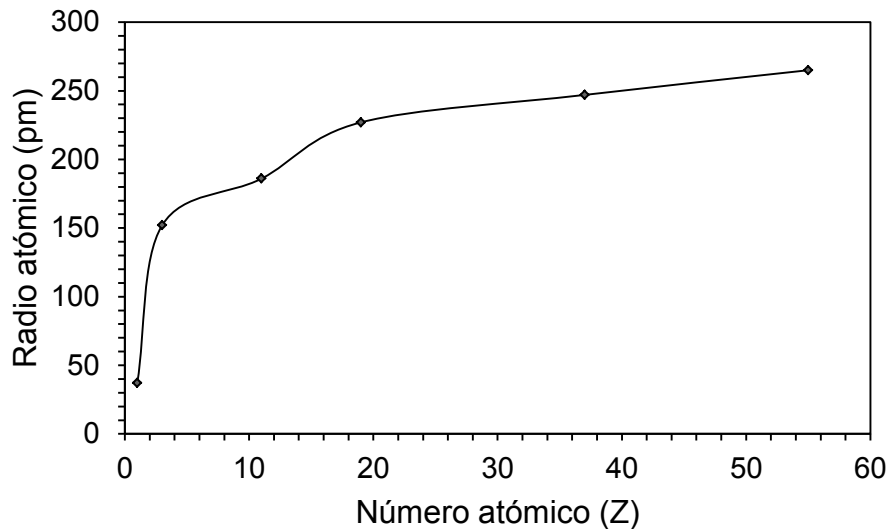
Objetivo Fundamental: Organizar e interpretar datos, y formular explicaciones, apoyándose en las teorías y conceptos científicos en estudio.

Habilidad del Pensamiento Científico: Procesamiento e interpretación de datos y formulación de explicaciones, apoyándose en los conceptos y modelos teóricos del nivel.

Clave: E

PREGUNTA 73 (Módulo Técnico Profesional)

El gráfico representa el radio atómico en función del número atómico (Z) de los seis primeros elementos del grupo 1 (I A):



De acuerdo al gráfico, ¿cuál de las siguientes afirmaciones es correcta?

- A) El séptimo elemento del grupo 1 (I A) posee igual radio atómico que el sexto elemento del grupo.
- B) En el grupo 1 (I A), el radio atómico aumenta con el Z.
- C) El radio atómico es directamente proporcional al Z.
- D) El grupo 2 (II A) presenta la misma tendencia que el grupo 1 (I A).
- E) Los elementos de los grupos 2 (II A) y 13 (III A) presentan radios atómicos mayores a los del grupo 1 (I A).

RESOLUCIÓN

Para responder este ítem el postulante debe comprender y procesar la información entregada en el gráfico, en el cual se muestra la relación entre el radio atómico y el número atómico de los elementos del grupo 1 (I A), del sistema periódico. Al observar el gráfico, se puede destacar que a medida que aumenta el número atómico el radio atómico de los elementos del grupo 1 (I A) también aumenta.

Por lo tanto, B) es la opción correcta.

FICHA DE REFERENCIA CURRICULAR

Eje Temático / Área Temática: Habilidades de pensamiento científico / Estructura atómica

Nivel: I Medio

Objetivo Fundamental: Procesar datos con herramientas conceptuales y tecnológicas apropiadas y elaborar interpretaciones de datos en términos de las teorías y conceptos científicos del nivel.

Habilidad del Pensamiento Científico: Procesamiento e interpretación de datos y formulación de explicaciones, apoyándose en los conceptos y modelos teóricos del nivel.

Clave: B

PREGUNTA 74 (Módulo Técnico Profesional)

Con respecto a las siguientes propiedades:

- I) Radio atómico
- II) Electronegatividad
- III) Potencial o energía de ionización

¿Cuál(es) es (son) periódica(s)?

- A) Solo I
- B) Solo II
- C) Solo III
- D) Solo I y II
- E) I, II y III

RESOLUCIÓN

Para responder este ítem el postulante debe recordar que una propiedad periódica, es aquella propiedad que presenta una tendencia definida respecto del número atómico y por lo tanto, se puede predecir de acuerdo a la ubicación de un elemento químico, en el sistema periódico.

De acuerdo a lo anterior, el postulante debe ser capaz de recordar cuales de las propiedades presentadas en el enunciado son periódicas y cuáles no.

El radio atómico es una propiedad periódica, y está relacionada con el tamaño de los átomos, se define como la distancia entre los núcleos de dos átomos idénticos unidos por un enlace. Por lo que, en un grupo este aumenta a medida que los electrones ocupan niveles de energía más altos y en un período tiende a disminuir a medida que aumenta la cantidad de protones en el núcleo. Por lo que I), si corresponde a una propiedad periódica.

Respecto de la electronegatividad, esta es una propiedad periódica ya que en un grupo, aumenta a medida que disminuye el número atómico. En cambio, en un período la electronegatividad aumenta a medida que aumenta el número atómico. Por lo que, II) corresponde a una propiedad periódica.

Respecto del potencial o energía de ionización, es necesario destacar que, la energía de ionización está relacionada directamente con la electronegatividad, por lo que su tendencia en el sistema periódico es la misma. Por lo tanto, III) corresponde a una propiedad periódica.

Por consiguiente, la opción correcta es E).

FICHA DE REFERENCIA CURRICULAR

Eje Temático / Área Temática: Materia y sus transformaciones / Estructura atómica

Nivel: I Medio

Objetivo Fundamental: Relacionar la estructura electrónica de los átomos con su ordenamiento en la tabla periódica, sus propiedades físicas y químicas y su capacidad de interacción con otros átomos.

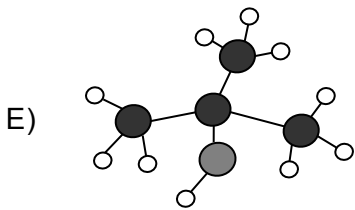
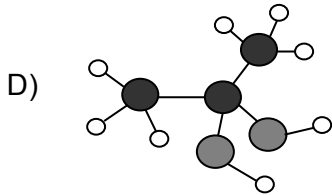
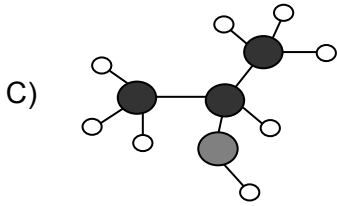
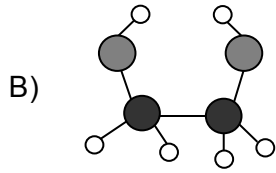
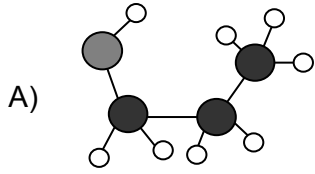
Contenido Mínimo Obligatorio: Descripción de la configuración electrónica de diversos átomos para explicar sus diferentes ubicaciones en la tabla periódica, su radio atómico, su energía de ionización, su electroafinidad y su electronegatividad.

Habilidad Cognitiva: Reconocimiento

Clave: E

PREGUNTA 75 (Módulo Técnico Profesional)

¿Cuál de las siguientes representaciones corresponde al 2-propanol?



Simbología

● = Carbono

● = Oxígeno

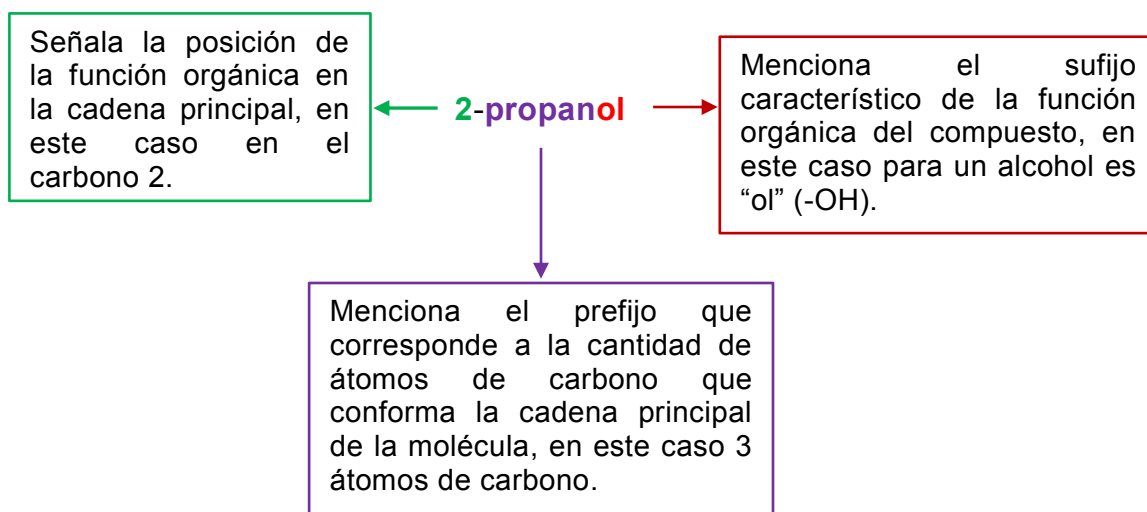
○ = Hidrógeno

RESOLUCIÓN

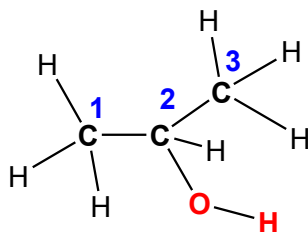
Para responder este ítem el postulante debe aplicar y relacionar las diferentes formas de representación de una molécula orgánica.

Una de las maneras de representar las moléculas es a través del modelo de esferas y varillas, en donde las esferas representan los átomos y las varillas los enlaces. Generalmente, las esferas son de distinto tamaño y color para distinguir entre los elementos. Las varillas se colocan entre las esferas de tal manera que se representen los ángulos de enlaces entre los átomos que se unen en las distintas moléculas.

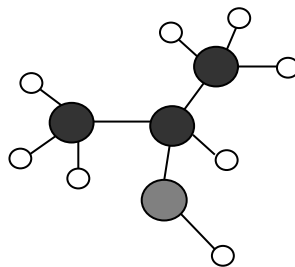
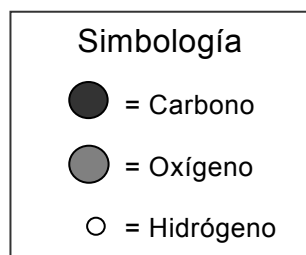
Para encontrar cuál de las opciones representa al 2-propanol, es necesario establecer lo siguiente, a partir del nombre de la molécula:



De esta manera, la estructura de la molécula, será la siguiente:



Posteriormente, se debe reemplazar cada átomo de la molécula con esferas y varillas, de acuerdo a la simbología dada:



Al comparar esta estructura con las estructuras de las opciones, es posible determinar que la opción correcta es C).

FICHA DE REFERENCIA CURRICULAR

Eje Temático / Área Temática: Materia y sus transformaciones / Química orgánica

Nivel: II Medio

Objetivo Fundamental: Comprender que la formación de los compuestos orgánicos y de sus grupos funcionales se debe a las propiedades del átomo de carbono para unirse entre sí y con otros átomos, en organismos vivos, en la producción industrial y aplicaciones tecnológicas.

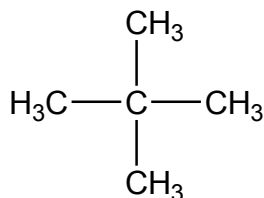
Contenido Mínimo Obligatorio: Descripción de la importancia de los grupos funcionales en las propiedades de algunos compuestos orgánicos que son claves en los seres vivos y relevantes en la elaboración de productos industriales.

Habilidad Cognitiva: Aplicación

Clave: C

PREGUNTA 76 (Módulo Técnico Profesional)

Según la IUPAC, ¿cuál es el nombre del siguiente compuesto?

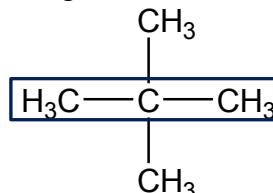


- A) Butano
- B) Pentano
- C) Isopropano
- D) 2,2-dimetilpropano
- E) Tetrametilmetano

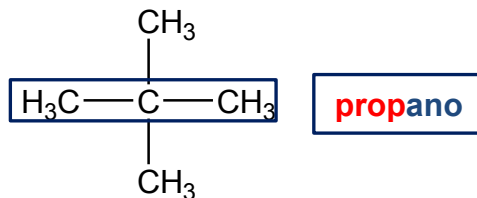
RESOLUCIÓN

Para responder este ítem el postulante debe aplicar las reglas de la IUPAC, las cuales sirven para nombrar compuestos orgánicos. A continuación, se resumen algunas de ellas:

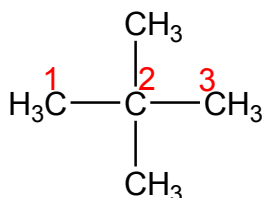
1. Identificar la cadena más larga de átomos de carbono:



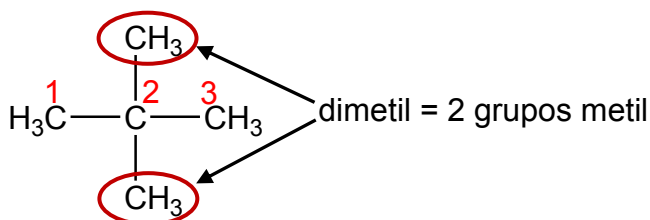
2. Nombrar la cadena seleccionada en el punto 1, en este caso, la cadena más larga está formada por 3 átomos de carbono, por lo que su nombre corresponde a propano, ya que al presentar 3 átomos de carbono el prefijo que le corresponde es prop- y su terminación -ano, por ser un alcano (enlace simple).



3. Luego, se deben numerar los átomos de carbono de la cadena desde el extremo que permita asignar los números más bajos a los sustituyentes.



4. Por último, se deben nombrar los sustituyentes, estos se nombran cambiando la terminación -ano del alcano por “ilo” del cual derivan, en este caso, el sustituyente metilo (–CH₃) proviene del metano. Los sustituyentes se anteponen al nombre de la cadena principal (propano) y se debe escribir la posición en la cual se encuentran, en este caso, corresponde al átomo de carbono 2. Cuando los sustituyentes son iguales, se emplean los prefijos di, tri, tetra, penta, hexa, etc, para indicar el número de veces que aparece el sustituyente en la molécula, en este caso dimetil.



Los sustituyentes se separan por comas y a su vez con un guión del nombre de la cadena.

De acuerdo a lo anterior, el nombre del compuesto es 2,2-dimetilpropano, siendo D) la respuesta correcta.

FICHA DE REFERENCIA CURRICULAR

Eje Temático / Área Temática: Materia y sus transformaciones / Química orgánica

Nivel: II Medio

Objetivo Fundamental: Comprender que la formación de los compuestos orgánicos y de sus grupos funcionales se debe a las propiedades del átomo de carbono para unirse entre sí y con otros átomos, en organismos vivos, en la producción industrial y aplicaciones tecnológicas.

Contenido Mínimo Obligatorio: Descripción de la importancia de los grupos funcionales en las propiedades de algunos compuestos orgánicos que son claves en los seres vivos y relevantes en la elaboración de productos industriales.

Habilidad Cognitiva: Aplicación

Clave: D

PREGUNTA 77 (Módulo Técnico Profesional)

Cuando el nitrógeno se combina con el oxígeno, se puede dar lugar a la formación de NO_2 y N_2O .

Compuesto	Masa de N (g)	Masa de O (g)
Dióxido de nitrógeno (NO_2)	1,00	2,28
Óxido de nitrógeno (N_2O)	1,00	0,57

A partir de estos valores, la razón entre la masa de oxígeno del NO_2 y la masa de oxígeno del N_2O , es 1:4. ¿Cuál de las siguientes leyes se enuncia a partir de estos resultados?

- A) La ley de la conservación de la masa
- B) La ley de las proporciones definidas
- C) La ley de las proporciones múltiples
- D) La ley de la conservación de la energía
- E) La ley de las proporciones recíprocas

RESOLUCIÓN

Para responder este ítem el postulante debe relacionar los datos entregados en la tabla con alguna de las leyes que se presentan en las opciones de respuesta. En la tabla se presentan las masas de N y de O que se requieren en la formación de dos compuestos distintos, NO_2 y N_2O . Al recordar los enunciados de las leyes presentadas en las opciones, es posible destacar que la ley que se relaciona con los resultados de la tabla corresponde a la Ley de las proporciones múltiples, propuesta por John Dalton en 1803, que dice: “cuando dos elementos se combinan para formar más de un compuesto, existe una relación de números enteros y sencillos entre los átomos de uno de los elementos, al mantener una masa fija del otro”.

De lo anterior se desprende que, la opción correcta es C).

FICHA DE REFERENCIA CURRICULAR

Eje Temático / Área Temática: Materia y sus transformaciones / Reacciones químicas y estequiometría

Nivel: I Medio

Objetivo Fundamental: Aplicar las leyes de la combinación química a reacciones químicas que explican la formación de compuestos comunes relevantes para la nutrición de seres vivos, la industria, la minería, entre otros.

Contenido Mínimo Obligatorio: Descripción cuantitativa, por medio de la aplicación de las leyes ponderales, de la manera en que se combinan dos o más elementos para explicar la formación de compuestos.

Habilidad Cognitiva: Comprensión

Clave: C

PREGUNTA 78 (Módulo Técnico Profesional)

De acuerdo a la ecuación no balanceada:



¿Qué cantidad de H_2 se forma al reaccionar completamente 6,2 mol de Li con agua?

- A) 1,0 mol
- B) 2,0 mol
- C) 6,2 mol
- D) 3,1 mol
- E) 1,5 mol

RESOLUCIÓN

Para responder este ítem el postulante debe aplicar sus conocimientos referidos a estequiometría de las reacciones químicas.

Para lo cual, se debe recordar que una ecuación química representa a una reacción química específica y al estar balanceada entrega información cuantitativa relativa a las proporciones en que se combinan los reactantes para dar lugar a la formación de productos. Por lo tanto, se pueden escribir razones y proporciones entre reactantes, entre productos o entre reactantes y productos en determinada cantidad de partículas (mol), masas o volúmenes, esto último en condiciones normales de temperatura y presión.

En la siguiente tabla se muestra la cantidad de materia expresada en mol, para cada reactante y producto, información que se extrae directamente de la ecuación previamente balanceada.

	Reactantes			Productos	
Ecuación balanceada	2 Li (s)	+	2 H ₂ O (ℓ)	→	2 LiOH (ac) + H ₂ (g)
Cantidad de materia	2 mol de Li		2 mol de H ₂ O		2 mol de LiOH + 1 mol de H ₂

Una estrategia de resolución consiste en escribir la pregunta como una razón matemática con los datos entregados en la ecuación y los coeficientes estequiométricos de la reacción.

En el enunciado se pregunta qué cantidad de H₂ se forma al reaccionar completamente 6,2 mol de Li con agua. Desde la ecuación se extrae que 2 mol de Li al reaccionar completamente con agua forman 1 mol de H₂. Si se escribe una proporción entre ambas relaciones queda:

$$\frac{X}{6,2 \text{ mol Li}} = \frac{1 \text{ mol H}_2}{2 \text{ mol Li}}$$

Despejando X de la ecuación:

$$X = \frac{1 \text{ mol H}_2 \times 6,2 \text{ mol Li}}{2 \text{ mol Li}} = 3,1 \text{ mol de H}_2$$

De lo anterior se deduce que la opción correcta es D).

FICHA DE REFERENCIA CURRICULAR

Eje Temático / Área Temática: Materia y sus transformaciones / Reacciones químicas y estequiometría

Nivel: I Medio

Objetivo Fundamental: Aplicar las leyes de la combinación química a reacciones químicas que explican la formación de compuestos comunes relevantes para la nutrición de seres vivos, la industria, la minería, entre otros.

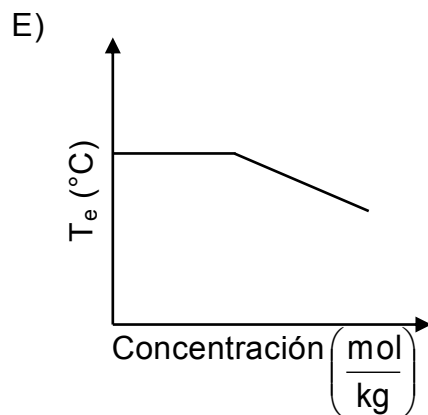
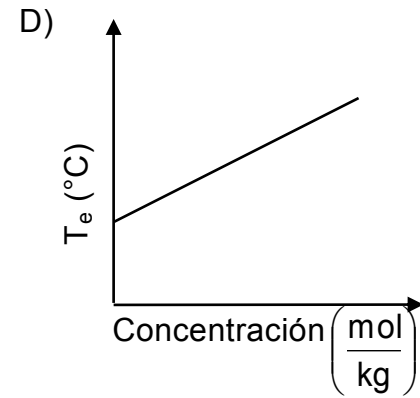
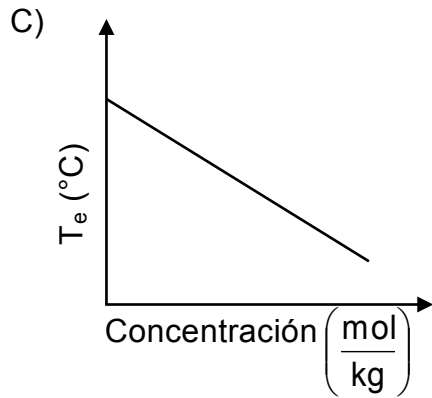
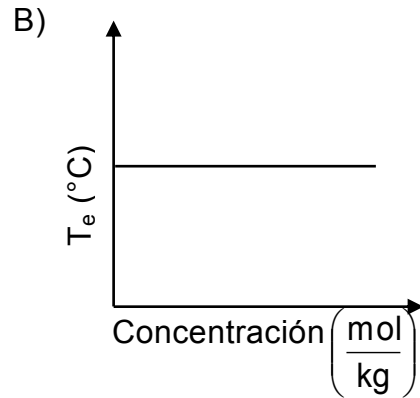
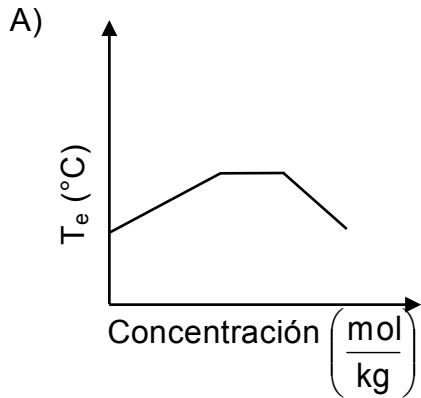
Contenido Mínimo Obligatorio: Aplicación de cálculos estequiométricos para explicar las relaciones cuantitativas entre cantidad de sustancia y de masa en reacciones químicas de utilidad industrial y ambiental, por ejemplo, en la formación del agua, la fotosíntesis, la formación de amoníaco para fertilizantes, el funcionamiento del “*airbag*”, en la lluvia ácida.

Habilidad Cognitiva: Aplicación

Clave: D

PREGUNTA 79 (Módulo Técnico Profesional)

Se dispone de una solución acuosa de nitrato de sodio insaturada que se encuentra en su temperatura de ebullición, a la cual se le agrega más soluto, ¿cuál de los siguientes gráficos representa correctamente esta situación?



RESOLUCIÓN

Para responder este ítem el postulante debe comprender lo que ocurre al agregar más nitrato de sodio a una solución de esta sal que se encuentra en su temperatura de ebullición.

Debe recordar que al agregar más soluto a una solución su temperatura de ebullición aumenta, por lo tanto, el gráfico que se relaciona con este proceso debe presentar una línea recta con pendiente positiva, la cual será indicativa de que la temperatura aumenta a medida que aumenta la concentración de la solución. Lo anterior, se observa solo en la opción D), que es la respuesta correcta.

FICHA DE REFERENCIA CURRICULAR

Eje Temático / Área Temática: Materia y sus transformaciones / Reacciones químicas y estequiometría

Nivel: II Medio

Objetivo Fundamental: Reconocer diversos tipos de soluciones en estado sólido, líquido y gaseoso, sus propiedades, aplicaciones tecnológicas y las etapas necesarias para la preparación de soluciones a concentraciones conocidas.

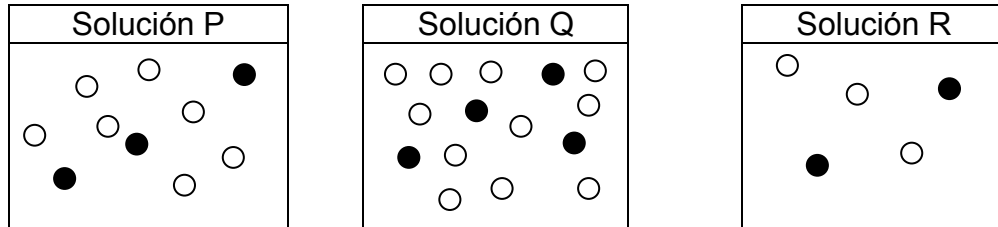
Contenido Mínimo Obligatorio: Descripción de las propiedades coligativas de las soluciones que permiten explicar, por ejemplo, la inclusión de aditivos al agua de radiadores, la mantención de frutas y mermeladas conserva, el efecto de la adición de sal en la fusión del hielo.

Habilidad Cognitiva: Comprensión

Clave: D

PREGUNTA 80 (Módulo Técnico Profesional)

Los siguientes esquemas representan la relación entre un soluto no volátil (●) y un solvente (○) para tres soluciones:



Respecto de lo anterior, ¿cuál es el orden de las soluciones de acuerdo a sus presiones de vapor, de menor a mayor?

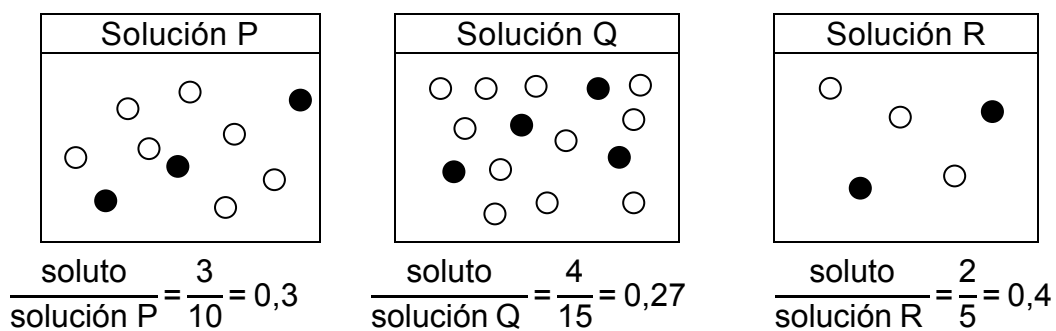
- A) $R < P < Q$
- B) $R < Q < P$
- C) $Q < P < R$
- D) $Q < R < P$
- E) $P < R < Q$

RESOLUCIÓN

Para responder este ítem el postulante debe recordar que la presión de vapor corresponde a la presión que ejerce la fase gaseosa o vapor de un líquido, a una determinada temperatura.

Cuando a un líquido puro se le agrega un soluto no volátil las moléculas de este último dificultarán la salida de las moléculas de agua a la fase vapor del líquido puro, por lo que la presión de vapor disminuirá. Entonces, la relación que existe entre la cantidad de soluto no volátil presente en una solución y la presión de vapor es una relación inversa, es decir, a mayor concentración del soluto en la solución menor será la presión de vapor.

Al analizar los esquemas de las tres soluciones presentadas en el enunciado, es posible determinar la fracción molar, la cual corresponde a la razón entre las moléculas de soluto y solución (solvente + soluto), para cada solución y luego relacionarlas con la presión de vapor.



De lo anterior, se concluye que el orden de las soluciones, de menor a mayor concentración, es: $Q < P < R$.

Como se explicó anteriormente la presión de vapor tiene una relación inversa con la concentración de la solución, por lo tanto, la solución más concentrada será la de menor presión de vapor, en este caso la solución R, y la menos concentrada será la de mayor presión de vapor, en este caso la solución Q. Finalmente, el orden de las tres soluciones de acuerdo a sus presiones de vapor de menor a mayor es: $R < P < Q$, siendo correcta la opción A).

FICHA DE REFERENCIA CURRICULAR

Eje Temático / Área Temática: Materia y sus transformaciones / Reacciones químicas y estequiometría

Nivel: II Medio

Objetivo Fundamental: Reconocer diversos tipos de soluciones en estado sólido, líquido y gaseoso, sus propiedades, aplicaciones tecnológicas y las etapas necesarias para la preparación de soluciones a concentraciones conocidas.

Contenido Mínimo Obligatorio: Descripción de las propiedades coligativas de las soluciones que permiten explicar, por ejemplo, la inclusión de aditivos al agua de radiadores, la mantención de frutas y mermeladas conserva, el efecto de la adición de sal en la fusión del hielo.

Habilidad Cognitiva: Análisis, Síntesis y Evaluación

Clave: A

