

INTRODUCCIÓN

La Universidad de Chile entrega a la comunidad educacional un Modelo de una forma de prueba semejante a la que se aplicará en el Proceso de Admisión 2020.

La portada de este Modelo contiene las instrucciones que aparecen en los folletos de cada forma de Prueba de Selección Universitaria PSU® a rendir.

El objetivo de esta publicación es poner a disposición de los estudiantes, profesores, orientadores y público en general, un ejemplar de prueba que contribuya al conocimiento de este instrumento de medición educacional.

Las preguntas aquí publicadas están referidas a los Objetivos Fundamentales y Contenidos Mínimos Obligatorios establecidos en el Marco Curricular, las cuales han sido aplicadas en diversos Procesos de Pilotaje y Procesos de Admisión; por lo tanto, constituyen un material fidedigno e idóneo para el conocimiento de la estructura y contenidos de la prueba.

Este Modelo de prueba ha sido elaborado por el Departamento de Evaluación, Medición y Registro Educacional (DEMRE) dependiente de la Vicerrectoría de Asuntos Académicos de la Universidad de Chile, siendo de exclusiva propiedad intelectual de la universidad. El material podrá ser utilizado sin fines comerciales, manteniendo la integridad de su contenido y reconociendo su fuente y autor. Para citar este documento deberá indicarse: DEMRE / Universidad de Chile (2019). Modelo de Prueba de Historia, Geografía y Ciencias Sociales. Disponible en <https://psu.demre.cl/publicaciones/modelos-resoluciones-pruebas>

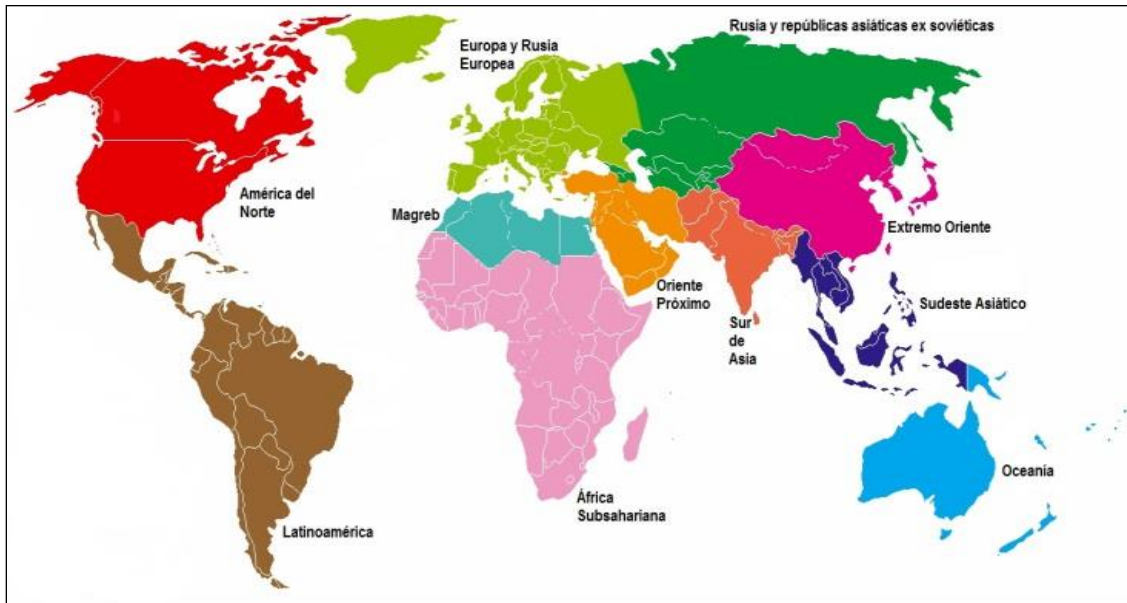
Registro de propiedad intelectual n° 305585 – 2019.

Universidad de Chile.

Derechos reservados ©. Prohibida su reproducción total o parcial.

ESPACIO GEOGRÁFICO

1. GRANDES REGIONES CULTURALES DEL MUNDO

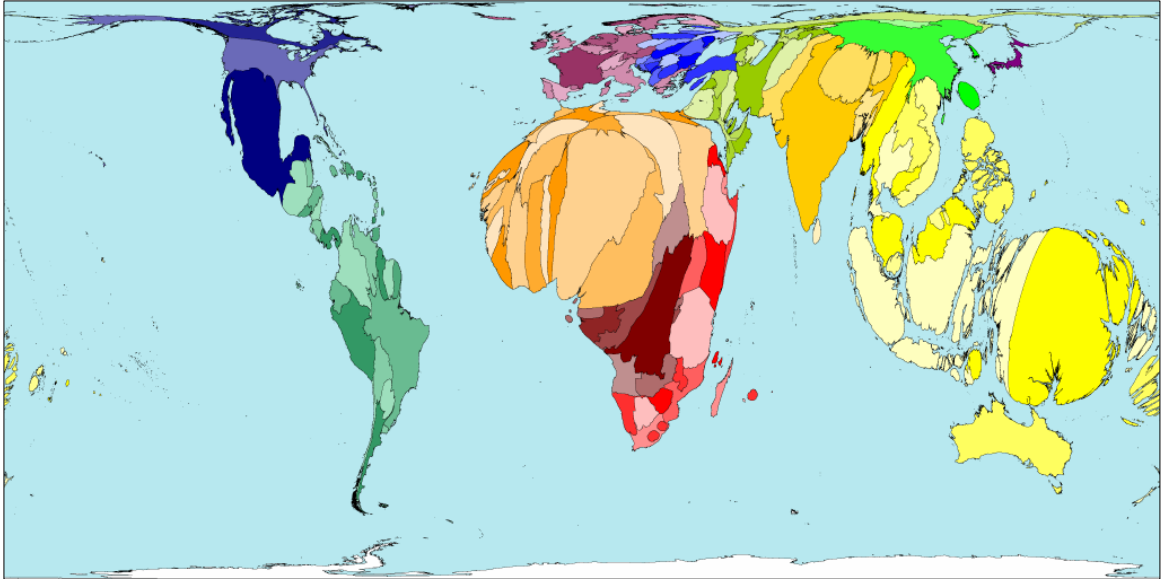


(www.atlasdemurcia.com)

El mapa anterior es una representación de las principales regiones culturales en que es posible dividir el planeta, diferenciadas por distintos colores. A partir de su lectura, ¿cuál de las siguientes afirmaciones es correcta respecto de la realidad cultural del mundo?

- A) Al interior de cada una de estas regiones existe gran homogeneidad lingüística.
- B) La mayoría de estas regiones pueden ser divididas en subregiones de acuerdo a diversas características.
- C) Las regiones de Asia están conformadas internamente por una sola nación que las identifica.
- D) Las grandes regiones del mundo conforman unidades uniformes en cuanto a sus creencias religiosas.
- E) Las grandes regiones africanas están definidas por su conformación en dos etnias distintas.

2. LENGUAS INDÍGENAS EN EL MUNDO



(www.worldmapper.org)

La ONU define a las poblaciones indígenas como los «primeros pueblos», que presentan rasgos específicos tales como el lenguaje. En el mapa anterior los territorios nacionales se han redimensionado para representar la cantidad de lenguas indígenas que existen en cada país. Entonces, a mayor tamaño del país representado mayor es la cantidad de lenguas indígenas presentes. Los colores solo se utilizan para diferenciar a cada uno de los países.

Analizando la información del mapa temático anterior y considerando la historia de las grandes regiones del planeta, ¿cuál de los siguientes factores explica las diferencias observadas en el mapa?

- A) El proceso de colonización de África implantó el inglés como única lengua oficial.
- B) El mayor volumen de población se encuentra en Asia y por tanto cuenta con la mayor diversidad lingüística indígena.
- C) El continente con mayor diversidad de lenguas indígenas habladas es Europa.
- D) La colonización hispana y portuguesa en América redujo la diversidad lingüística indígena.
- E) Producto de la colonización europea, Oceanía incrementó la diversidad lingüística indígena.

3. VIH Y SIDA EN EL MUNDO EN 2012



(AFP, elaborado en base a informe Onusida, 2013)

La imagen anterior entrega información sobre la evolución del VIH y SIDA en el mundo entre los años 2001 y 2012. Considerando esta información, ¿cuál(es) de las siguientes inferencias es (son) correcta(s) respecto del desarrollo de esta enfermedad durante ese periodo?

- I) Los altos niveles de pobreza están vinculados con la expansión de la enfermedad.
- II) La implementación de políticas públicas ha sido insuficiente para detener la propagación de la enfermedad.
- III) Las formas de contagio son desconocidas por el conjunto de la población a nivel mundial.

- A) Solo I
- B) Solo II
- C) Solo III
- D) Solo I y II
- E) Solo I y III

4. “Frente a la afirmación «todo inmigrante debe adaptarse a las costumbres y cultura chilena», un 70% de los chilenos encuestados señaló estar de acuerdo”. (Carolina Stefoni, La Inmigración Peruana en Chile, 2003).

La idea planteada en el texto anterior da cuenta de la actitud de una parte de la sociedad chilena frente a la diversidad cultural. Al respecto, ¿cuál es una consecuencia directa que puede traer dicha actitud?

- A) La marginación social de los inmigrantes.
- B) El incremento acelerado de la pobreza.
- C) La disminución del crecimiento económico.
- D) La desaparición de las culturas diferentes.
- E) El término de la inmigración internacional.

5. En 1950 la población urbana en Europa representaba el 37,7% de la población urbana mundial, seguida muy cerca por Asia con un 32,3%. En el año 2005 el 49,5% de la población urbana mundial estaba en Asia y Europa estaba en segundo lugar con un 16,6%, luego estaba América Latina con un 13,6% y seguía África con 11,1%. Para el año 2030 se estima que el 53,8% de la población urbana mundial vivirá en Asia, el 15,5% en África, el 12,1% en América Latina y el 11,2% en Europa.

En este contexto y considerando la información previa, ¿cuál de las siguientes opciones es una inferencia correcta respecto de la dinámica de la población en el mundo?

- A) La población rural de Europa ha crecido significativamente en los últimos 60 años.
- B) La población urbana de África ha aumentado principalmente por el gran crecimiento vegetativo en las ciudades.
- C) La población urbana latinoamericana ha disminuido en su volumen debido a la emigración.
- D) La población rural asiática ha crecido principalmente por grandes oleadas inmigratorias.
- E) La población urbana crece principalmente en las regiones económicamente emergentes de la economía global.

6. TASA MEDIA DE CRECIMIENTO ANUAL DEL PORCENTAJE DE POBLACIÓN URBANA EN EL MUNDO Y EN GRANDES GRUPOS DE PAÍSES ENTRE 1970 Y 2015 (EXPRESADA EN PORCENTAJES)

Periodo	Mundo	Países desarrollados	Países subdesarrollados
1970-1975	0,60	0,60	1,28
1975-1980	0,84	0,41	1,75
1980-1985	0,92	0,33	1,83
1985-1990	0,84	0,28	1,58
1990-1995	0,81	0,26	1,41
1995-2000	0,83	0,24	1,32
2000-2005	1,04	0,42	1,47
2005-2010	1,00	0,35	1,38
2010-2015	0,90	0,30	1,23

(United Nations, Department of Economic and Social Affairs, Population Division (2014), World Urbanization Prospects: The 2014 Revision)

Luego del análisis de la información proporcionada en el cuadro anterior, es correcto afirmar que el ritmo del crecimiento urbano cada cinco años es diferente en países desarrollados y subdesarrollados. A partir de 1970, ¿cuál es uno de los factores que explican dichas diferencias?

- A) El descenso de las migraciones campo-ciudad en los países subdesarrollados.
- B) La mayor esperanza de vida en los países subdesarrollados.
- C) La baja tasa de natalidad en los países desarrollados.
- D) La alta tasa de morbilidad en los países subdesarrollados.
- E) La alta tasa de mortalidad infantil en el mundo.

7. Actualmente, en la mayoría de los países subdesarrollados el crecimiento vegetativo de la población es alto. ¿Cuál de las siguientes situaciones es una de las principales causas de este comportamiento demográfico?

- A) El mantenimiento de alta natalidad y baja mortalidad.
- B) El decrecimiento sostenido de la esperanza de vida.
- C) El descenso paulatino de la emigración externa.
- D) El incremento explosivo en la nupcialidad urbana.
- E) El aumento de la migración campo-ciudad.

8. En Chile la Superintendencia de Pensiones y la Superintendencia de Valores y Seguros, anunciaron en 2015 que el monto mensual de las pensiones individuales por retiro laboral debería descender alrededor de un 3,4% a partir de 2016, a causa del aumento de la esperanza de vida de la población. Considerando este contexto, ¿cuál de los siguientes planteamientos es una deducción correcta sobre la situación aludida?
- A) Las instituciones públicas carecen de la capacidad de incidir en la definición del monto de las pensiones.
 - B) Las transformaciones demográficas plantean desafíos económicos, políticos, éticos y culturales.
 - C) Las políticas de salud han producido una disminución del volumen de la población.
 - D) El monto de los ahorros previsionales es indiferente a las fluctuaciones de la economía.
 - E) La edad de jubilación debe aumentar porque los fondos de las pensiones son cada vez más escasos.
9. Durante las últimas décadas el mundo ha experimentado el proceso de globalización. En el ámbito social, ¿qué consecuencia(s) se ha(n) acentuado a nivel mundial producto de dicho proceso?
- I) La difusión de patrones locales de comportamiento.
 - II) La diversificación de las organizaciones que levantan demandas sobre problemas locales o internacionales.
 - III) La utilización de tecnologías digitales en la vida cotidiana.
- A) Solo I
 - B) Solo III
 - C) Solo I y II
 - D) Solo I y III
 - E) I, II y III

10. En la actualidad, las relaciones internacionales presentan características que las distinguen de aquellas manifestadas a mediados del siglo XX. ¿Cuál(es) de los siguientes rasgos caracteriza(n) el contexto internacional actual?

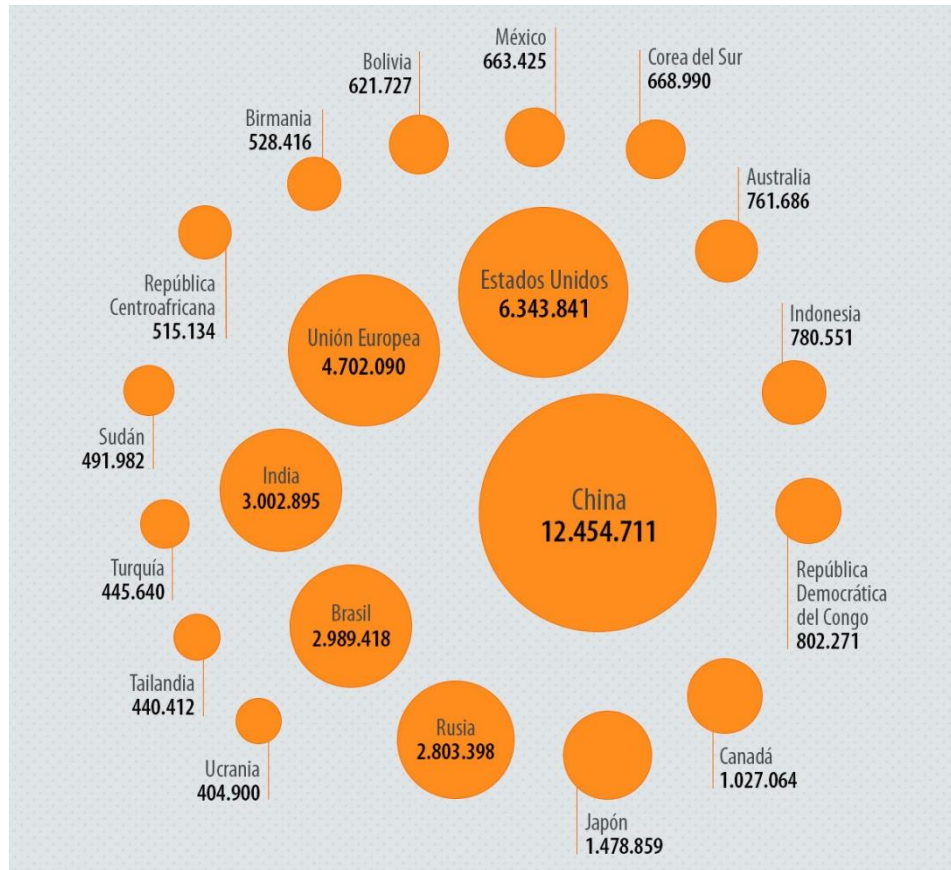
- I) El poder e influencia política que han alcanzado los grandes conglomerados multinacionales.
- II) La defensa de los Derechos Humanos como principal objetivo geopolítico de las grandes potencias.
- III) La estructuración de dos bloques ideológicos que dominan las grandes regiones del planeta.

- A) Solo I
- B) Solo II
- C) Solo III
- D) Solo I y III
- E) Solo II y III

11. En las últimas décadas, las distintas regiones del planeta se han visto enfrentadas a un proceso de creciente interrelación, conocido como globalización. Respecto de dicho proceso, ¿cuál es una de sus principales características culturales?

- A) La disminución del nivel educacional de la población.
- B) La masificación de las comunicaciones virtuales.
- C) La consolidación del acceso igualitario a la información.
- D) La consagración del uso de un idioma a nivel planetario.
- E) La extinción de las tradiciones locales.

12. PRINCIPALES EMISORES DE GASES DE EFECTO INVERNADERO EN EL MUNDO EN 2012 (EN MILES DE TONELADAS DE CO₂)



(Noticias del Parlamento Europeo en base a datos del Banco Mundial, 2018)

La imagen anterior proporciona información sobre una de las causas del deterioro medioambiental que afecta al planeta en la actualidad. A partir de su análisis, ¿cuál(es) de las siguientes afirmaciones es(son) correcta(s) respecto del fenómeno representado en la imagen?

- I) Los países industrializados son los que más emiten gases de efecto invernadero.
 - II) La superficie territorial de los países no es determinante respecto del volumen de emisiones de gases de efecto invernadero.
 - III) Los países que menos emiten gases de efecto invernadero se encuentran marginados del proceso de globalización económica.
- A) Solo II
B) Solo III
C) Solo I y II
D) Solo I y III
E) Solo II y III

13. Durante las últimas décadas, en el mercado laboral latinoamericano se ha observado una tendencia al aumento del empleo informal. ¿Cuál de las siguientes situaciones puede considerarse como una manifestación de dicha tendencia en Chile?
- A) El descenso de la subcontratación femenina.
 - B) El aumento de trabajadores sin seguridad social.
 - C) El aumento de obreros contratados en el sector fabril.
 - D) El incremento de la cantidad de trabajadores con jornada parcial.
 - E) El incremento de los jóvenes que trabajan con contrato indefinido.
14. La economía chilena ha experimentado un positivo crecimiento en los últimos veinte años, al punto de ser considerada como un ejemplo dentro de la región latinoamericana. En este contexto, ¿cuál es uno de los principales desafíos que tiene la economía chilena frente a las exigencias impuestas por el mercado internacional?
- A) El aumento del proteccionismo a la industria nacional.
 - B) El rápido fortalecimiento de las asociaciones gremiales.
 - C) La aplicación eficaz de políticas de desarrollo sustentable.
 - D) El mayor control del valor de las divisas por parte del Estado.
 - E) La disminución del volumen de trabajadores por cuenta propia.
15. Las surgencias son un fenómeno recurrente en algunos sectores del litoral chileno, caracterizado por ascensos a la superficie del océano de masas de agua fría ricas en nutrientes y biomasa, que se desplazan de sur a norte y se manifiestan, por ejemplo, en las costas de Iquique, Coquimbo, Valparaíso y Concepción. De acuerdo a la información anterior, ¿qué ventajas proporciona este fenómeno a la economía de las regiones en las cuales se manifiesta?
- A) La existencia de climas fríos que impulsan la actividad turística.
 - B) El desarrollo de la actividad pesquera artesanal e industrial.
 - C) El fortalecimiento de la navegación y el comercio marítimo.
 - D) La concentración de recursos mineros en el fondo oceánico.
 - E) La posibilidad de instalar puertos para navíos de alto tonelaje.

16. CHILE: CAPITAL FIJO SEGÚN CLASE DE ACTIVIDAD ECONÓMICA (EN MILLONES DE PESOS)

Actividad económica	Millones de pesos	Porcentaje
Agropecuarias, silvícolas y pesca	858.740	2,5%
Minería	10.262.065	30,2%
Industria manufacturera	1.914.343	5,6%
Electricidad, gas y agua	2.886.534	8,5%
Construcción	542.906	1,6%
Comercio, restaurantes y hoteles	2.013.406	5,9%
Transporte y comunicaciones	3.885.764	11,4%
Servicios financieros y empresariales	2.932.660	8,6%
Servicios de vivienda	4.825.056	14,2%
Servicios personales	1.315.764	3,9%
Administración pública	2.526.973	7,4%
Total (formación bruta de capital fijo)	33.964.211	100,0%

(www.bcentral.cl)

Basado en lo anterior, ¿qué característica(s) de la economía chilena es correcto concluir de la distribución de los datos?

- I) La explotación de recursos naturales es una actividad significativa en la composición del producto interno bruto.
 - II) La existencia de una gran inversión en las diversas actividades del sector servicios.
 - III) La preeminencia del Estado en el conjunto de las actividades económicas.
-
- A) Solo I
 - B) Solo II
 - C) Solo I y II
 - D) Solo I y III
 - E) Solo II y III

17. “Uno de los temas más controversiales en torno al desarrollo de la industria forestal es el relacionado con su impacto sobre el bosque nativo, ya que una buena proporción de las hectáreas plantadas en Chile [...] fue a costa de una disminución de la superficie de bosque nativo, por un proceso sostenido de sustitución. En el sector del río Maule y Cobquecura, entre las regiones del Maule y Bio Bio, se registró una reducción de bosque nativo equivalente a un 67% entre 1975 y 2000. Actualmente el proceso de sustitución continúa en las regiones de La Araucanía, Los Ríos y Los Lagos”. (revista.bosquenativo.cl).

El crecimiento del sector forestal exportador lo ha situado en el segundo lugar de las exportaciones totales de Chile después de la minería. A partir de la cita anterior, ¿cuál(es) es (son) el (los) desafío(s) que se infiere(n) para el sector forestal respecto del desarrollo sostenible?

- I) Mitigar los daños en los ecosistemas a través del reemplazo con especies arbóreas nativas.
- II) Limitar la plantación de especies exóticas para evitar la absorción de aguas subterráneas.
- III) Desconcentrar el área de desarrollo de la actividad forestal ampliándola a lo largo del territorio nacional.

- A) Solo I
- B) Solo II
- C) Solo I y II
- D) Solo II y III
- E) I, II y III

18. Desde el siglo XX a la actualidad, diversas ciudades de Chile y de Latinoamérica han crecido sin considerar una planificación urbana adecuada. Al respecto, ¿cuál(es) de las siguientes situaciones es (son) consecuencia(s) de dicha planificación?

- I) Las dificultades en los desplazamientos de la población entre los lugares de trabajo y los espacios habitacionales.
- II) La ocurrencia de desastres por la instalación de viviendas y servicios en áreas de riesgo.
- III) La ocupación de suelos que poseen gran capacidad agrícola para uso habitacional e industrial.

- A) Solo I
- B) Solo II
- C) Solo III
- D) Solo I y II
- E) I, II y III

19. El mundo contemporáneo experimenta una serie de problemas que afectan a distintos puntos del planeta. La inestabilidad política, los conflictos armados, el terrorismo, las pandemias o el aceleramiento del calentamiento global son algunos de los problemas que la humanidad enfrenta en la actualidad. ¿A qué fenómeno(s) se asocian estos problemas?

- I) A la incapacidad de algunos Estados nacionales para superar la herencia colonial.
- II) A las grandes brechas sociales y económicas que persisten en las sociedades.
- III) A la ausencia de acuerdos y normativa internacional en materia de salud pública.

- A) Solo I
- B) Solo II
- C) Solo I y II
- D) Solo I y III
- E) Solo II y III

DEMOCRACIA Y DESARROLLO

20. La ciudadanía se puede entender como un estatuto jurídico que permite acceder, entre otros, al ejercicio de los derechos políticos, entendiéndose por tales los que habilitan para intervenir en la conducción política del Estado. En este sentido, la Constitución Política de Chile establece en el Artículo 13 que “Son ciudadanos los chilenos que hayan cumplido dieciocho años de edad y que no hayan sido condenados a pena aflictiva”.

De acuerdo con la información anterior, ¿qué implica el ejercicio de la ciudadanía?

- I) La participación en los procesos electorarios.
- II) La posibilidad de presentar una candidatura a cargos de representación popular.
- III) El acceso a la educación pública primaria y secundaria.

- A) Solo I
- B) Solo III
- C) Solo I y II
- D) Solo I y III
- E) I, II y III

21. El conjunto de acciones efectuadas con la pretensión de impulsar el desarrollo local y fortalecer el sistema democrático, a través de la integración de la comunidad al ejercicio de la política y por medio de diversos organismos, constituye la base de la participación ciudadana. Considerando esta afirmación, ¿qué característica(s) tiene dicha participación?

- I) Facilita el desarrollo de diversos proyectos sociales del Estado.
- II) Mejora la transparencia y credibilidad del sistema político.
- III) Contribuye al mejoramiento de la gestión pública.

- A) Solo I
- B) Solo II
- C) Solo I y III
- D) Solo II y III
- E) I, II y III

22. “Y el Estado no ha sido ajeno, porque ha permitido que los espacios públicos se conviertan en los cotos de poder de los intereses que dominan al mercado y que ahora están bajo el dominio de los poderes fácticos”. (Ruperto Patiño, El Estado soberano y la globalidad).

En el texto anterior el autor alude a la existencia de poderes fácticos en la sociedad actual. De acuerdo con dicha posición y considerando el ámbito nacional, ¿cuál es una de las principales características de este tipo de poderes?

- A) Dictaminan la aplicación de las políticas públicas en el país.
- B) Influyen en el ejercicio del poder político.
- C) Financian legalmente los procesos electorales.
- D) Modifican las atribuciones de los poderes del Estado.
- E) Fijan los requisitos para ejercer el derecho a sufragio.

23. “El sistema electoral chileno debe ser modificado pues no constituye un sistema electoral mayoritario ni, por lo mismo, en general produce beneficios. Desde el punto de vista de la representación, por elección mayoritaria se debe entender la intención de capacitar a un partido o una coalición de partidos para que constituyan un gobierno apoyado en una mayoría parlamentaria, aun cuando no haya obtenido la mayoría absoluta de votos. El supuesto representativo de la elección mayoritaria es la consecución de la mayoría”. (Centro de Estudios para el Desarrollo (CED), Informe Número XII, Repasando las críticas del sistema electoral chileno).

El sistema electoral binominal fue objeto de diversas críticas desde su implementación en 1989 hasta su término en 2015. En relación con el texto, ¿cuál fue una de las principales críticas al sistema binominal que influyó en la decisión de cambiarlo?

- A) Negaba el derecho a participar a los partidos o movimientos políticos pequeños.
- B) Dificultaba la conformación de alianzas estratégicas entre diversos partidos.
- C) Evitaba que los candidatos más idóneos asumieran un cargo en el Congreso.
- D) Impedía que en algunos casos la mayoría de votos fuera respetada efectivamente.
- E) Producía una tendencia a la implementación de un régimen de carácter parlamentario.

24. En la democracia contemporánea chilena, los partidos políticos son fundamentales en la representación y gobernabilidad del sistema político. En este sentido, ¿qué rol(es) cumplen los partidos políticos en Chile?

- I) Servir de nexo entre la ciudadanía y el Estado.
- II) Competir por el poder en base a programas de gobierno.
- III) Garantizar el normal funcionamiento de los procesos electorarios.

- A) Solo II
- B) Solo III
- C) Solo I y II
- D) Solo II y III
- E) I, II y III

25.

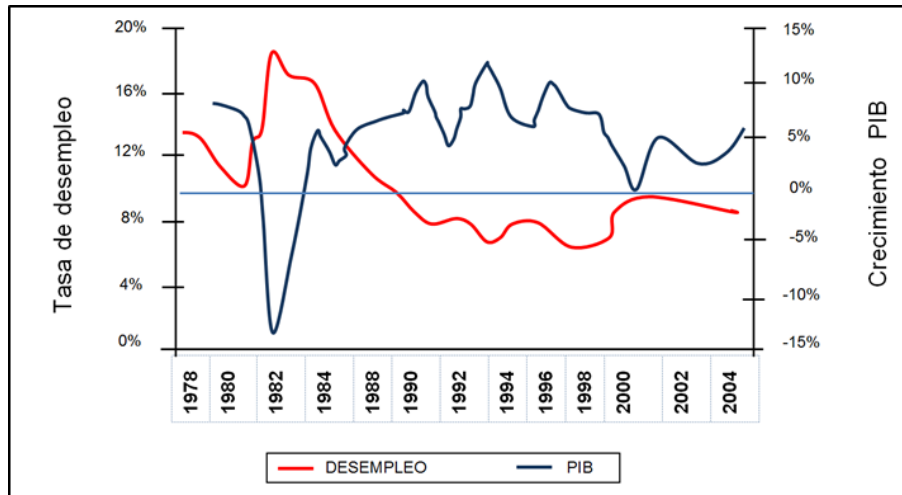


(El País, 2005 y MUMS, 2013)

Las imágenes anteriores muestran distintas manifestaciones públicas ocurridas en Madrid en 2005 y en Santiago de Chile en 2013. Esta última reivindicaba la inclusión de la diversidad social dentro de los marcos normativos que estaban vigentes en Chile en ese momento. ¿Cuál de las siguientes situaciones quedó en evidencia con el desarrollo de estas manifestaciones?

- A) La existencia de una presión ciudadana para transformar el sistema económico imperante.
- B) La emergencia de nuevos desafíos en una sociedad cada vez más heterogénea.
- C) La importancia que adquieren las minorías étnicas en los movimientos sociales.
- D) El fomento de prácticas fundamentalistas en el sistema político por parte del Estado.
- E) La exclusión explícita de algunos grupos de edad dentro de la Constitución Política.

26. DESEMPLEO Y CRECIMIENTO ECONÓMICO, 1978-2004 (EN PORCENTAJES)



(Luis Céspedes y Andrea Tokman, Evolución reciente del (des)empleo, 2005)

El gráfico anterior muestra la evolución del desempleo y del crecimiento económico en Chile entre 1978 y 2004. ¿Qué fenómeno económico es correcto inferir a partir de la información del gráfico?

- A) El descenso sostenido del desempleo producto de la introducción de las políticas económicas proteccionistas.
- B) La concentración del mayor crecimiento económico a partir de 1998 a causa de la internacionalización.
- C) La estabilidad del producto interno bruto conseguida gracias a las políticas de control del gasto fiscal.
- D) El desarrollo de una crisis económica y social producto de la recesión mundial de la década de 1980.
- E) La baja del desempleo debido a las medidas fiscales adoptadas desde 1990.

27. A comienzos de la década de 1990, los niveles de pobreza se situaban en torno al 40% de la población chilena, por lo cual, la superación de la pobreza ha sido un objetivo prioritario de la agenda pública del país. A partir del retorno a la democracia, ¿cuál ha sido un mecanismo utilizado por el Estado para cumplir con este objetivo?

- A) El fortalecimiento de las atribuciones del Banco Central.
- B) El estímulo a la contratación de créditos personales de consumo.
- C) La prohibición de aportes privados para las instituciones de beneficencia.
- D) El establecimiento de la obligatoriedad de contratar seguros.
- E) El fomento de la capacitación laboral a los trabajadores.

28. Chile, al igual que la mayor parte de los países del mundo, ha optado por aumentar la integración de su economía al comercio mundial. En este contexto, ¿cuál es uno de los principales impactos en el mercado del trabajo en Chile?
- A) La mayor generación de empleo en el sector primario exportador.
 - B) Una elevada sindicalización comparada con los países desarrollados.
 - C) Una gran influencia de las fluctuaciones de la economía internacional.
 - D) Los altos niveles de capacitación y especialización tecnológica.
 - E) La paridad de género en las distintas actividades productivas.
29. En los últimos años ha aumentado la participación de la mujer en el mercado laboral en Chile. ¿Cuál es uno de los principales factores que explican este fenómeno?
- A) La implementación de políticas públicas de apoyo a la mujer que es madre y tiene un trabajo remunerado.
 - B) Una legislación laboral que iguala los sueldos que reciben hombres y mujeres por igual función.
 - C) La superioridad numérica de las mujeres en cargos gerenciales.
 - D) Una disminución de la población masculina en edad de trabajar debido al envejecimiento demográfico.
 - E) Un masivo aumento de los puestos de trabajo considerados socialmente como femeninos.
30. Las relaciones entre trabajadores y empleadores están normadas por el Código del Trabajo y otras normas complementarias. En este sentido, ¿sobre cuál(es) de los siguientes aspectos tiene competencia la legislación laboral en Chile?
- I) La legitimidad de los contratos de trabajo.
 - II) La eficacia de los procedimientos de los Tribunales de Justicia.
 - III) El procedimiento de negociación colectiva de los trabajadores.
- A) Solo I
 - B) Solo II
 - C) Solo I y III
 - D) Solo II y III
 - E) I, II y III

CHILE Y AMÉRICA EN PERSPECTIVA HISTÓRICA

31. La conquista y colonización de América por parte de España fue un proceso que combinó los intereses generales de la Corona y aquellos particulares de los conquistadores y colonizadores. En su relación con el mundo indígena, los actores mencionados presentaron conductas diversas. Al respecto, ¿cuál(es) de las siguientes acciones fueron conductas desarrolladas por estos actores?

- I) La intervención de los conquistadores para repoblar el territorio solo con población europea.
- II) La explotación económica que los colonizadores ejercieron sobre la población indígena.
- III) La elaboración de una legislación por parte de la Corona con el propósito de otorgar protección a los indígenas.

- A) Solo I
- B) Solo III
- C) Solo I y II
- D) Solo II y III
- E) I, II y III

32. “Que las huacas [Santuarios u objetos sagrados] sean derribadas, y que en el mismo lugar, si fuere decente, se hagan iglesias o al menos se ponga una cruz”. (Primer Concilio Limense, 1551).

“Que los adoratorios de los caminos o ‘apachetas’ sean destruidos por los sacerdotes de cada distrito, y si le parece oportuno, pongan una cruz en su lugar”. (Segundo Concilio Limense, 1567. En Manuel Marzal, “La Cristianización del Indígena Peruano”. **Revista Allpanchis**, N°1, Perú, 1973).

Los textos anteriores corresponden a algunas disposiciones establecidas en los Concilios Limenses del siglo XVI, instancias que definían las líneas de acción a seguir por las autoridades religiosas españolas para cristianizar a los indígenas, y cuyas disposiciones afectaban a todo el Virreinato del Perú, incluido Chile. De acuerdo a estas disposiciones, ¿qué característica de las sociedades indígenas de la época aludida es correcto inferir?

- A) Mantenían sus antiguas ceremonias religiosas.
- B) Adoptaron el catolicismo como religión oficial.
- C) Practicaban actos de hechicería contra los españoles.
- D) Solicitaban la asistencia religiosa de clérigos hispanos.
- E) Fusionaron sus creencias con los cultos de origen africano.

33. En el contexto del periodo colonial, la Capitanía General de Chile reportó tanto beneficios como dificultades al Imperio Español. A partir del siglo XVII, ¿cuál fue una de dichas dificultades?

- A) El constante gasto de recursos materiales para mantener un ejército profesional.
- B) La carencia de recursos naturales suficientes para consolidar un sistema productivo.
- C) La existencia de un mercado de consumo difícil de satisfacer para los comerciantes debido a su gran cantidad de habitantes.
- D) El permanente conflicto con las autoridades locales debido a su lejanía respecto de la metrópoli.
- E) La falta de condiciones naturales adecuadas para implementar puertos marítimos seguros.

34. Durante el siglo XVII en Chile, los españoles ejecutaron una serie de acciones destinadas a enfrentar la resistencia mapuche. ¿Cuál de las siguientes medidas fueron implementadas en dicho siglo para fortalecer el dominio español en el territorio?

- A) La prohibición de la labor evangelizadora de la Iglesia.
- B) La incorporación masiva de mestizos sin formación militar al ejército.
- C) La ampliación de la zona de soberanía española al sur del río Biobío.
- D) La exclusividad en el financiamiento privado de las campañas militares.
- E) La definición de una línea fronteriza que contaba con fuertes defensivos.

35. “El cuadro demográfico que presentaba Chile en esos años se caracterizó por sus contrastes. En los extremos norte y sur del país la población no experimentó cambios significativos. Se mantenía la lengua [aymara y kunza] y las costumbres tanto de los andinos septentrionales como de los fueguinos. En los valles transversales y en la zona central el proceso de mezcla fue intenso. Desapareció rápidamente la lengua y modos de vida de los diaguitas, huarpes y picunches al fusionarse entre sí y cambiar bruscamente sus hábitos por el servicio personal al colono. Sin embargo, las reducciones sureñas de indios amigos (araucanos) conservaron sus antiguas costumbres”. (Horacio Zapater, **Huincas y mapuches**, 1997).

El texto presenta características de la composición social de Chile durante la Colonia, específicamente durante el siglo XVII. A partir de su análisis, ¿cuál(es) de las siguientes afirmaciones es (son) correcta(s) respecto de la situación descrita?

- I) El componente étnico de la población chilena era heterogéneo.
- II) Los españoles protegieron las costumbres de las culturas autóctonas procurando la preservación de sus tradiciones.
- III) La encomienda contribuyó a crear las bases de la población chilena.

- A) Solo I
- B) Solo I y II
- C) Solo I y III
- D) Solo II y III
- E) I, II y III

36. Durante el siglo XVIII, la política centralizadora y modernizadora de la dinastía borbónica modificó el sistema de flotas para el comercio con América, estableciendo el de los Navíos de Registro, que ampliaba el número de naves mercantes autorizadas. Al respecto, ¿cuál fue una de las consecuencias directas de esta nueva regulación para las colonias?

- A) La reducción de los impuestos a las manufacturas europeas.
- B) La formación de una alianza económica interamericana.
- C) El término definitivo del monopolio comercial español.
- D) El incremento de los bienes de consumo disponibles.
- E) La quiebra del conjunto de la industria local.

37. Las relaciones entre los mapuches y la Corona española durante la Colonia fueron dinámicas, adquiriendo características específicas según el periodo. En ese contexto, ¿cuál es una de las principales características que distingue al siglo XVIII respecto de los dos siglos anteriores?

- A) Se generalizó la práctica de establecer acuerdos de paz y comerciales entre ambas partes.
- B) Se acabaron los conflictos violentos entre españoles e indígenas en la zona fronteriza.
- C) Se produjo la ocupación definitiva del territorio mapuche por parte de la corona.
- D) Se intensificaron las incursiones hispánicas con el objetivo de esclavizar indígenas.
- E) Se fundaron pueblos al sur del Biobío con el objeto de evangelizar a la población nativa.

38. La Independencia americana fue un proceso multicausal, en el que se vieron involucrados factores tanto de orden interno como externo al régimen colonial español, los cuales se desarrollaron desde mediados del siglo XVIII. Respecto de los factores externos, ¿cuál(es) de los siguientes fenómenos favoreció (favorecieron) dicho proceso?

- I) El desarrollo de ideales republicanos en Norteamérica.
 - II) La difusión de doctrinas contrarias al absolutismo surgidas en Europa.
 - III) El abandono de las políticas monopólicas de la Corona.
- A) Solo I
 - B) Solo III
 - C) Solo I y II
 - D) Solo II y III
 - E) I, II y III

39. “Debería desaparecer en un suelo en donde sus magistrados solo tratan de extinguir la infelicidad en cuanto alcancen sus últimos esfuerzos; con todo, conciliando estos sentimientos con la preocupación y el interés de los actuales dueños de esta miserable propiedad acordó el Congreso que desde hoy en adelante no venga a Chile ningún esclavo y que los que transiten para países donde subsiste esta dura ley y se demoran por cualesquiera causa y permanecen seis meses en el Reino quedan libres por el mismo hecho”. (Miguel Arbiol, Chile 1810-1830, Una economía Postcolonial, 2010).

La cita anterior corresponde al preámbulo de la Ley de Libertad de Vientres de 1811. A partir de su análisis, ¿cuál de las siguientes opciones es una inferencia correcta respecto de los promotores de esta ley?

- A) Buscaban el apoyo popular a la emancipación nacional.
- B) Estaban fuertemente influidos por los principios ilustrados.
- C) Intentaban terminar con la pobreza existente en el territorio.
- D) Obstaculizaron los cambios de la sociedad chilena de la época.
- E) Condenaron las conductas abusivas sobre los encomendados.

40. “La democracia que tanto pregonan los ilusos, es un absurdo en los países como los americanos, llenos de vicios y donde los ciudadanos carecen de toda virtud como es necesaria para establecer una verdadera República. La monarquía no es tampoco el ideal americano: salimos de una terrible para volver a otra y ¿qué ganamos? La República es el sistema que hay que adoptar”. (Carta de Diego Portales a José Manuel Cea, 1822).

El texto anterior evidencia la postura favorable de Portales hacia la organización de una república en Chile. Con relación a esto, ¿cuál debía ser una de las principales características de la república según la visión de este político?

- A) Debía ser militar y con fuerte énfasis en el poder de los caudillos.
- B) Debía ser autoritaria y organizada en base a las ideas ilustradas.
- C) Debía ser liberal y con organizaciones populares de base.
- D) Debía ser socialista y centrada en el conflicto de clases.
- E) Debía ser tradicional y con presencia de las instituciones españolas.

41. Durante las primeras tres décadas de la organización de la República, Chile se insertó en mayor medida en el orden capitalista mundial. En este contexto, ¿cuál fue de una de las principales situaciones que contribuyó al aumento de la actividad económica exportadora de materias primas?
- A) La intervención del Estado en la regulación del precio de los productos importados.
 - B) La ampliación de la participación de extranjeros en las actividades comerciales.
 - C) La minimización de los efectos de las crisis económicas por el proteccionismo a la industria.
 - D) El incremento de la actividad agrícola producto de la demanda provocada por la apertura de oficinas salitreras.
 - E) El estancamiento de la actividad minera debido a que se priorizaron otras ramas de la economía.
42. Perú y Bolivia enfrentaron en conjunto a Chile en un conflicto bélico denominado por la historiografía chilena “Guerra contra la Confederación Perú-boliviana” (1833-1837). En relación con este conflicto, ¿cuál fue una de sus principales causas?
- A) La alianza contra Chile para desestabilizar su predominio comercial en la región y evitar su potencial hegemonía.
 - B) La ocupación de los entonces territorios chilenos de Tacna y Arica con la finalidad de extraer el guano.
 - C) La proclamación de guerra por parte del Presidente del Perú en conjunto con la captura del encargado de negocios de Chile.
 - D) La colaboración armamentista ofrecida a Bolivia por Estados Unidos basada en la Doctrina Monroe.
 - E) La conformación de una alianza militar entre la Confederación y la República Argentina.

43. “El sitio elegido para echar los primeros cimientos de la colonia Magallanes reúne la doble ventaja de ser útil a la navegación del Estrecho y a los trabajos agrícolas. [...] La defensa de la colonia contra los ataques de los indios, aunque muy pacíficos y en muy pequeño número, es muy fácil, [...]. Además, se encuentra allí siempre un buque de guerra del Estado, ocupándose en vigilar la costa, suministrar a la colonia los recursos de las comarcas del norte, dar auxilios y datos a los buques que hacen la travesía de los estrechos”. (Vicente Pérez Rosales, **Ensayo sobre Chile**, 1859).

En el transcurso del siglo XIX Chile aplicó una política de exploración e incorporación del territorio austral. A partir del análisis del texto anterior, ¿cuál es una de las principales características de ese proceso de exploración e incorporación territorial?

- A) Fue producto de la iniciativa de colonos particulares.
- B) Fue realizado en base al apoyo otorgado por extranjeros.
- C) Fue realizado fundamentalmente con apoyo logístico estatal.
- D) Tuvo como único objetivo controlar el Estrecho de Magallanes.
- E) Tuvo como base económica el trabajo de los indígenas en los lavaderos de oro.

44. Durante el siglo XIX el Estado chileno promovió diversas medidas de orden político, económico y social. Al respecto, ¿cuál(es) corresponde(n) a dichas medidas?

- I) La implementación del libre comercio.
- II) La colonización de territorios con inmigrantes europeos.
- III) La modernización de los transportes y vías de comunicación.

- A) Solo I
- B) Solo III
- C) Solo I y II
- D) Solo I y III
- E) I, II y III

45. El Estado chileno utilizó distintas estrategias en la expansión territorial realizada durante el siglo XIX, incorporando diversas etnias al territorio nacional. ¿Cuál(es) de las siguientes afirmaciones es (son) correcta(s) respecto al proceso anterior?
- I) El territorio mapuche fue concesionado a empresas explotadoras de ganado ovino.
 - II) El territorio de Rapa Nui (Isla de Pascua) fue anexado mediante la firma de un tratado con las autoridades del pueblo.
 - III) El territorio aymara fue incorporado como consecuencia de la ocupación militar durante la Guerra del Pacífico.
- A) Solo I
 - B) Solo I y II
 - C) Solo I y III
 - D) Solo II y III
 - E) I, II y III
46. En la segunda mitad del siglo XIX, Chile se vio afectado por una serie de cambios en la relación de la Iglesia Católica con el Estado. ¿Cuál fue una de las principales consecuencias de estos cambios?
- A) El aumento paulatino del poder de la Iglesia en ámbitos políticos y económicos.
 - B) La eliminación del carácter oficial que tenía la religión católica ante el Estado.
 - C) La promoción de la secularización del Estado limitando la influencia de la Iglesia.
 - D) La aprobación de reformas constitucionales para facilitar la participación de la Iglesia en la educación.
 - E) La aprobación de la ley que permitió la separación Iglesia - Estado.

47. En Chile durante la segunda mitad del siglo XIX la elite gobernante del país adquirió una tendencia plutocrática, aspecto que en parte le permitió consolidarse en el poder. ¿Qué factor marcó esta tendencia plutocrática de la elite chilena?
- A) La unión de las familias enriquecidas por la minería con la antigua aristocracia terrateniente.
 - B) El apoyo de los sectores populares debido a la extensión de la educación primaria obligatoria.
 - C) La politización de la burocracia estatal que ingresó a los partidos políticos oligárquicos.
 - D) La oposición al ascenso de la clase media originada en la expansión de la educación.
 - E) La integración de militares al Gobierno debido a la modernización del ejército.

48. “Los burgueses, encumbrados socialmente gracias a su éxito económico, poseían una mentalidad liberal, defensora de las libertades públicas, contraria al autoritarismo presidencial, enemiga de la influencia de la Iglesia y opuesta al espíritu conservador de la aristocracia tradicional [...] Los sectores medios, por su parte, tenían su origen en el desenvolvimiento económico del país, la expansión educacional, la ampliación de las funciones del Estado, la necesidad de servicios intermedios y la llegada de extranjeros. Formaron parte también de este sector de artesanos calificados, los comerciantes al detalle, los empleados del comercio, los ferroviarios, los técnicos de las faenas mineras, los funcionarios públicos y particulares, los oficiales del ejército y los profesionales surgidos al amparo de la educación estatal”. (Rafael Sagredo, Vapor al Norte, Tren al Sur. El viaje presidencial como práctica política en Chile. Siglo XIX, 2001).

Considerando el texto anterior, ¿cuál(es) de las siguientes situaciones forma(n) parte del proceso de transformación social de las últimas décadas del siglo XIX?

- I) El país experimentó una diversificación social.
 - II) La presencia de población inmigrante fomentó el crecimiento de la clase media.
 - III) Los nuevos grupos sociales se concentraron preferentemente en las zonas urbanas.
- A) Solo I
 - B) Solo II
 - C) Solo I y II
 - D) Solo II y III
 - E) I, II y III

49. A fines del siglo XIX la Cuestión Social era un problema nacional en Chile, asumido por los diversos sectores sociales y políticos, aunque desde puntos de vista muy diferentes para explicar sus causas y dar una solución. Uno de esos sectores propiciaba una mayor intervención del Estado en la regulación socioeconómica, mientras que otro desconocía la legitimidad del sistema de gobierno y creía en la llamada “acción directa” mediante la huelga y otras acciones de asociatividad comunitaria. ¿A qué sectores de la sociedad chilena representa cada una de las posturas descritas, respectivamente?

- A) Al Partido Radical y a los Anarquistas.
- B) Al Partido Democrático y al Mutualismo.
- C) Al Partido Conservador y al Sindicalismo.
- D) Al Partido Comunista y al Partido Liberal.
- E) Al Partido Obrero Socialista y a la Iglesia Católica.

50. “Es necesario modificar nuestro régimen de Gobierno; establecer un Ejecutivo que rija los destinos del país bajo su responsabilidad, y un Congreso que legisle y fiscalice; pero que no se inmiscuya en los actos de la Administración, porque esto trae como consecuencia el trastorno y equivale a socavar por sus cimientos las bases de la República.

En estos momentos rindo tributo a las fuerzas armadas de la República, por ese movimiento idealista que se confunde con las sentidas aspiraciones del pueblo, porque ellas han querido depurar nuestro régimen, y reconstruirlo sobre nuevas bases sólidas e inmovibles”. (Arturo Alessandri Palma, **El odio nada engendra, sólo el amor es fecundo**, 1925).

El texto corresponde a un fragmento del discurso pronunciado por Arturo Alessandri al asumir la presidencia del país tras seis meses de ausencia. De acuerdo con la visión expresada en este discurso, ¿cuál era el principal problema para la gobernabilidad del país?


- A) La subordinación del Poder Ejecutivo frente al Legislativo.
- B) La intervención en los asuntos políticos por parte de las Fuerzas Armadas.
- C) La composición oligárquica de los miembros del Congreso Nacional.
- D) La presión por reformas sociales que ejercían los sectores populares.
- E) La ampliación de las atribuciones políticas del Presidente de la República.

51. La década de 1930 en Chile fue un periodo de gran agitación política, producto de la irrupción de nuevos actores sociales que aspiraban a controlar el Estado. Durante este periodo ¿cuál(es) de los siguientes fenómenos se vincula(n) al contexto antes descrito?

- I) La participación de las Fuerzas Armadas en la política nacional.
- II) El afianzamiento de la influencia del Poder Legislativo que controló la labor del Ejecutivo.
- III) El desarrollo de grupos políticos que buscaban la representación de los sectores medios.

- A) Solo I
- B) Solo III
- C) Solo I y II
- D) Solo I y III
- E) Solo II y III

52. SEWELL, MEDIADOS DEL SIGLO XX



(www.imagenesdesewell.cl)

Sewell fue un complejo minero perteneciente al mineral de cobre El Teniente y, al igual que otras ciudades y campamentos mineros del siglo XX, se caracteriza por su emplazamiento geográfico. De acuerdo a lo que se observa en la imagen y considerando las características productivas de la gran minería de aquella época, ¿qué factor explica la localización de dicho complejo minero en las laderas cordilleranas de los Andes?

- A) La búsqueda de condiciones climáticas aptas para el desarrollo de las faenas mineras.
- B) Los estándares productivos y arquitectónicos establecidos por la corporación estatal del cobre.
- C) La necesidad de concentrar funciones urbanas e industriales en la zona de extracción del mineral.
- D) La desaceleración del proceso de urbanización en las ciudades cupríferas consolidadas por el modelo ISI.
- E) El establecimiento de los yacimientos mineros en zonas estratégicas para el ejercicio de la soberanía.

53. Hacia mediados del siglo XX, en la sociedad chilena se produjeron transformaciones que obligaron a los gobiernos de la época a responder ante las demandas de nuevos actores sociales. ¿Qué proceso(s) propició esta nueva realidad social?

- I) El crecimiento demográfico.
- II) El aumento de la marginalidad urbana.
- III) La progresiva incorporación de las mujeres a la vida política.

- A) Solo II
- B) Solo I y II
- C) Solo I y III
- D) Solo II y III
- E) I, II y III

54. Entre fines de la década de 1940 e inicios de la de 1960 se produjeron en Chile cambios en el sistema electoral que había caracterizado la vida política de las décadas anteriores. En este contexto, ¿cuál(es) de las siguientes situaciones tuvieron que enfrentar los partidos políticos?

- I) La reforma al sistema electoral.
- II) La incorporación de nuevos actores sociales a la participación política.
- III) El descontento de la población ante las problemáticas económicas y sociales.

- A) Solo I
- B) Solo III
- C) Solo I y II
- D) Solo I y III
- E) I, II y III

55. “Por un lado, los que trabajaban con técnicas surrealistas, nos llamaron conservadores: no se explicaban por qué para nosotros tenía una gran importancia la estructura del poema, y, en general, la arquitectura de la obra, y por qué nos atrevíamos a “contar” algo en la poesía; por otro lado, nos trataban de «escapistas» o mejor de «fugitivos», porque, según ellos, eludíamos los «candentes» problemas sociales y no seguíamos las aguas del realismo socialista. En otras palabras, los nuevos poetas chilenos eran blandos, intimistas, menores, se aferraban a las formas y carecían de las virtudes de sus mayores”. (Miguel Arteche, “Notas para la vieja y la nueva poesía chilena”, citado en Oscar Galindo, Antología e identidades de la poesía chilena hasta mediados del siglo XX, 2006).

El texto anterior fue presentado en el Primer Encuentro de Escritores Chilenos (1958) y refleja algunos elementos de la historia de Chile de mediados del siglo XX. A partir de su lectura y considerando el contexto de la época, ¿cuál(es) de los siguientes fenómenos era posible observar en la sociedad chilena de esa época?

- I) La incipiente polarización ideológica que experimentó la sociedad chilena.
- II) Las disputas que se produjeron entre generaciones sobre sus visiones en la creación artística.
- III) El involucramiento de los artistas de izquierda en los procesos políticos del periodo.

- A) Solo I
- B) Solo I y II
- C) Solo I y III
- D) Solo II y III
- E) I, II y III

56. En la década de 1960 la incidencia de la Revolución Cubana se manifestó en el continente americano. En relación con ello, ¿cuál fue uno de sus principales efectos en América Latina?

- A) La proliferación de grupos de izquierda que sostenían que la revolución debía hacerse por la vía armada.
- B) La instalación de gobiernos comunistas en diversos países de la región.
- C) El inicio del bloqueo económico a los países de la región impuesto por Estados Unidos.
- D) El desarrollo de políticas públicas liberales que redujeron la influencia del Estado en el continente.
- E) La disminución de las brechas de desigualdad por los intentos de mejorar la redistribución del ingreso.

57. Durante la primera mitad del siglo XX el Estado chileno implementó el modelo de Industrialización basado en la Sustitución de Importaciones. A pesar de sus buenos resultados iniciales, ya en la década de 1960 se evidenciaba un estancamiento en la economía nacional. Considerando lo anterior, ¿cuál fue una consecuencia económica producida en el corto plazo por el estancamiento de este modelo de desarrollo?
- A) El aumento de los índices de inflación.
 - B) La quiebra de las principales industrias nacionales.
 - C) La disminución de la productividad del sector agrícola.
 - D) La aplicación de políticas neoliberales por parte del Estado.
 - E) La diversificación de los productos no tradicionales de exportación.
58. A inicios de la década de 1960, Estados Unidos implementó una política para América Latina destinada a evitar la desestabilización política en los países más postergados de la región. Desde el punto de vista económico, entre otros aspectos, ¿qué objetivo se persiguió con las reformas estructurales?
- A) Nacionalizar los recursos mineros.
 - B) Privatizar las empresas estratégicas.
 - C) Restringir las inversiones extranjeras.
 - D) Redistribuir la gran propiedad agrícola.
 - E) Limitar las exportaciones e importaciones.
59. La política de Reforma Agraria en Chile fue abordada sucesivamente por los gobiernos de Jorge Alessandri, Eduardo Frei y Salvador Allende, teniendo distintas motivaciones, metodologías y objetivos. Considerando los dos primeros gobiernos, ¿en qué se diferenció la política de Reforma Agraria del gobierno demócratacristiano de Eduardo Frei respecto del gobierno de derecha que le precedió?
- A) En que contó con el apoyo del gobierno de EE.UU.
 - B) En que se organizó a través de instituciones estatales.
 - C) En que afectó a las propiedades de grandes terratenientes.
 - D) En que promovió la creación de grandes granjas colectivas.
 - E) En que favoreció principalmente a la población campesina indígena.

60. “Creo que el «golpe» en septiembre [...] era probablemente inevitable, y digo probablemente, porque en la historia no existen verdades taxativas ni sucesos que han de darse fatalmente. [...] Pero «sí era evitable» la terrible y larguísima dictadura militar que siguió y que fue la que dejó el trauma a todos los chilenos. La dictadura fue mucho más terrible y es más recordada que el golpe. Creo que al momento de éste, cerca de un 60% de los chilenos lo apoyaron, aunque muchos sin gran entusiasmo. El gobierno de la UP estaba agotado; las cifras de crecimiento (o mejor dicho decrecimiento), inflación, desabastecimiento, pero más que todo eso, la anarquía social y política, el desgobierno y el caos administrativo y político, no daban para más. El sectarismo de los partidarios del gobierno, y también de oposición, era infinito. Chile estaba dividido en dos sectores irreconciliables, más allá de cualquier acuerdo”. (www.latercera.com).

El texto precedente pertenece al historiador Cristian Gazmuri y fue publicado en 2013 con motivo de la conmemoración del Golpe de Estado del 11 de septiembre de 1973. Respecto de sus planteamientos, ¿cuál(es) de las afirmaciones es (son) correcta(s)?

- I) Mantiene una posición crítica tanto del gobierno de la Unidad Popular como de la Dictadura Militar.
- II) Considera que tras el golpe de Estado el Gobierno pudo haber ejercido el poder de manera distinta.
- III) Sostiene que el enfrentamiento creciente de la sociedad chilena de principios de la década de 1970 provocó irremediamente la crisis institucional.

- A) Solo I
- B) Solo I y II
- C) Solo I y III
- D) Solo II y III
- E) I, II y III

61. La Constitución de 1980 estableció un modelo de organización política que ha sido caracterizada como una democracia protegida. Esta denominación se basó en la presencia de una serie de disposiciones inéditas en la historia constitucional del país. Al respecto, ¿cuál fue una de estas disposiciones?

- A) La existencia de un Congreso de carácter bicameral.
- B) El rol tutelar de las Fuerzas Armadas en la institucionalidad.
- C) La prohibición al Poder Ejecutivo para disolver el Congreso.
- D) La imposibilidad de reelección del Presidente de la República.
- E) La designación de los jueces de la Corte Suprema por el Ejecutivo.

62.



(www.archivofortinmapocho.cl/imagenes/agrupacion-familiares-de-detenido-desaparecidos)

La imagen anterior corresponde a una manifestación hecha en diciembre de 1987, durante una liturgia de apoyo a los familiares de detenidos desaparecidos, en el contexto de la Dictadura Militar. Al respecto, ¿qué característica(s) del movimiento por la defensa de los Derechos Humanos en Chile es correcto inferir de dicha imagen?

- I) El protagonismo de la Iglesia Católica como espacio de acogida y protección a las víctimas.
 - II) La transversalidad del movimiento al convocar a diversos actores sociales.
 - III) La utilización de la no violencia como forma de lucha.
- A) Solo I
 - B) Solo II
 - C) Solo I y II
 - D) Solo II y III
 - E) I, II y III

63. La recuperación de la democracia en Chile dio inicio en 1990, a un nuevo periodo en la historia reciente del país. Durante los primeros 10 años posteriores al retorno de la democracia, ¿cuál es una de las características más sobresalientes de este periodo?

- A) La condena al conjunto de militares implicados en violaciones a los Derechos Humanos.
- B) El predominio de posturas políticas radicalizadas al interior de los partidos de gobierno.
- C) La inexistencia de tensiones en el marco de las relaciones entre civiles y militares.
- D) La mantención de la Constitución establecida durante la Dictadura.
- E) El desarrollo de transformaciones estructurales al modelo neoliberal.

64. De acuerdo con el Censo Agropecuario realizado por el Instituto Nacional de Estadísticas (INE) en 2007, la Región del Biobío contaba con un 47% de la superficie de su territorio destinado al uso forestal, un 26% a cereales y chacras, un 4% a cultivos industriales, un 2% a hortalizas y flores, un 3% a viñas y parronales, un 3% a frutales y un 15% a plantas forrajeras. Considerando estos datos, ¿cuál es uno de los factores que explican el predominio del uso forestal en esta región?

- A) La pérdida de la mano de obra especializada.
- B) La apertura económica a los mercados internacionales.
- C) El impulso del Estado al desarrollo de la actividad industrial.
- D) La aguda crisis que afecta a la actividad agrícola-ganadera.
- E) La contracción de la actividad carbonífera en la zona de Lota.

65.



(<http://www.sitio.municipalidadcollipulli.cl/?m=20150202>)

La foto corresponde a un anuncio que hizo la Municipalidad de Collipulli en febrero de 2015, informando que la Sociedad de Huertos de esa comuna requería contratar personal para la selección y embalaje de manzanas. Relacionando la imagen y la información entregada, con la implementación del modelo neoliberal en Chile, ¿qué transformación (transformaciones) de la estructura agraria del campo chileno se ha(n) producido?

- I) El reemplazo del antiguo latifundio por la empresa productora y exportadora de productos agrícolas.
 - II) El surgimiento de nuevas categorías de trabajadores agrícolas en reemplazo del antiguo sistema de inquilinaje.
 - III) La diversificación de la producción agrícola como respuesta a las necesidades del mercado interno.
-
- A) Solo I
 - B) Solo II
 - C) Solo I y II
 - D) Solo I y III
 - E) Solo II y III

66. El modelo económico neoliberal vigente en Chile ha provocado diversos impactos en el espacio geográfico, con ejemplos que pueden observarse en los procesos de reconversión de los espacios rurales, la reorganización espacial de los núcleos industriales y los patrones de localización de la población. Respecto de este último ámbito, ¿con cuál fenómeno es correcto asociar la lógica espacial neoliberal?
- A) La generación de ciudades socialmente integradas.
 - B) El término definitivo de las grandes haciendas rurales.
 - C) El lento crecimiento de las ciudades de tamaño medio.
 - D) La intensificación de la tendencia a la metropolización.
 - E) La expansión de la superficie destinada a campamentos mineros.

EL MUNDO EN PERSPECTIVA HISTÓRICA

67. Desde fines del siglo XIX, extensos territorios de África y Asia estuvieron dominados por el Imperialismo Europeo, lo que generó episodios de tensión entre las potencias imperialistas ante el temor de perder sus áreas de influencia, inversión y fuentes de riquezas. A partir del contexto descrito, ¿qué situación(es) se desencadenó (desencadenaron) a nivel mundial?
- I) La formación de alianzas entre potencias.
 - II) El estallido de un conflicto bélico de carácter mundial.
 - III) La confrontación ideológica entre dos superpotencias.
- A) Solo I
 - B) Solo I y II
 - C) Solo I y III
 - D) Solo II y III
 - E) I, II y III

69. La Primera Guerra Mundial fue el acontecimiento que dio inicio al siglo XX histórico e implicó importantes repercusiones. Respecto a las relaciones que se pueden establecer entre dicho conflicto y la Revolución Rusa, ¿cuál de las siguientes afirmaciones es correcta?

- A) La Revolución Rusa fue el resultado del marcado carácter ideológico que tuvo desde su inicio la Primera Guerra Mundial.
- B) La neutralidad de Rusia en la guerra impidió que la Revolución se extendiera a los países en conflicto.
- C) La Revolución Rusa fue producto de influencias políticas externas transmitidas a través del conflicto bélico.
- D) La participación de Rusia en el conflicto generó condiciones que favorecieron el desarrollo de la Revolución.
- E) La participación de Rusia en la guerra tensionó los conflictos nacionalistas que provocaron la revolución.

70.




(Pierre Renouvin, La Primera Guerra Mundial)

La fotografía corresponde a un combate de la Primera Guerra Mundial. En ella se advierte una situación novedosa, ya que introduce un elemento que incrementaría su importancia en los conflictos posteriores. ¿En qué radicó dicha novedad?

- A) En el uso generalizado de armas de fuego por parte de los combatientes.
- B) En la utilización de tecnología mecánica terrestre desarrollada en la Revolución Industrial.
- C) En la construcción de trincheras para defenderse de los ataques enemigos.
- D) En la destrucción de los recursos económicos del contrario para disminuir su capacidad de reacción.
- E) En la incorporación de los aviones como arma de combate.

71.



(www.claseshistoria.com/1guerramundial/consecuenciasociales.htm)

“De ella dependen sus vidas. Trabajadoras de municiones. Enrólese de inmediato”.

La Primera Guerra Mundial fue un conflicto bélico que tuvo características muy singulares, nunca antes vistas en guerras anteriores y que tuvieron importantes repercusiones a nivel mundial. A partir de la observación del afiche, ¿cuál fue una de esas características?

- A) La necesidad de reclutar mujeres para luchar en los diferentes frentes de combate.
- B) La masiva incorporación de la mujer al mundo laboral para aportar al esfuerzo de la guerra.
- C) La condición desfavorecida de la mujer respecto del hombre en los Estados en conflicto.
- D) El uso de nuevas armas de destrucción masiva, diseñadas a partir del desarrollo industrial.
- E) La relevancia que tuvo el papel de las mujeres en los cuerpos médicos durante el conflicto.

72. “La Liga de las Naciones, la organización internacional creada en París en 1919 para vigilar la seguridad colectiva, la resolución de las disputas y el desarme, fue incapaz de prevenir y castigar esas agresiones, mientras que los gobernantes británicos y franceses pusieron en marcha la llamada «política de apaciguamiento», consistente en evitar una nueva guerra [...] siempre y cuando no se pusieran en peligro los intereses de Francia y Gran Bretaña”. (Julián Casanova, Europa contra Europa 1914-1945, 2011).

El párrafo citado se refiere a un periodo determinado de la historia europea, caracterizado por el surgimiento y ascenso de nuevos movimientos sociales y políticos. Considerando el texto adjunto y los aspectos relevantes del periodo aludido, ¿cuál fue una de las razones que explica la situación planteada en la cita?

- A) La amenaza potencial a la democracia representativa que significaba el ascenso del comunismo en Rusia.
- B) La presión constante ejercida sobre los imperios centro europeos, por parte del nacionalismo eslavo de Europa Central.
- C) La expansión militar y económica del militarismo japonés en Asia, que amenazaba los intereses coloniales de Francia e Inglaterra.
- D) La debilidad del orden político europeo frente a las reivindicaciones territoriales de los fascismos emergentes.
- E) La presión sostenida de la Unión Soviética y sus aliados europeos por marcar supremacía en la Europa Central.

73. La mayor parte de los países del mundo tuvo que enfrentar la grave crisis que significó la Gran Depresión, la cual impactó internacionalmente a partir de 1929. En este contexto, ¿cuál fue una de las estrategias implementadas en diversos países para superar dicha crisis?

- A) La nacionalización de los recursos naturales estratégicos.
- B) La intensificación del intercambio comercial a nivel internacional.
- C) La creación de bancos estatales para potenciar el área financiera.
- D) La fijación de cuotas de la producción industrial entre las potencias.
- E) La aplicación de reformas que establecieron las bases del Estado de Bienestar.

74. Uno de los procesos de mayor relevancia durante el siglo XX fue el desarrollo de la Segunda Guerra Mundial, ¿cuál fue uno de los aspectos que caracterizó este conflicto?

- A) El ataque sistemático a la población civil como práctica para derrotar al enemigo.
- B) La participación exclusiva de los gobiernos de países europeos en la contienda.
- C) El uso de armas químicas como principal táctica militar para debilitar al adversario.
- D) El temor al enfrentamiento directo por la amenaza del uso de armas nucleares.
- E) El establecimiento de acuerdos para normar el respeto humanitario durante el desarrollo de los enfrentamientos.

75. “Esta ciudad de Houston, este estado de Texas, este país de los Estados Unidos no fueron construidos por quienes esperaban o descansaban y deseaban mirar detrás de ellos. Este país fue conquistado por aquellos que se adelantaron, y lo mismo sucederá con el espacio. [...] Porque los ojos del mundo ahora dirigen su mirada al espacio, a la luna y a los planetas que hay más allá, hemos prometido que no lo veremos gobernado por una bandera de conquista hostil, sino por un estandarte de libertad y paz. Hemos prometido que no veremos un espacio repleto de armas de destrucción masiva, sino de instrumentos de conocimiento y comprensión”. (Discurso del Presidente John F. Kennedy, 1962).

El desarrollo tecnológico, después de la Segunda Guerra Mundial tuvo una manifestación importante a través de la denominada carrera espacial. Considerando el contexto histórico y el contenido de la cita precedente, ¿qué objetivo(s) tuvo la carrera espacial emprendida por Estados Unidos?

- I) Vencer a la Unión Soviética en la conquista del espacio.
 - II) Establecer su superioridad tecnológica a nivel mundial.
 - III) Detener la proliferación de armas nucleares.
- A) Solo I
 - B) Solo II
 - C) Solo III
 - D) Solo I y II
 - E) Solo I y III

76. A nivel mundial, durante la segunda mitad del siglo XX se desarrollaron diversos modelos políticos de manera simultánea, uno de los cuales fue el socialismo. Considerando que este sistema tuvo varias formas de implementación en distintas regiones del mundo, ¿cuál fue una de las características comunes presente en sus distintas manifestaciones?

- A) La concentración del poder en un líder absoluto.
- B) La sucesión hereditaria del cargo de Jefe de Estado.
- C) El desarrollo de un régimen de múltiples partidos políticos.
- D) El mayor protagonismo del Estado en la toma de decisiones.
- E) La defensa de la libertad individual como un fundamento ideológico.

77. Durante la segunda mitad del siglo XX, el desarrollo histórico y político de América Latina se vio condicionado por la Guerra Fría. En este contexto, ¿cuál fue una de las acciones de política exterior que implementó Estados Unidos para eliminar la influencia soviética en la región latinoamericana?

- A) Obstaculizó el desarrollo de procesos de reforma agraria en los países latinoamericanos.
- B) Firmó acuerdos de cooperación económica con la mayoría de los países latinoamericanos.
- C) Estableció sanciones económicas a los países latinoamericanos que mantuvieran intercambios comerciales con el bloque oriental.
- D) Forzó la ruptura de relaciones diplomáticas entre los gobiernos latinoamericanos y las naciones de la esfera soviética.
- E) Estableció una alianza de cooperación científica con el conjunto de los Estados latinoamericanos.

78. En forma paralela a la Guerra Fría y, en parte debido a las consecuencias que esta misma ocasionó, se desarrolló un proceso de descolonización a escala mundial. Teniendo en cuenta las características de este proceso, ¿cuál(es) de los siguientes factores, explica(n) el desarrollo de estos movimientos independentistas en antiguos territorios coloniales?

- I) La influencia ejercida por la ONU, que fue partidaria de los procesos de autonomía e integridad territorial de las naciones.
- II) El retorno a la aplicación de políticas expansionistas por parte de los Estados europeos que resultaron derrotados en la Segunda Guerra Mundial, con el fin de impulsar su desarrollo económico.
- III) El apoyo militar y financiero que brindaron Estados Unidos y la Unión Soviética a los territorios dominados, debido a que su emancipación significaba la oportunidad de expandir sus zonas de influencia.

- A) Solo I
- B) Solo II
- C) Solo I y II
- D) Solo I y III
- E) I, II y III

79.



(<http://www.eleconomista.es>)

“El deseo de democratizar todos los sistemas políticos que rigen el mundo se ha convertido en una poderosa fuerza político-social de primer orden [...] Es evidente, por ejemplo, que la fuerza y la amenaza de la fuerza ya no pueden ni deben seguir siendo un instrumento de la política internacional [...]. La nueva etapa exige la no politización de las relaciones internacionales. Nosotros no renunciamos a nuestras convicciones, a nuestra filosofía y tradiciones, ni pretendemos que nadie renuncie a las suyas”. (Mijail Gorbachov, Discurso ante la Asamblea General de las Naciones Unidas, 1987).

La fotografía corresponde a una bandera de Rumania, sin el símbolo del comunismo que llevaba en su centro (1989), y el texto es parte del discurso de Mijail Gorbachov, ante la Asamblea General de la ONU en diciembre de 1987. A partir del análisis de la foto y el texto citado, ¿con qué hecho(s) se relaciona?

- I) El fin de la política de intervencionismo militar soviético.
 - II) La existencia de una oposición ciudadana contra el régimen comunista en los países de Europa del Este.
 - III) El abandono inmediato del comunismo como ideología en la Unión Soviética.
-
- A) Solo I
 - B) Solo II
 - C) Solo I y II
 - D) Solo I y III
 - E) Solo II y III

80. A fines del siglo XX se asistió a una serie de cambios relevantes para el desarrollo futuro de las relaciones internacionales. Uno de ellos fue el derrumbe de la Unión Soviética. ¿Qué consecuencia tuvo este proceso en el ámbito económico?
- A) La adopción de modelos de planificación centralizada en América Latina.
 - B) El establecimiento de tratados de libre comercio entre Rusia y EE.UU.
 - C) La disminución del comercio internacional entre Europa y Rusia.
 - D) La expansión de la economía de mercado en Europa del Este.
 - E) Una fuerte recesión económica en el continente asiático.

